


姓名：_____

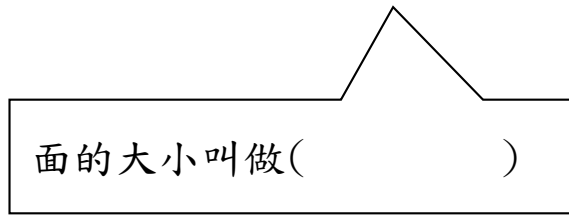
日期： / /

重點一：認識面積

拿出白色小積木排排看，這張卡片的面有多大？

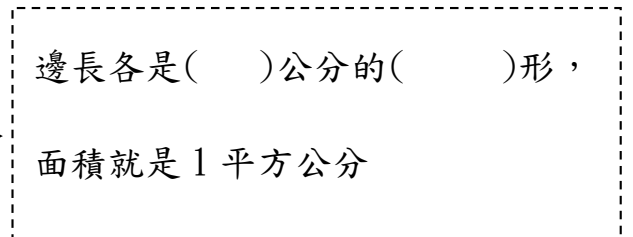


這張卡片和()個白色積木的面一樣大。



重點二：認識 1 平方公分


拿出白色小積木，把它的一個面描下來，在量量看，每邊幾公分




【練習】排排看，下面圖形的面積是幾平方公分



()平方公分



()平方公分




()平方公分

重點三：認識平方公分板

利用平方公分板量量看，下面圖形各是多少平方公分？



長邊是()公分
 短邊是()公分
 共有()個方格
 算式記作
 ()
 面積是()平方公分

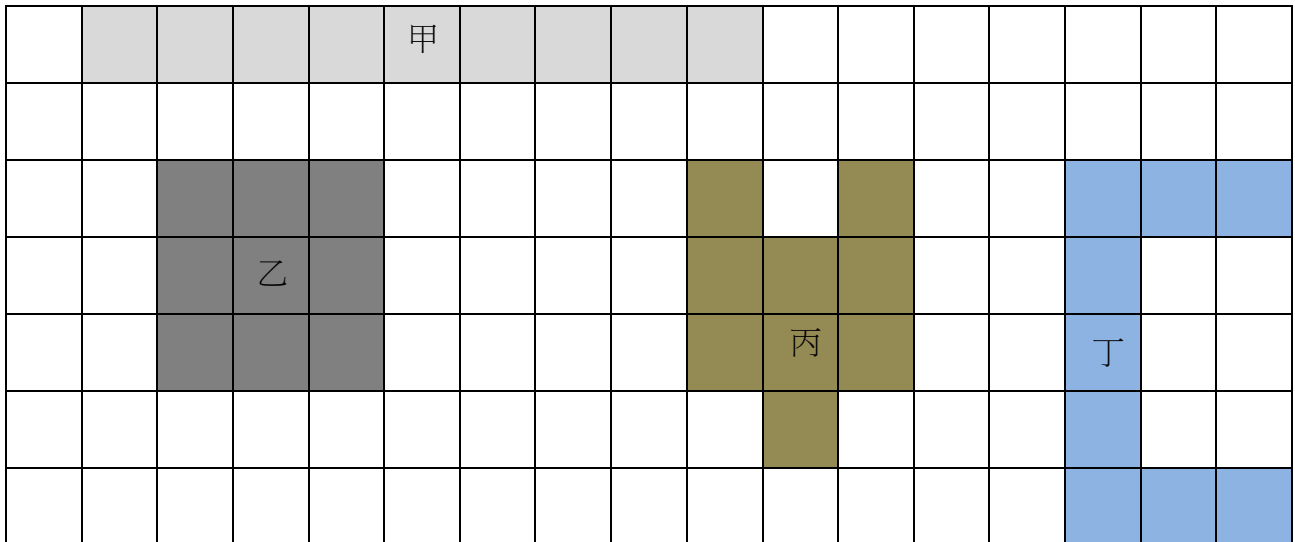


長邊是()公分
 短邊是()公分
 共有()個方格
 算式記作
 ()
 面積是()平方公分



長邊是()公分
 短邊是()公分
 共有()個方格
 算式記作
 ()
 面積是()平方公分

【練習】下面圖形面積是幾平方公分



甲的面積是()平方公分

乙的面積是()平方公分

丙的面積是()平方公分

丁的面積是()平方公分