

日期	01/21	科目	數學	班級	5 年 班	號	家長簽名	訂正狀況
範圍	每日數學五題							<input type="checkbox"/> 未訂正
姓名								<input type="checkbox"/> 已訂正

1. $7\frac{7}{16} - 6\frac{15}{24}$

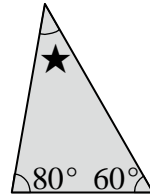
2. $3060 \div 15$

3. $8\frac{5}{16} - 4\frac{17}{24}$

4. $1890 \div 126$

5. $\frac{5}{6} + \frac{17}{20}$

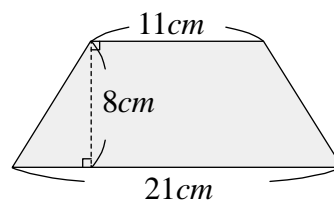
6. ★的角是多少度？



7. 3 日 17 時 $\times 4$

8. $569 \times 786 + 569 \times 214$

9. 下圖梯形的面積是多少？



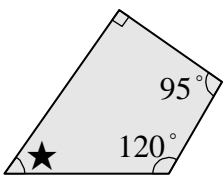
10. 439×300

11. $9361 \div 407$

12. $1\frac{1}{6} + 3\frac{1}{4}$

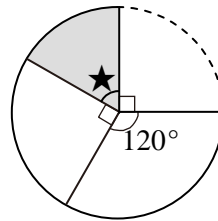
13. 1684×375

14. 下圖的四邊形中， $\angle \star$ 是幾度？



15. 493×361

16. 下面鋪色部分，扇形的圓心角 \star 是幾度？



17. $6930 \div 154$

18. $3.062 - 2.5834 = (\quad)$

19. 3658×150

$$20. \frac{9}{10} - \frac{3}{8}$$

$$21. 574 \times 325 \div 287 \div 5$$

$$22. 9999 + 998 + 97 + 6$$

$$23. 7712 \div 32$$

$$24. 125 \times 67 \times 8$$

$$25. 3\frac{7}{12} - \frac{3}{8}$$

$$26. 496 + 567 + 233 + 104$$

$$27. 428 \times 756 - 328 \times 756$$

$$28. 48 \times 39 + 48 \times 41$$

$$29. 36 \times 139 - 36 \times 89$$

$$30. 5565 \div 43$$

31. $2484 \div 108$

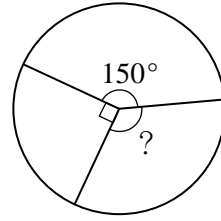
32. $4164 \div 347$

33. $38 \times 544 - 38 \times 444$

34. $\frac{2}{3} - \frac{1}{4}$

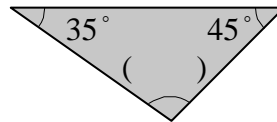
35. $935 \div 187$

36. 下面「？」是多少度？

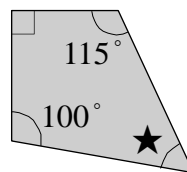


37. 6分17秒 $\times 7$

38. 下圖中所指出的角是幾度？



39. 算出★角的角度。



40. 4 時 32 分 $\div 17 =$ () 分

41. $\frac{7}{39} - \frac{1}{13}$

42. 6 時 37 分 $\times 2$

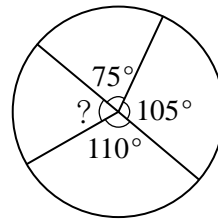
43. $5.04 - 2.7219 =$ ()

44. 2 時 17 分 $\times 9$

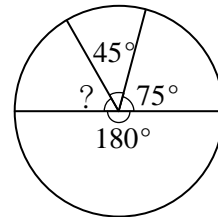
45. $865 - 143 - 257 + 335$

46. $900 \div 150$

47. 下面「？」是多少度？



48. 下面「？」是多少度？



49. $9600 \div 240$

50. 800000×700