

# 國小數學 4 下 第八單元 周長與面積 測驗 6/25

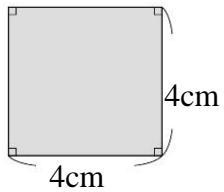
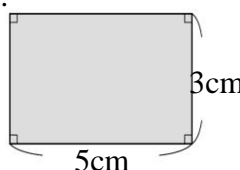
四年孝班\_\_\_\_號 姓名：\_\_\_\_\_

## 一、填填看。(每格 5 分，共 15 分)

- (1) 1 平方公尺 = ( ) 平方公分  
(2) 800000 平方公分 = ( ) 平方公尺
- 長 8 公尺、寬 6 公尺的長方形水池，用面積 1 平方公尺的正方形塑膠布，要( )塊才能鋪滿。

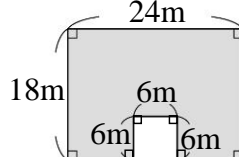
## 二、下圖的周長和面積各是多少？

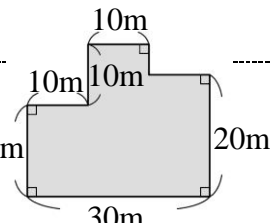
(每格 6 分，共 24 分)

- 
- 

## 三、算出鋪色部分的面積。


(每題 10 分，共 20 分)

- 

- 

## 四、看圖回答問題。(共 11 分)

這是佩佩畫的生日卡，機器人的臉和身體的面積各是多少平方公分？



(單位：公分)

## 五、把做法和答案記下來。

(每題 15 分，共 30 分)

- 玲玲布置教室，把 5 張長 100 公分、寬 80 公分的壁報紙連起來，面積一共是多少平方公分？也可以說是多少平方公尺？
- 百貨公司前有一面 80 臺電視機組成的電視牆，電視機每臺長 60 公分、寬 50 公分，這面電視牆的面積共是幾平方公尺？比 3 平方公尺大還是小？