

地理【第 1 回】社會 2 上 第一篇第 1 章「中國的自然環境」第 1 節

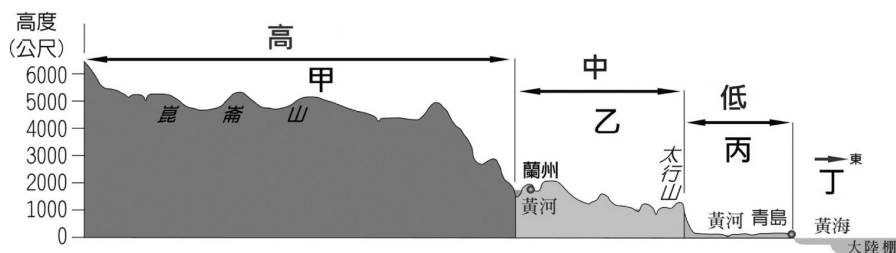
班級：_____ 座號：_____ 姓名：_____

一、單一選擇題：(每題 10 分，共 70 分)

1. (B) 中國面積廣大遼闊，地形複雜多樣，其中以哪種地形所占比例最高？ (A)高原 (B)山地 (C)盆地 (D)平原。
2. (A) 中國西半部的山脈走向，主要是受到哪兩個板塊擠壓的影響？ (A)印澳板塊—歐亞板塊 (B)非洲板塊—太平洋板塊 (C)歐亞板塊—太平洋板塊 (D)印澳板塊—菲律賓海板塊。
3. (A) 中國和西南方的印度及尼泊爾以喜馬拉雅山為國界，高大陡峭的山脈成為最佳的天然屏障。喜馬拉雅山位於中國哪一個地勢階梯？ (A)高階地形 (B)中階地形 (C)低階地形 (D)沿海離島區。
4. (D) 明代的楊慎曾經以「滾滾長江東逝水、浪花淘盡英雄」感嘆英雄像翻飛的浪花消逝。造成中國河川主要由西向東流的地理現象，與下列哪項因素有關？ (A)降水分布 (B)經濟發展 (C)經度差異 (D)地勢高低。
5. (D) 中國的中階地形，主要以哪兩大地形為主體？ (A)山地、盆地 (B)盆地、平原 (C)平原、丘陵 (D)盆地、高原。
6. (C) 下列哪個地形區內，因為地形封閉，盆底又受河川侵蝕切割，造成盆地內多梯田，農業發達？ (A)塔里木盆地 (B)藏南縱谷 (C)四川盆地 (D)黃土高原。
7. (B) 中國的高階地形以山地和高原為主，但也有盆地地形，下列何者位於其中？ (A)塔里木盆地 (B)柴達木盆地 (C)準噶爾盆地 (D)哈密盆地。

二、題組：(每題 10 分，共 30 分)

下圖為「中國地勢三階地形剖面圖」，看圖回答下列問題。



1. (B) 由圖中丁箭頭方向前進會遇到哪種景觀？ (A)沙漠 (B)海洋 (C)喜馬拉雅山 (D)丘陵。
2. (A) 由該地形剖面圖可推出哪個相關現象？ (A)河川由西向東流 (B)河川以南—北走向為主 (C)多東北—西南走向的山脈 (D)疆域廣大，鄰國眾多。
3. (B) 由剖面圖的剖面線判斷，圖中的甲、乙、丙分別是中國哪三個主要地形區？ (A)青藏高原、內蒙古高原、珠江三角洲 (B)青藏高原、黃土高原、華北平原 (C)內蒙古高原、黃土高原、東北平原 (D)內蒙古高原、雲貴高原、長江中下游平原。

地理【第2回】社會2上 第一篇第1章「中國的自然環境」第2節

班級：_____ 座號：_____ 姓名：_____

一、單一選擇題：(每題 10 分，共 50 分)

1. (C) 夏季時，中國除西半部的山地、高原外，全國普遍高溫，平均溫度都在 20°C 以上。西南部溫度偏低，主要受下列哪一項因素影響？ (A) 緯度 (B) 季風 (C) 地形 (D) 距海遠近。
2. (C) 若由中國東南沿海向西北內陸觀察，中國多項氣候資料的數值會呈現遞減的現象，但下列哪項數值卻反而是增加的？ (A) 年降水量 (B) 年均溫 (C) 年溫差 (D) 一月均溫。
3. (D) 中國東半部一月等溫線的分布有何特徵？ (A) 溫度由東向西遞增 (B) 溫度由東向西遞減 (C) 溫度由南向北遞增 (D) 溫度由南向北遞減。
4. (A) 若以秦嶺、淮河為中國地理上的重要分界線作為研究重點，以下哪些項目可以採用？甲、一月 0°C 等溫線；乙、年降水量 750mm 等雨量線；丙、溫帶與副熱帶；丁、七月 20°C 等溫線 (A) 甲乙丙 (B) 乙丙丁 (C) 甲丙丁 (D) 甲乙丁。
5. (C) 季風氣候的產生是因海陸性質差異，導致海陸氣壓系統不同、風向不同。冬季時氣壓及風向何者正確？ (A) 陸地氣壓低，風由海洋吹向陸地 (B) 陸地氣壓低，風由陸地吹向海洋 (C) 陸地氣壓高，風由陸地吹向海洋 (D) 陸地氣壓高，風由海洋吹向陸地。

二、題組：(每題 5 分，共 20 分)

右圖為「中國三大氣候分布圖」，看圖回答下列問題。

1. (C) 氣候特徵為冬冷夏涼，年溫差小，且氣溫及植被隨高度呈垂直變化的是 (A) 甲 (B) 乙 (C) 丙。
2. (A) 年降水量大於 500mm，分成熱帶、副熱帶、溫帶三種氣候類型的是 (A) 甲 (B) 乙 (C) 丙。
3. (B) 因距海遙遠，水氣無法進入，因而乾燥少雨，年、日溫差大的是 (A) 甲 (B) 乙 (C) 丙。
4. (A) 氣候溫和溼潤，適合居住與發展農業的是 (A) 甲 (B) 乙 (C) 丙。



三、填充題：(每空格 5 分，共 30 分)

1. 中國冬季南北溫差大，主要是受【 緯度 】影響。
2. 中國的三大氣候類型，分別是【 乾燥 】氣候、【 季風 】氣候、【 高地 】氣候。
3. 中國的乾燥氣候依降水量多寡，可分成【 溫帶草原 】氣候及【 溫帶沙漠 】氣候兩種，其降水量界線是 250mm。

地理【第3回】社會2上 第一篇第2章「中國的人口」第1節

班級：_____ 座號：_____ 姓名：_____

◆單一選擇題：(每題 10 分，共 100 分)

1. (D) 中國東南部傳統以米食為主，是受下列哪項因素的影響？ (A)傳統農業為旱作 (B)主要農作物是小麥 (C)地形坡陡流急 (D)氣候溫暖降水量多。
2. (B) 中國東半部人口密集，交通方便，產業較為發達，與下列何項因素關係最密切？ (A)礦產豐富 (B)地勢較低 (C)河川源頭 (D)氣候乾熱。
3. (C) 降水量少，氣候乾燥，環境負載力較低，因此人口稀疏，多集中在少數有水源的地方。以上敘述是中國哪個地區的人口分布情形？ (A)北半部 (B)東半部 (C)西半部 (D)南半部。
4. (C) 關於中國人口稠密區和人口稀疏區的自然環境介紹，何者正確？ (A)平原易淹水是人口稀疏區 (B)高原視野廣是人口稠密區 (C)綠洲、河谷平原取水容易，易聚集人口 (D)溼潤氣候區多水災，人口稀少。
5. (A) 中國哪種傳統民居的形式，是利用黃土密實、不易崩塌的特性挖鑿而成？ (A)窯洞 (B)騎樓 (C)蒙古包 (D)干欄式建築。
6. (C) 自然條件會對人類活動造成限制，下列有關中國傳統生活方式的敘述何者錯誤？ (A)農業區為人口精華區 (B)降水量少故採逐水草而居 (C)內陸地區無法發展農業 (D)河運興盛與否受緯度影響。
7. (B) 中國的季風氣候區以秦嶺、淮河為界，受降水量差異影響，南北出現不同的生活方式，下列選項何者正確？ (A)甲 (B)乙 (C)丙 (D)丁。

| 選項 | (甲)一月月均溫 | (乙)農業景觀 | (丙)飲食習慣 | (丁)交通方式 |
|----|----------------------|---------|---------|---------|
| 以北 | $>0^{\circ}\text{C}$ | 多旱田 | 多食稻米 | 水運為主 |
| 以南 | $<0^{\circ}\text{C}$ | 多水田 | 多食小麥 | 陸運為主 |

8. (C) 中國西半部的居民，傳統生活以畜牧業為生，最主要的影響因素為何？ (A)地勢高聳 (B)土壤貧瘠 (C)氣候乾燥 (D)宗教信仰。
9. (C) 中國人口分布具有明顯的空間差異，下列何者並非其影響主因？ (A)地勢高低 (B)氣候條件 (C)教育程度 (D)經濟發展。
10. (D) 在乾燥氣候區，牧民為了遷移方便，發展出來的居住方式為何？ (A)干欄式建築 (B)騎樓 (C)窯洞 (D)蒙古包。

地理【第 4 回】社會 2 上 第一篇第 2 章「中國的人口」第 2~3 節

班級：_____ 座號：_____ 姓名：_____

一、單一選擇題：(每題 10 分，共 90 分)

1. (D) 文化擴散指人口發生國內或國外移動，使移民者將原鄉文化帶到移居地，下列何者並非受華人遷移影響？ (A)臺灣的上海菜餐廳 (B)吉隆坡的唐人街 (C)印尼的布袋戲演出 (D)美國的奧斯卡獎。
2. (A) 中國歷史上經歷過許多次人口大量遷移，遷移原因與下列何者較無關？ (A)農耕技術提升 (B)發生戰爭 (C)人口增加太快 (D)糧食產量不足。
3. (C) 中國人口數位居世界前茅，在產業發展上因此有何種優勢？ (A)人口分布集中 (B)環境負載力高 (C)勞動力充沛 (D)資金充足。
4. (D) 明清時期遷移離開中國的華人，最可能有下列何種經歷？ (A)交通方式很多元 (B)遷移首選是美國 (C)大多數是新疆人 (D)在移居地的聚集之處形成唐人街。
5. (A) 有關環境負載力的敘述，下列何者正確？ (A)受糧食供應量影響 (B)與人口密度無關 (C)環境負載力不會變動 (D)會影響性別比。
6. (C) 中國為解決下列何項問題，在 1980 年代實施一胎化政策？ (A)人口分布不均 (B)人口老化 (C)人口成長過快 (D)貧富差距大。
7. (D) 中國實施一胎化政策，造成下列哪項人口的問題？ (A)人口素質下降 (B)人口密度上升 (C)社會增加率下降 (D)性別比上升。
8. (A) 中國 14 歲以下幼年人口的性別比為 121，所代表的意義為何？ (A)男生多於女生 (B)女生多於男生 (C)男生與女生人口相當 (D)男生扶養負擔重。
9. (D) 光棍節(11 月 11 日)是流行於中國年輕人的娛樂性節日，起源於一群男大學生找不到交往對象而自我解嘲(「光棍」的意思便是「單身」)。如果從節日流行的背景原因思考，此現象和下列何者關係最低？ (A)實施一胎化政策 (B)傳統觀念重男輕女 (C)性別比 > 100 (D)壯年人口比例提高。

二、填充題：(每空格 5 分，共 10 分)

中國宣布結束一胎化政策，是為了解決【**人口老化**】、【**勞動人口**】降低此兩項重要的人口問題。

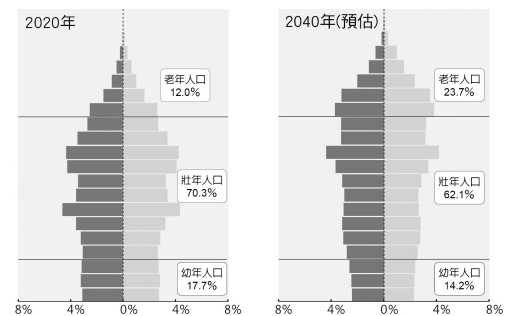
地理【第5回】社會2上 第一篇第1~2章(全)

班級：_____ 座號：_____ 姓名：_____

◆單一選擇題：(第1~7題每題10分，第8~9題每題15分，共100分)

- (B) 小明上網搜尋越南特色旅遊行程，其中他被某個以華人移居歷史為主題的行程吸引，此行程應該是下列何者？ (A)越南周邊遊：東巴市場—啟定陵—天姥寺 (B)西貢一日遊：三山會館—天后宮—唐人街 (C)市區一日遊：戰爭遺址博物館—統一宮—聖母大教堂 (D)自然生態遊：大叻達坦拉瀑布—竹林禪寺—保大夏宮。
- (D) 中國地形特徵之一為山多平原少，且山脈走向有東—西向、東北—西南走向等類型，這現象與下列哪個板塊關係最小？ (A)歐亞板塊 (B)印澳板塊 (C)太平洋板塊 (D)菲律賓海板塊。
- (A) 中國各地區的自然環境條件不同，影響當地的產業發展，例如：西部人口稀疏地區，多以何種產業活動為主？ (A)畜牧業 (B)農業 (C)商業 (D)漁業。
- (C) 中國人口分布極不平均，造成此現象的主要因素為何？ (A)植物、土壤 (B)政治、經濟 (C)地形、氣候 (D)氣候、植物。

- (D) 右圖為「2020和2040年中國人口金字塔圖」，從圖中無法看出哪種人口問題？ (A)幼年人口比例漸減 (B)老年人口比例漸增 (C)壯年人口比例降低 (D)教育程度低落。



- (C) 中國地勢西高東低所產生的影響，不包括下列何者？ (A)大部分河川由西向東流入太平洋 (B)自古東、西向水運發達 (C)熱帶、副熱帶、溫帶氣候具備 (D)海洋水氣得以深入內陸。
- (D) 中國政府善用標語來宣導政策，例如：「一對夫妻一個寶，生活富裕少煩惱」、「少生孩子多種樹，少養孩子多養豬」。當時這些標語所要達成的目標為何？ (A)縮小城鄉差距 (B)提高教育水準 (C)解決缺工問題 (D)減緩人口成長。

- (B) 右圖為「中國三大氣候區分布圖」，對其各區氣候的描述，下列何者正確？ (A)甲區氣溫及天然植被呈垂直變化 (B)乙區乾燥少雨，年、日溫差大 (C)丙區氣候溫和溼潤，農業發達 (D)丙區平均溫度比同緯度高。



- (B) 中國宣布結束一胎化政策，是希望藉由此政策解決哪些問題？甲、人口老化；乙、勞動人口降低；丙、人口素質不均；丁、城鄉人口流動 (A)甲丁 (B)甲乙 (C)乙丙 (D)丙丁。

地理【第 6 回】社會 2 上 第一篇第 3 章「中國的產業活動與轉型」第 1 節

班級：_____ 座號：_____ 姓名：_____

◆ 單一選擇題：(第 1~7 題每題 10 分，第 8~9 題每題 15 分，共 100 分)

1. (B) 中國在經濟發展的過程中，第二、三級產業就業人口比例已超過第一級產業，但仍然相當重視農業活動的發展狀況，這和下列何者關係最為密切？ (A)面積廣大 (B)人口眾多 (C)產業升級 (D)出口貿易。
2. (C) 近年來，中國的經濟快速發展，傳統自給性農牧業面臨轉型，朝向下列何種方向發展？甲、商品化；乙、粗放化；丙、專業化；丁、機械化 (A)甲乙丙 (B)甲乙丁 (C)甲丙丁 (D)甲乙丙丁。
3. (B) 水資源分配不均是中國農業發展所面臨的挑戰之一，下列哪些因素可能會影響水資源的分配？甲、人口增長；乙、工業快速發展；丙、農業技術提升；丁、年降水量分布不均 (A)甲乙丙 (B)甲乙丁 (C)甲丙丁 (D)乙丙丁。
4. (D) 前中共國務院總理朱鎔基一句「農民真苦、農村真窮、農業真危險」，點出中國農業的困境。中國農業的問題不包括下列何者？ (A)人均可耕地面積小 (B)水資源分配不均 (C)耕地環境惡化快速 (D)糧食作物需求提升。
5. (C) 中國國土面積廣闊，高居世界第 4 位，但目前的每人平均可耕地面積只有世界平均值一半，導致土地資源有限的主要因素為何？ (A)人口多、疆域小 (B)氣候炎熱、平原小 (C)人口多、平原少 (D)土壤貧瘠、疆域小。
6. (B) 中國農業生態環境不斷惡化，中國政府可能推行下列哪些方案？甲、使用環境污染監測系統；乙、提升農民環保意識；丙、提高化學肥料的使用率；丁、從源頭管制污染物 (A)甲乙丙 (B)甲乙丁 (C)乙丙丁 (D)甲乙丙丁。
7. (A) 中國傳統農牧業的轉型，如糧食作物減少、花卉水果栽培增加、商業性畜牧業的發展等，與下列何者關係最大？ (A)市場需求 (B)政策要求 (C)氣候變遷 (D)水源改變。
8. (C) 中國在實施經濟改革開放以後，對於傳統農、牧業活動的影響甚大。有關中國多年來農、牧業活動的轉變，下列何者正確？ (A)作物改以種植水稻、小麥為主 (B)農牧業產品轉為以自給性為主 (C)糧食作物等栽種面積比例逐漸減少 (D)農、牧土地使用面積大為增加。
9. (B) 2018 年非洲豬瘟疫情在中國爆發並迅速傳播，「豬」成為熱門話題。有學者指出一般非洲豬瘟的傳播每年僅約 100 公里，中國卻不到半年即從東北瀋陽傳播到幾千公里外的廣東和福建，一發不可收拾造成嚴重影響。中國的非洲豬瘟爆發快速，與下列何者有密切關係？ (A)環境污染嚴重 (B)高密度養殖方式 (C)過度使用飼料添加劑 (D)水資源缺乏。

地理【第 7 回】社會 2 上 第一篇第 3 章「中國的產業活動與轉型」第 2 節

班級：_____ 座號：_____ 姓名：_____

◆ 單一選擇題：(每題 10 分，共 100 分)

1. (D) 1978 年是中國很關鍵的一年，改革開放政策正式施行，下列何者並非中國改革開放成功吸引外國資源的原因？ (A)廉價勞工 (B)低廉土地成本 (C)設立經濟特區 (D)具備關鍵技術。
2. (C) 改革開放後，中國的區域差異增大，下列有關東部沿海地區的發展敘述，何者錯誤？ (A)改革開放成果集中在此區 (B)政府提出東部率先發展政策 (C)東部發展能直接帶動西部開發 (D)東部有對外交通優勢。
3. (A) 中國有一經濟區屬於傳統重工業重心，但隨著礦產減少、設備老舊，產業發展趨緩，急需轉型。中國政府針對此區提出何項政策？ (A)東北振興 (B)東部率先發展 (C)中部崛起 (D)西部開發。
4. (A) 中國從 2010 年以來便取代日本成爲世界第二大經濟體，目前僅次於美國，然而發達的經濟活動卻造成了東西兩側的區域發展不均，形成未來的隱憂。造成上述這種現象的主要原因爲何？ (A)對外交通 (B)季風風向 (C)人口素質 (D)礦產分布。
5. (D) 李祥是知名運動品牌「NIKE」的員工，他說他們的工廠大多集中在中國東南沿海。NIKE 工廠集中於此的原因，不包括下列哪一項工業區位的優勢？ (A)勞工 (B)政策 (C)交通 (D)動力。
6. (C) 中國經濟發展過程中，主要集中於東部地區，工商業發展相當快速。東部地區發展的有利因素中不包括下列何者？ (A)交通便利 (B)海岸線長 (C)陸地鄰國眾多 (D)對外聯絡方便。
7. (A) 中國政府於 1980 年代開始於東部沿海地區發展經濟活動，成爲今日中國經濟發展的火車頭。在 1980 年代時，中國設立何種單位以發展相關工業？ (A)經濟特區 (B)特別行政區 (C)科學園區 (D)中心商業區。
8. (A) 1980 年代中國實施經濟改革開放，工商業快速成長。目前中國的經濟發展過程中，以下列哪一個經濟區的發展情況最佳？ (A)東部地區 (B)中部地區 (C)西部地區 (D)東北地區。
9. (C) 中國近年來正積極推動「西部開發」政策，希望加速西部地區的經濟發展，減少區域發展不均的問題。目前中國西部地區經濟發展最不利的條件爲下列何者？ (A)面積狹小 (B)缺乏原料 (C)交通不便 (D)缺乏鄰國。
10. (A) 經濟特區的設立，成功的帶動中國經濟結構的轉變，對於「經濟特區」的敘述，下列何者不正確？ (A)管理經驗佳 (B)提供廉價勞工 (C)多爲加工出口區 (D)大多位於沿海海運便利。

地理【第 8 回】社會 2 上 第一篇第 4 章「中國的經濟發展與全球關聯」第 1 節

班級：_____ 座號：_____ 姓名：_____

◆ 單一選擇題：(每題 10 分，共 100 分)

1. (A) 中國在 2010 年 GDP 超越哪個國家，成為世界第二大經濟體？ (A)日本 (B)德國 (C)法國 (D)美國。
2. (C) 選擇工廠設置的最佳地點，讓工廠的生產成本降至最低，因而獲取最大利潤。工廠考慮的因素大致包括：原料、勞工、交通、市場、動力、資金、技術與政策等。上述工業區位中，中國整體具備的優勢為何？ (A)勞工、交通 (B)原料、動力 (C)勞工、市場 (D)技術、資金。
3. (B) 在中國經濟崛起後，和我國的經貿關係日益密切，因此也吸引許多臺商前往當地投資。近年來臺商投資設廠的產業類型可能會是下列哪一類？ (A)紡織工業 (B)工業機械業 (C)食品加工業 (D)製鞋工業。
4. (D) 受新型冠狀病毒疫情的影響，中國工廠製造的汽車零件因停廠而無法出貨，連帶影響到日本、南韓、歐洲等國家的汽車生產線，可以推測出下列哪一項敘述？ (A)汽車屬於勞力密集產業 (B)多個國家分工生產汽車 (C)中國製造的零件品質佳 (D)世界對中國世界工廠的依賴度深。
5. (C) 承上題，下列哪一個選項，是企業決策者可以對中國方面採取的行動，以降低對企業的衝擊？ (A)要求中國政府提供停業津貼 (B)終止對中國所有的貿易往來 (C)逐漸轉移生產線到其他國家 (D)安排全體員工身體健康檢查。
6. (B) 中國境內的國內生產毛額與日俱增，尤其勞動權益提升後，薪資水準大為上升，更增強其消費能力，目前整體消費支出近世界總額的 14%，堪稱為下列何者？ (A)世界勞工 (B)世界市場 (C)世界工廠 (D)世界都市。
7. (C) 下列哪一個產品組合，最有可能是由 1980 年代的中國工廠所製造？ (A)手機、電鍋 (B)汽車、帽子 (C)成衣、鞋子 (D)平板、機車。
8. (D) 中國近年興起網路購物節，每年消費的金額皆大幅度增加，這與下列哪一種產業活動最為相關？ (A)加工出口 (B)精緻農業 (C)觀光旅遊 (D)電子商務。
9. (A) 中國曾經有廉價的勞力而被稱為「世界工廠」，中國的勞力資源面臨下列哪個困境？ (A)基本工資提升 (B)勞工權益下降 (C)高階人才豐富 (D)教育水準提升。
10. (B) 立陶宛因設立臺灣代表處遭中國抵制，同樣從立陶宛出口的德國汽車零件供應商德國馬牌也被中國海關封鎖，引發在立陶宛設有工廠的跨國企業擔憂。各跨國企業害怕受到中國抵制，是因為中國在國際貿易中扮演什麼樣的角色？ (A)最大製造工廠 (B)重要消費市場 (C)最新研究中心 (D)一帶一路發起國。

地理【第9回】社會2上 第一篇第4章「中國的經濟發展與全球關聯」第2節

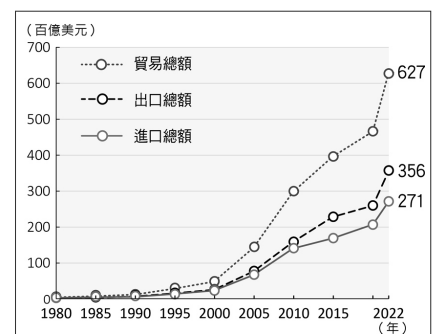
班級：_____ 座號：_____ 姓名：_____

一、單一選擇題：(每題 15 分，共 90 分)

- (D) 中國鼓勵本國企業對外投資，大量併購半導體產業，是爲了補足該產業目前欠缺的哪一項資源？ (A)土地 (B)人才 (C)資金 (D)技術。
- (B) 新聞報導：「中國珠三角製造業出現倒閉潮！由於生產成本提高，約有一半的東莞臺資工廠歇業或遷移到中國內陸、東南亞等地，當地在農曆新年前至少有上百家製鞋、紡織等大型工廠倒閉或停產。」上述現象，是由於中國何項因素的改變而導致的？ (A)工業汙染 (B)工資上漲 (C)勞力短缺 (D)電力不足。
- (B) 亞洲基礎設施投資銀行（簡稱亞投行），是一個向亞洲各國提供資金以支持基礎設施建設的開發機構，目的在促進亞洲的建設和經濟，並且加強中國及其他國家的合作。亞投行成立目的，與下列哪一項中國近代經濟政策或構想最爲接近？ (A)經濟特區 (B)一帶一路 (C)改革開放 (D)中部崛起。
- (A) 「一帶一路」政策除了鞏固中國與周邊國家的關係，也可以此解決中國國內目前所面臨的問題，這些問題包含下列哪些？甲、產能過剩；乙、能源供給；丙、商貿市場；丁、資金短缺 (A)甲乙丙 (B)甲乙丁 (C)乙丙丁 (D)甲乙丙丁。
- (B) 中國爲了擴大區域間的經濟合作，推出「一帶一路」政策。一帶一路沿線國家所歸屬的區域不包括下列何者？ (A)歐洲 (B)北美 (C)南亞 (D)非洲。
- (C) 聯合國《2021 年世界投資報告》顯示：「2020 年，美國是全球最大的外國直接投資接受地，其次是中國、香港和新加坡。在對外投資貢獻方面，中國居首位，其次是盧森堡和日本。」根據上文，下列敘述何者正確？甲、中國爲全球主要資金流出及流入國；乙、中國爲接受外國直接投資金額最多的國家；丙、中國對外國的投資金額爲全球最多 (A)甲乙 (B)乙丙 (C)甲丙 (D)甲乙丙。

二、題組：(每題 5 分，共 10 分)

右圖爲中國的進出口貿易總額統計圖，中國在經濟改革開放後，逐漸成爲世界主要生產基地後，進而帶動全國的經濟發展，30 年後中國成爲各國兵家必爭之地的「世界市場」，貿易總額逐年攀升。



- (B) 右圖中，中國從 1980 年開始，成爲主要生產基地的「世界工廠」，而使出口總額大幅增加。當時中國經濟發展的有利條件中，不包含下列何者？ (A)設立經濟特區 (B)國內資金多 (C)豐富的天然資源 (D)廉價的勞工。
- (A) 若依右圖中的貿易數據變化加以判斷，中國經濟改革開放後主要的貿易狀況爲何？ (A)貿易出超 (B)貿易平衡 (C)貿易入超 (D)進口爲主。

地理【第 10 回】社會 2 上 第一篇第 3~4 章 (全)

班級：_____ 座號：_____ 姓名：_____

◆ 單一選擇題：(每題 10 分，共 100 分)

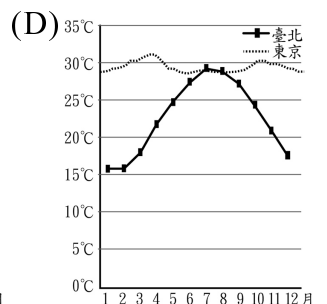
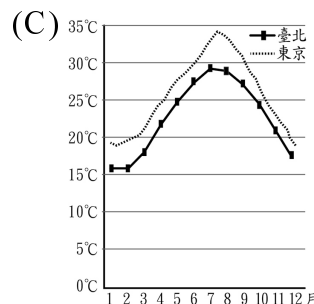
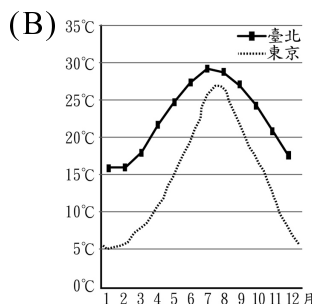
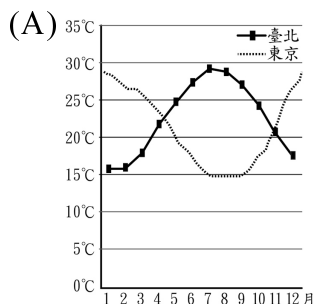
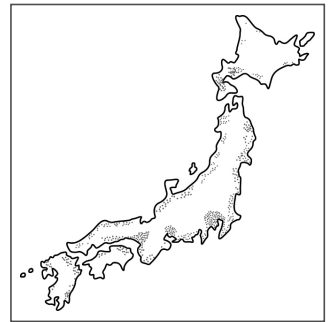
1. (C) 中國目前人均可耕地面積不大，其主因為何？甲、疆域面積廣大；乙、地形起伏較大；丙、人口數較多；丁、日照不足 (A)甲乙 (B)丙丁 (C)乙丙 (D)乙丁。
2. (A) 中國的農業活動因具備下列哪一項條件，因此在今日工商業快速發展的過程中，仍為中國境內重要的基礎產業？ (A)糧食供應 (B)出口產品 (C)工業原料 (D)環境保育。
3. (D) 中國自 1980 年代實施經濟改革開放以後，市場需求出現改變，導致農作物的生產出現下列哪一種變化？ (A)經濟作物改種糧食作物 (B)溫帶作物改種熱帶作物 (C)作物進口改為作物出口 (D)糧食作物改種經濟作物。
4. (B) 下列有關中國經濟快速發展的過程當中，不同區域發展的敘述，哪項最為正確？ (A)東部農民工大量湧入經濟發展迅速的西部都市，爭取就業機會 (B)高經濟成長主要出現在沿海地區，造成區域發展差距加大 (C)為平衡南北間之差距，中國政府於華南地區設立經濟特區 (D)東北地區因有良好的工業基礎，成為最發達的金融商業區。
5. (D) 中國目前已成為全球經濟發展的新興國家，國內生產毛額位居世界第 2 位。有關中國目前的經濟發展特色，下列敘述何者有誤？ (A)實施改革開放政策 (B)國內市場廣大 (C)設立經濟特區 (D)內陸發展快速。
6. (B) 中國在經濟發展過程中，受到哪項因素影響，使其擁有成為「世界市場」的潛力？ (A)生產品質提高 (B)消費市場廣大 (C)對外交通便利 (D)國土面積廣大。
7. (D) 中國曾有「世界工廠」的稱號，當初其吸引眾多外資前往設廠製造的有利條件為下列哪些？甲、電力充足；乙、土地成本低；丙、礦藏豐富；丁、工資低廉 (A)甲乙 (B)丙丁 (C)甲丙 (D)乙丁。
8. (D) 上海迪士尼樂園是繼香港後，中國境內的第二座迪士尼樂園，設計理念圍繞著「原汁原味的迪士尼但是具有獨一無二的中國味」。迪士尼樂園在中國就設立了兩座，主要是看上中國哪項優勢？ (A)水電動力充足 (B)勞工工資低 (C)具獨特文化 (D)市場潛力大。
9. (B) 中國推動一帶一路政策的目的是為何？甲、強化各參與國的基礎建設；乙、消化國內過剩的產能；丙、吸引參與國的投資；丁、獲得穩定的能源供給 (A)甲乙丙 (B)甲乙丁 (C)乙丙丁 (D)甲乙丙丁。
10. (C) 斯里蘭卡政府因為無法償還中國建造漢班托塔港的債務，將該戰略港口的管理權以 99 年租約的形式移交給中國公司。這起事件，說明一帶一路參與國所必須承擔的風險有哪些？甲、侵蝕國家主權；乙、缺乏透明度；丙、負面環境影響和政治腐敗；丁、龐大的財務負擔 (A)甲乙 (B)甲丙 (C)甲丁 (D)乙丁。

地理【第 11 回】社會 2 上 第二篇第 1 章「東北亞的自然環境與文化」第 1 節

班級：_____ 座號：_____ 姓名：_____

◆ 單一選擇題：(第 1~7 題每題 10 分，第 8~9 題每題 15 分，共 100 分)

- (C) 自然環境受地形、氣候影響。關於日本自然環境的敘述，下列何者正確？
(A)平原廣袤 (B)高原廣大 (C)山地眾多 (D)海岸平直。
- (A) 位於環太平洋火山地震帶的日本，西側鄰哪個板塊？ (A)歐亞板塊 (B)印澳板塊
(C)北美板塊 (D)太平洋板塊。
- (B) 日本屬溫帶季風氣候區，其冬、夏季的風向分別為下列何者？ (A)西北風、西南風
(B)西北風、東南風 (C)東北風、西南風 (D)東北風、東南風。
- (C) 有關朝鮮半島自然環境的敘述，下列何者正確？ (A)地勢南高北低 (B)長白山
為脊梁山脈 (C)精華區在西南側 (D)地形以平原、丘陵為主。
- (D) 端端為了做東北亞地理報告蒐集了一些資料，發現日本的人口分布呈現如右圖，這可能與下列何者最有關？
(A)季風吹拂 (B)四面環海 (C)位居中緯 (D)板塊擠壓。
- (A) 南韓位於日本的西方，為亞洲大陸與太平洋的接觸地帶，其氣候類型應該為下列何者？ (A)溫帶季風氣候 (B)副
熱帶季風氣候 (C)溫帶海洋性氣候 (D)熱帶季風氣候。
- (C) 平原地形因為地勢平坦利於聚落發展，因此大都市多分布於此。朝鮮半島地區的
平原地形主要分布於下列何處？ (A)中國北韓國界 (B)東部沿海地區 (C)西南
沿岸地區 (D)半島中央地區。
- (C) 朝鮮半島冬季氣候較日本嚴寒且降水量少，是受下列哪項因素的影響？ (A)地
勢高低 (B)季風風向 (C)海洋水氣 (D)植被多寡。
- (B) 依據日本與臺灣的相對位置來判斷，日本東京的月均溫圖可能是下列何者？



地理【第 12 回】社會 2 上 第二篇第 1 章「東北亞的自然環境與文化」第 2 節

班級：_____ 座號：_____ 姓名：_____

◆ 單一選擇題：(第 1~7 題每題 10 分，第 8~9 題每題 15 分，共 100 分)

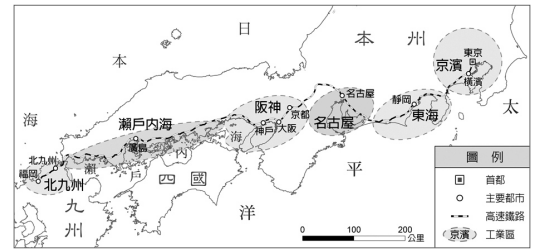
1. (D) 日本農業有許多特色與限制，下列何者為非？ (A)積極從事有機、無毒農業 (B)農產品質優良、價位高 (C)氣候溫涼可種小麥、溫帶水果 (D)開闢梯田後可大規模機械化耕作。
2. (C) 日本人自古以來便擅長各類型的魚料理，因此說起當地的飲食文化，幾乎離不開生魚片這道美食。日本漁業發達的原因跟下列何者無關？ (A)寒暖流交會 (B)四面環海 (C)氣候溫和 (D)海岸線曲折。
3. (B) 泡湯是日本民眾生活不可或缺的一部分，泡湯文化能成為日本文化的原因，可能與下列何者最相關？ (A)氣候溫和 (B)板塊交界 (C)四面環海 (D)季風吹拂。
4. (C) 日本海域的東北方因為有黑潮及親潮等洋流交會，對下列何種產業活動的影響最大？ (A)工業活動 (B)交通運輸 (C)捕撈漁業 (D)林木砍伐。
5. (D) 北韓的國土面積比南韓多了約 20%，但建國至今不時有饑荒的消息傳出。北韓糧食不足的因素可能與下列何者無關？ (A)共產國家 (B)緯度較高 (C)高原廣大 (D)礦產豐富。
6. (A) 北韓的農作物生長季較南韓短，主要是受哪一因素影響？ (A)緯度較高 (B)親潮支流經過 (C)副熱帶高氣壓籠罩 (D)面海背陸。
7. (B) 朝鮮半島的傳統建築中，經常會出現一特殊構造，其中一端是煮飯的爐灶，但是煙囪卻在房子的另外一頭，使得柴火的熱氣必須得在房子底下盤旋一圈才能排出。為什麼要做上述的設計？ (A)增加燃燒效率 (B)幫助維持溫暖 (C)避免雨水灌入 (D)有助於趕走蟲蛇老鼠。
8. (D) 波波非常喜歡吃韓式料理，她注意到幾乎所有的韓式料理店都會提供、販賣醃漬蔬菜，口味眾多、種類多樣，令她每次去消費都覺得心滿意足。朝鮮半島製作泡菜的原因，可能與何項因素有關？ (A)寒暖流交會 (B)三面環海 (C)地勢北高南低 (D)緯度偏高。
9. (D) 朝鮮半島上的南、北韓，有許多相似、相異之處。下列敘述何者正確？ (A)北韓主食是小麥、南韓是稻米 (B)北韓多吃泡菜、南韓多吃生魚片 (C)北韓在內陸地區、南韓三面環海 (D)南、北韓傳統住家會設置溫突。

地理【第 13 回】社會 2 上 第二篇第 2 章「東北亞的經濟發展與挑戰」第 1 節

班級：_____ 座號：_____ 姓名：_____

◆ 單一選擇題：(每題 10 分，共 100 分)

- (A) 日本國內的重要工業區大多聚集在沿海地區 (參見右圖)，這個分布現象可能反映哪些事實？ (A)缺乏原料、外銷為主 (B)水力豐沛、內需強勁 (C)人口老化、技術先進 (D)板塊擠壓、山多平原少。
- (B) 日本的經濟發展有許多困難與挑戰，下列何者是日本人面臨的問題？ (A)內戰頻仍 (B)高齡化 (C)技術落後 (D)工資過低。
- (B) 日本企業正面臨其他國家的挑戰，國內企業為維持其市場競爭力，因此紛紛轉向何種項目以求獲利？ (A)工業原料 (B)產品專利 (C)工業生產 (D)組裝零件。
- (D) 日本作為世界重要的工業與貿易大國，外銷出口許多產品。下列產品中，何者可能不是日本主要的外銷品項？ (A)電玩主機 (B)家庭電器 (C)汽車 (D)塑膠玩具。
- (A) 主打機器人協助販售的商店，最近在日本掀起一股改革的旋風，部分連鎖超商開始引進機器人服務消費者。下列何者並非導致這個現象的因素？ (A)降低運輸成本 (B)人口老化 (C)勞動力不足 (D)自動化技術先進。
- (C) 日本工業活動相當興盛，為世界重要的工業大國，其工業區的分布區位條件以下列何者為主？ (A)原料 (B)動力 (C)交通 (D)勞工。
- (D) 日本經濟發展的命脈為何？ (A)豐富礦產 (B)充足水電 (C)廉價勞工 (D)國際貿易。
- (C) 根據日本的統計資料顯示，日本勞工的平均月薪約為 3,500 美元，遠超過臺灣的 1,400 美元。下列何者不是日本企業目前為維持市場競爭力的經營方式？ (A)企業國際化 (B)產業合作 (C)降低環保標準 (D)加入他國市場。
- (B) 日本受其環境條件的限制，目前發展工業的特色中，不包括下列何者？ (A)出口貿易為主 (B)勞力需求高的產業 (C)原料仰賴進口 (D)沿海工業發達。
- (A) 日本的旅遊業一年吸引超過 3,000 萬人次參訪，許多遊客還會一再拜訪。下列何者並非日本旅遊業吸引人一再拜訪的因素？ (A)多熱帶島嶼 (B)良好的治安 (C)整潔的環境 (D)貼心的服務。



地理【第 14 回】社會 2 上 第二篇第 2 章「東北亞的經濟發展與挑戰」第 2 節

班級：_____ 座號：_____ 姓名：_____

◆ 單一選擇題：(第 1~7 題每題 10 分，第 8~9 題每題 15 分，共 100 分)

- (C) 關於北韓產業的敘述，何者不正確？ (A)煤礦豐富 (B)鐵礦豐富 (C)大型財閥壟斷 (D)重工業發達。
- (B) 北韓的民生工業較薄弱，日常用品常需要依賴進口。下列哪個國家的產品最容易出現在北韓的日用品市場中？ (A)南韓 (B)中國 (C)日本 (D)臺灣。
- (D) 南韓的影視產品在亞洲掀起一陣韓流熱潮，相關的娛樂產品在亞洲國家大賣。影劇娛樂產業的發展，對於南韓何項產業的助益最大？ (A)電子業 (B)資訊業 (C)農牧業 (D)觀光業。
- (A) 1960~1970 年代，南韓的經濟發展高速成長，15 年平均經濟成長率高達 9.8%，人均收入也從 85 美元成長了 20 倍，來到 1,640 美元。當時南韓經濟高速成長的原因，可能與下列何者有關？ (A)勞動力低廉 (B)農業發達 (C)礦產豐富 (D)政治民主開放。
- (A) 相對於南韓夜晚的燈火通明，夜間衛星影像拍攝到的北韓幾乎全境一片漆黑，可能與下列選項中的哪一個因素有關？ (A)經濟發展遲緩 (B)節能減碳 (C)礦產豐富 (D)重工業發達。
- (B) 關於南韓的經濟發展現況，下列敘述何者正確？ (A)勞力低廉發展加工出口業 (B)時尚彩妝業結合影劇作品創造高附加價值 (C)經濟生產仰賴中小企業 (D)著重發展重工業。
- (D) 近幾十年來，南韓的經濟成長快速，工業與科技實力大幅進步，是東亞重要的經濟體之一；不過，高速成長的背後，也有許多不安與隱憂。下列何者不屬於南韓面臨的挑戰？ (A)依賴國際貿易 (B)經濟生產集中在大型財閥 (C)兩韓的政治軍事對峙 (D)韓流席捲全世界。
- (D) 朝鮮半島南、北分治，兩地發展差距大，北韓國民所得偏低，其原因為何？ (A)南韓礦產豐富 (B)南韓水力發達 (C)北韓人口眾多 (D)政治制度影響。
- (C) 南韓與臺灣在經濟發展上的比較，下列何者正確？

| | (A)天然資源 | (B)產業 | (C)企業規模 | (D)經濟成長 |
|----|---------|-------|---------|---------|
| 臺灣 | 有林木資源 | 高科技 | 中小企業 | 外銷為主 |
| 南韓 | 有煤、鐵礦 | 重工業 | 大型財閥 | 內需市場大 |

地理【第 15 回】社會 2 上 第二篇第 1~2 章 (全)

班級：_____ 座號：_____ 姓名：_____

一、單一選擇題：(每題 10 分，共 60 分)

1. (B) 日本人喜歡在櫻花樹底一起賞櫻，櫻花花期由南至北，最早約於 3 月中在九州綻放，最遲於 5 月開至北海道。賞櫻日期由南向北變化，與下列哪一因素最相關？
(A)地勢 (B)緯度 (C)季風 (D)洋流。
2. (C) 朝鮮半島冬季氣候嚴寒，不利蔬菜生長，爲了在冬季吃到蔬菜，因此當地居民多醃製泡菜。造成朝鮮半島冬季寒冷的主要原因爲何？ (A)南部地勢較高 (B)西部沿海平坦 (C)緯度較高 (D)南部港灣眾多。
3. (D) 日本在產業發展上有許多先天條件的限制，因此得設法努力克服，才能在世界貿易中占有一席之地。下列何者不是日本國際貿易發達的原因？ (A)勞工技術優良 (B)發展高附加價值產品 (C)地形利於海運發展 (D)礦產資源豐富。
4. (A) 近年來，日本政府對於高齡者再就業相當重視，紛紛推出增加高齡者就業機會的政策，這反映出日本面臨的哪個問題？ (A)勞動力不足 (B)人口眾多 (C)人力素質高 (D)文創能力強。
5. (C) 「開城工業區位在靠近南韓的北韓境內，由南韓政府與企業出資建設營運，意在透過經濟合作爲未來兩韓打下信任的基礎。不過，此工業區最近因北韓領導人的不信任而被摧毀後停擺，使得兩韓的合作退回原點。」此短文的標題，可能爲下列何者？ (A)大型財閥影響國家經濟發展 (B)獨裁政體對外伸出友誼之手 (C)政治對峙威脅經濟發展 (D)經濟制裁影響民生水準。
6. (A) 日本鄉村地區除了平地開闢爲水田種植稻米之外，坡地上也遍布著梯田，若是不適合開闢爲梯田的地方，也會想盡辦法種植果樹或是其他經濟作物，讓人感受到一年到頭忙不停歇的農耕勞作。日本這樣的農業特性，可能跟下列哪一特性有關？ (A)山多平原少 (B)寒暖流交會 (C)氣候溫和年溫差小 (D)人口分布集中於沿岸。

二、填充題：(每空格 5 分，共 40 分)

同處朝鮮半島的南、北韓，在自然環境及經濟發展上有極大差異，完成下列表格。

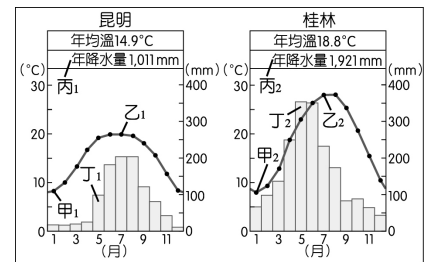
| | 北韓 | 南韓 |
|---------|---------------|---------|
| 1. 耕地面積 | 較【 少 】 | 較【 多 】 |
| 2. 收穫次數 | 【 一 】 穫 | 【 二 】 穫 |
| 3. 礦產資源 | 較【 多 】 | 較【 少 】 |
| 4. 工業類型 | 重工業、【 國防 】 工業 | 高科技工業 |
| 5. 政治體制 | 【 共產 】 主義 | 民主政治 |

地理【第 16 回】社會 2 上 第一～二篇（全）升學考試精華

班級：_____ 座號：_____ 姓名：_____

◆ 單一選擇題：(第 1~6 題每題 15 分，第 7 題 10 分，共 100 分)

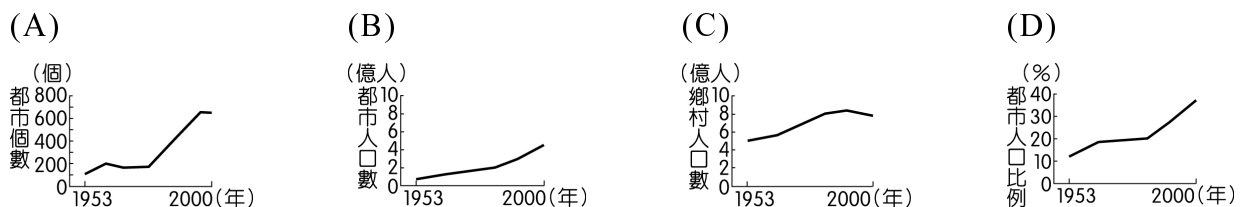
1. (B) 昆明與桂林緯度相近，但二地的地勢高度差異大，右圖是二地的氣候圖，下列對於二地氣候資料的比較，何者最適合作為判斷昆明地勢較高的指標？
 (A) 甲₁ > 甲₂ (B) 乙₁ < 乙₂ (C) 丙₁ < 丙₂ (D) 丁₁ < 丁₂。【112 會考陸】



2. (D) 右表為中國在不同時間提出的人口政策，以因應各階段之需。其中哪一年提出的政策，其目標之一是為了因應老年人口比例逐漸上升所造成的高齡化問題？
 (A) 甲 (B) 乙 (C) 丙 (D) 丁。【111 會考補考】

| 代號 | 時間(年) | 政策 |
|----|-------|------|
| 甲 | 1949 | 鼓勵生育 |
| 乙 | 1960 | 提倡晚婚 |
| 丙 | 1979 | 一胎化 |
| 丁 | 2015 | 開放二胎 |

3. (A) 中國某一跨海大橋於 2018 年完工，其連結了中國兩個特別行政區及一個經濟特區，可縮短往來三地的距離，及強化三地經濟社會的交流。上述跨海大橋應位於下列哪條河川的出海口？
 (A) 珠江 (B) 長江 (C) 海河 (D) 黃河。【110 會考】
4. (D) 小坡想說明中國「都市化程度」的變化趨勢，他選用下列哪一張統計圖最恰當？
 【110 會考補考】



5. (A) 「2016 年初，滿載商品的貨運列車從中國浙江義烏出發，經西安、蘭州和烏魯木齊等都市後，駛往伊朗德黑蘭，歷時 14 天完成首航，再現古絲路的輝煌。」這班列車在駛離中國後，最可能途經下列何地？
 (A) 中亞 (B) 南亞 (C) 東歐 (D) 東南亞。【108 會考】
6. (B) 1990 到 2008 年期間，北韓在「全球飢餓指數」惡化的排名中位居第二。造成北韓糧產不足，常有饑荒的問題，除了政治制度的影響外，與下列何項自然因素關係最密切？
 (A) 颱風侵襲次數多 (B) 生長季短、平原少 (C) 火山活動與地震頻繁 (D) 年降水量少於 500 毫米。【99 基測一】
7. (B) 「日本近年來出現一種『漁師體驗』活動，遊客除了可跟漁夫一同出海捕魚外，也可以到海邊挖珍珠、享用生魚片。每年 3 月到 9 月，長崎平戶這個漁港常有許多來此當『一日漁夫』的觀光客。」上述活動最適合作為說明下列何者的實例？
 (A) 環境的永續經營 (B) 休閒農業的興起 (C) 精緻農業的推廣 (D) 商業性農業崛起。【99 基測一】



第 1 回

一、單一選擇題：

1. B 2. A 3. A 4. D 5. D
6. C 7. B

二、題組：

1. B 2. A 3. B

第 2 回

一、單一選擇題：

1. C 2. C 3. D 4. A 5. C

二、題組：

1. C 2. A 3. B 4. A

三、填充題：

1. 緯度
2. 乾燥，季風，高地
3. 溫帶草原，溫帶沙漠

第 3 回

◆單一選擇題：

1. D 2. B 3. C 4. C 5. A
6. C 7. B 8. C 9. C 10. D

第 4 回

一、單一選擇題：

1. D 2. A 3. C 4. D 5. A
6. C 7. D 8. A 9. D

二、填充題：

人口老化，勞動人口

第 5 回

◆單一選擇題：

1. B 2. D 3. A 4. C 5. D
6. C 7. D 8. B 9. B

第 6 回

◆單一選擇題：

1. B 2. C 3. B 4. D 5. C
6. B 7. A 8. C 9. B

第 7 回

◆單一選擇題：

1. D 2. C 3. A 4. A 5. D
6. C 7. A 8. A 9. C 10. A

第 8 回

◆單一選擇題：

1. A 2. C 3. B 4. D 5. C
6. B 7. C 8. D 9. A 10. B

第 9 回

一、單一選擇題：

1. D 2. B 3. B 4. A 5. B
6. C

二、題組：

1. B 2. A

第 10 回

◆單一選擇題：

1. C 2. A 3. D 4. B 5. D
6. B 7. D 8. D 9. B 10. C

第 11 回

◆單一選擇題：

1. C 2. A 3. B 4. C 5. D
6. A 7. C 8. C 9. B

第 12 回

◆單一選擇題：

1. D 2. C 3. B 4. C 5. D
6. A 7. B 8. D 9. D

第 13 回

◆單一選擇題：

1. A 2. B 3. B 4. D 5. A
6. C 7. D 8. C 9. B 10. A

第 14 回

◆單一選擇題：

1. C 2. B 3. D 4. A 5. A
6. B 7. D 8. D 9. C

第 15 回

一、單一選擇題：

1. B 2. C 3. D 4. A 5. C
6. A

二、填充題：

1. 少，多 2. 一，二
3. 多，少 4. 國防
5. 共產

第 16 回

◆單一選擇題：

1. B 2. D 3. A 4. D 5. A
6. B 7. B