


一、對的畫○，錯的打×（是非題）（每題 10 分，共 20 分）

1. (X) 下面日曆的日期是 4 月 7 日。




2. (O) 圍欄裡的動物可以分成雞、鴨、豬 3 種。



二、選出正確的答案（選擇題）（每題 10 分，共 80 分）

1. (1) 1 張  可以換幾個  ?

- ① 2 個 ② 3 個 ③ 4 個

2. (2) 灰姑娘的錢包裡有  。



請幫她數數看有多少元？ ① 77 元 ② 87 元 ③ 97 元。

3. (3) 1 月一共有多少個星期五？

民國 110 年 1 月 2021

日	一	二	三	四	五	六
					1 元旦	2
3	4	5	6	7	8	9
10	11	12	13	14	15	16
17	18	19	20	21	22	23
24	25	26	27	28	29	30
31						

- ① 3 個 ② 4 個 ③ 5 個。

4. (3) 彩彩的彩色筆盒裡原本有 5 枝彩色筆，她又放進 13 枝彩色筆，共有幾枝彩色筆？ ① 13 枝 ② 15 枝 ③ 18 枝。

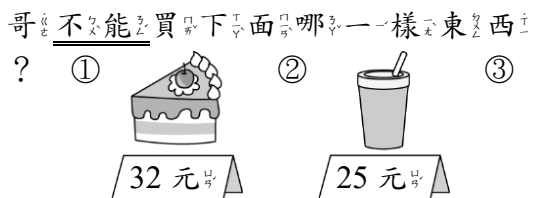
5. (1) 「哥哥有 45 元，花了 24 元後，還有多多少少元？」下面哪個算式是正確的？ ① $45 - 24 = 21$ ② $45 + 24 = 69$ ③ $24 + 45 = 59$ 。

6. (3) 一年甲班票選班長，得票數最多的人就是班長，投票結果如下，誰當選了班長？

小明	正正
小天	正下
小玉	正正

- ① 小明 ② 小天 ③ 小玉。

7. (3) 哥哥有   ，哥哥不能買下面哪一樣東西？



8. (1) 一盒巧克力有 66 顆，弟弟吃了 15 顆，還剩下幾顆巧克力？ ① 51 顆 ② 46 顆 ③ 41 顆。