

# 臺南市立後甲國民中學 113 學年度第一學期二年級社會科第一次段考試題

二年 \_\_\_ 班 座號：\_\_\_ 姓名：\_\_\_

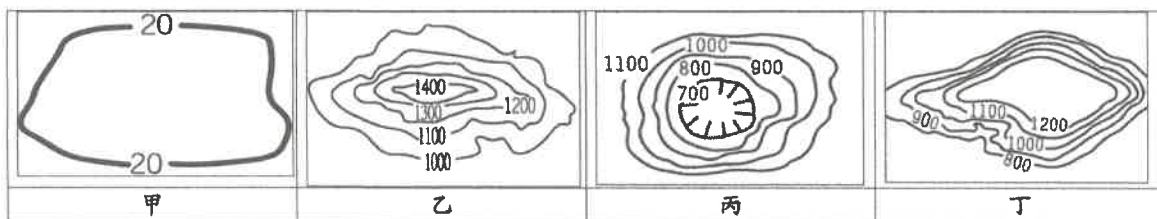
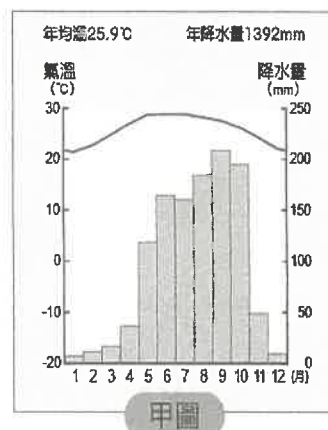
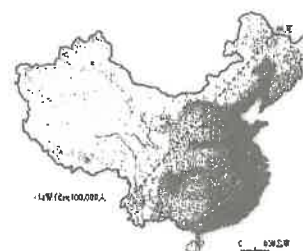
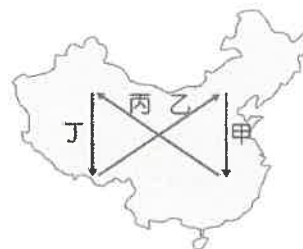
## 考試注意事項：

1. 社會科段考試題三科共 60 題。
2. 題目均為四選一的選擇題，請將正確答案用 2B 鉛筆劃記在答案卡上。

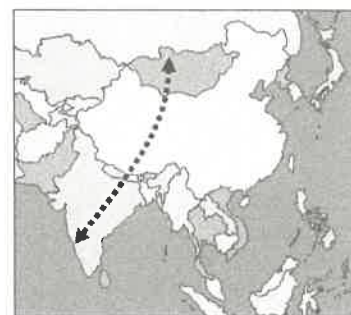
【地理科】選擇題：(每題 5 分，共 100 分) 範圍：翰林版第三冊第一篇第 1~2-1 章

命題教師：曾怡美 老師

1. 從哈爾濱到上海再到三亞，一月月均溫有愈來愈高的趨勢，這與下列哪項因素最相關？(A) 緯度高低 (B) 經度跨距 (C) 距海遠近 (D) 地勢高低。
2. 中國的氣候受地形、緯度、距海遠近等因素影響，而有空間上的差異。右圖中甲、乙、丙、丁哪一路線夏季氣候的空間變化趨勢，具有明顯的「由溼熱，變乾熱」的特性？(A) 甲 (B) 乙 (C) 丙 (D) 丁。
3. 中國的少數民族藏族，主要分布於青藏高原上，有關於青藏高原的描述，下列何者「有誤」？(A) 氣溫與植被隨高度呈垂直變化 (B) 位在中國三大氣候區的乾燥氣候區中 (C) 夏季溫度較同緯度其他地區低 (D) 地勢高聳。
4. 中國的人口以黑河和騰衝為界，可大致分為西半部及東半部。請觀察右圖，下列關於中國人口分布的敘述，何者正確？(A) 東半部人口密度較低 (B) 東半部人口多集中在綠洲、河谷 (C) 西半部人口分布較為密集 (D) 西半部人口總數較少。
5. 承上題，下列關於西、東半部的自然環境與傳統生活方式敘述，何者正確？(A) 西半部為主要農業區 (B) 東半部為主要畜牧區 (C) 東半部潮溼多雨 (D) 西半部地勢較低。
6. 甲圖為中國的某一地氣候圖，請問：這是屬於何種氣候類型？(A) 熱帶季風氣候 (B) 副熱帶季風氣候 (C) 溫帶季風氣候 (D) 溫帶草原氣候。
7. 中國地形多樣可分為山地、高原、平原、盆地與丘陵等五大類型。請問：中國地勢「中階梯」中所涵蓋的主要以下列哪二種地形為主？(A) 甲乙 (B) 乙丙 (C) 丙丁 (D) 乙丁。

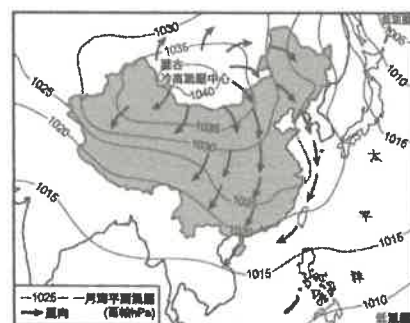


8. 新頭條網路新聞報導：「斑頭雁是全世界飛行最高鳥類，每年夏天在亞洲內陸繁殖，入冬之後會向南方遷徙到較溫暖的地區。根據科學家的追蹤調查，牠們會在季風轉換的時節，集體飛行高度超過 8,848.86 公尺，甚至可以到達 10,000 公尺，相當於民航客機的一般巡航飛行高度，由於高空的氧氣大約只有平地的 30%，一般動物及鳥類幾乎很難長時間停留。科學家研究出斑頭雁確實有特異功能，因為牠們的血液當中有可以快速結合氧氣的特殊遺傳基因，所以能夠適應高空長途飛行。」右圖為斑頭雁在亞洲地區主要的遷徙路線，請依據圖中資訊判斷，斑頭雁度冬的路程「不可能」會越過下列哪一個地形？(A) 內蒙古高原 (B) 青藏高原 (C) 喜馬拉雅山 (D) 嶺南丘陵。



9. 南唐亡國之君李煜所做的詞，有句「問君能有幾多愁，恰似一江春水向東流。」國文老師解析此句內涵為李煜用來寄情對亡國的思念，若依地理老師的解讀角度，「恰似一江春水向東流」的現象，與中國下列哪項地理現象「無關」？(A) 地形複雜，多高原和山地 (B) 地勢西高東低，大致分為高、中、低三階 (C) 運河多為南北向 (D) 海洋洋流更能向西深入內陸。
10. 旅遊達人渡渡準備要到中國的黃土高原附近自助旅行，就他對當地的了解，下列哪一項「有誤」？(A) 黃土高原主要是冬季季風將塔里木盆地的細砂吹來，堆積而成 (B) 黃土高原的黃土易被河流侵蝕，地表破碎、溝壑縱橫 (C) 當地利用黃土不易崩塌的特性，挖鑿而成傳統民居窯洞 (D) 此地區盛行的風向，夏季多↘，冬季多↙。

11. 右圖為中國某月某日的氣壓分布與風向示意圖，我們從圖中可以看出何種訊息？(A) 此圖是代表中國的夏季季風風向 (B) 盛行風向為海洋吹向陸地 (C) 陸地氣壓高、氣溫較低，海洋則氣壓低，氣溫較高 (D) 此時為主要降水季節。
12. 老師上地理課時點名幾位同學來說說中國的秦嶺、淮河所代表的地理意義，但下列有一位學生不小心講錯了，你知道是哪一位嗎？(A) 小葵：「大致與一月均溫 0°C 等溫線位置相符」(B) 小白：「大致是溫帶季風與副熱帶季風的分界」(C) 小男：「大致是南稻北麥、南船北馬的分界」(D) 小新：「大致與年降水量 500mm 等雨量線位置相符」。



【背面還有題目】

13. 中國知名音樂選秀節目「○○好聲音」總決賽，節目最後讓勝出的二位學員有機會介紹自己的故鄉，以下是他們在台上講話的部分節錄：

冠軍學員蔣△△：「我家屬於副熱帶季風氣候，這邊多山地和丘陵，在農業上為了增加耕地而發展出了全中國最壯觀的梯田景觀……。」

亞軍學員單○○：「我住在全中國海拔最高的高地氣候，因為這裡空氣稀薄，一般人可能只走幾步就會好喘，白天日光強烈，建議最好帶上太陽眼鏡、帽子、防曬乳液，以免紫外線灼傷皮膚……。」

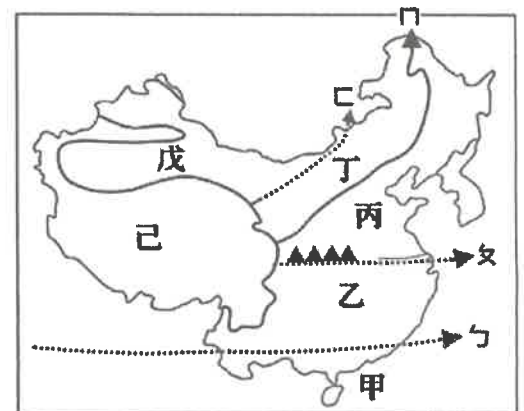
- 下表是一張中國四個城市氣候資料的表格，請問：根據上述，這二位學員最有可能來自下列哪兩個城市？  
(A)甲、乙 (B)甲、丁 (C)乙、丙 (D)丙、丁。

城市	一月月均溫	七月月均溫	年均溫	年雨量
甲	10.2°C	29.4°C	22.2°C	1496mm
乙	-9.8°C	31.5°C	13.7°C	17mm
丙	-6.1°C	34.2°C	18.2°C	267mm
丁	-2.4°C	14.7°C	7.8°C	452mm

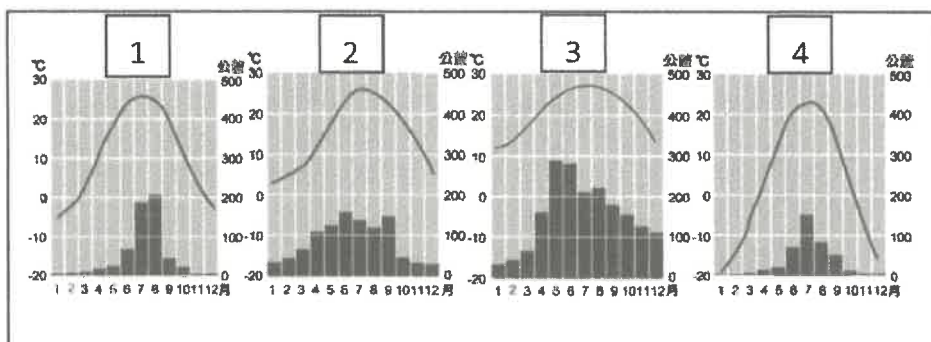
14. 中國的青藏高原及山地地區因地勢高、氣候嚴寒，且氣溫與植被隨高度呈垂直變化，故用下列哪句俗諺來形容這樣的氣候特色「最適合」？  
(A)朝穿皮襖午穿紗，抱著火爐吃西瓜 (B)四時皆是夏，一雨便成秋 (C)三天無雨苗發黃，下點急雨土沖光 (D)一山有四季，十里不同天。

★題組：

某大地理系研究生杰倫的碩士論文主題和「中國氣候」有關，為了完成他的論文，他在中國生活長達 2 年，右圖是他在研究過程中所繪製的中國氣候類型分布簡圖，上面並標註了重要的氣候分類依據，請根據右圖回答下列問題：



15. 杰倫根據當地氣溫不同，繪出乙和丙兩條界線，另外再根據雨量不同，繪出丁和戊兩條界線。請問：下列敘述何者「錯誤」？  
(A)乙和丙各是代表最暖月均溫 18°C 和 0°C 的等溫線，氣溫數值變化顯示中國在氣候上呈現「南熱北冷」的特色  
(B)乙線大致與北回歸線一致，而丙線則大致與秦嶺、淮河一致  
(C)丁線大致與大興安嶺一致，是季風氣候和乾燥氣候的分界  
(D)戊是代表 250mm 等雨量線，是溫帶沙漠氣候和溫帶草原氣候的分界。
16. 杰倫發現氣候會影響中國人的日常生活，同時也反映在各地的傳統民居特色上：(甲)蒙古包(乙)騎樓設計(丙)窯洞(丁)千欄式建築。以上所列的建築，哪些型式大多出現在圖中的丙線以南？  
(A)甲乙 (B)乙丙 (C)甲丙 (D)乙丁。
17. 杰倫在某一段時間做研究時，飲食習慣入鄉隨俗，也以拉麵、餃子、雜糧煎餅和麵圈配大餅等為果腹的主食。請問：從飲食習慣推測，這一段時間他最可能在圖中何處做研究？  
(A)甲 (B)乙 (C)丙 (D)己。
18. 杰倫 7 月中旬左右在中國最大的沙漠——塔克拉瑪干沙漠裡看到氣候怪象，大水淹沒了道路，許多車輛因而熄火，這個號稱最乾燥的沙漠地帶竟爆發「洪水」？深入研究發現，這可能是受到高溫融雪與強降雨影響下導致。請問：杰倫此時「最可能」在研究何種氣候類型？  
(A)甲 (B)丙 (C)戊 (D)己。
19. 杰倫根據 2 年研究所得結合地理知識，整理出下列幾項結論，哪一段整理的文字「稍有錯誤」，必須趕快更正？  
(A)丙線是中國農業上水田與旱田的分界，以南多種水稻，以北多種小麥  
(B)農牧分界大致和戊線一致，呈現「東耕西牧」的現象  
(C)丁、戊、己是中國主要畜牧區，部分族群過著找尋水源和牧草而遷移的游牧生活  
(D)己主要分布於青藏高原及山地地區，其地勢高，氣候嚴寒，加上空氣稀薄，日夜溫差大。
20. 下列是杰倫在地理實察中所取得的中國東半部某四個都市的氣候圖。若他想將這四個都市由北而南排列，則正確的順序為何？  
(A)1234 (B)4123 (C)2143 (D)3214。



二年	班 座號：	姓名：	家長蓋章	
台南市立後甲國中 113 學年度第一學期社會科第一次段考試題			命題教師	陳純怡老師

【歷史科】範圍：翰林版 第三冊 1-1~2-2

21. 右圖為中國歷史上某種官方文件的內容，根據圖中內容判斷，當時(建初十二年=西元 416 年)政府製作此官方文件的主要目的最可能為下列何者？

- (A) 掌握人力作為徵集賦稅和勞役的依據
- (B) 推行封建制度並保障貴族世襲的權力
- (C) 配合科舉選拔人才，促進社會的流動
- (D) 根據儒家思想，實施以仁為政的措施。

建初十二年正月登錄戶籍

騰的妹妹	元弟	親生兒子	妻子	呂沾	敦煌郡敦煌縣西宕鄉高昌里
華	騰	元	趙	五十六歲	
二歲	七歲	十七歲	四十三歲		
成年男子二人	未成年男子一人	女子二人	合計五人		


住在趙羽塢

22. 東周相對於西周，是一個劇烈動盪的時代，政治、經濟、社會、文化各方面都有所變動。請問：關於東周時代的變化，下列配對何者正確？

- (A) 政治：郡縣制度崩解 (B) 政治：王室強化對諸侯的統治
- (C) 社會：貴族沒落，平民崛起 (D) 社會：知識被貴族壟斷。

23. 右圖為書法字體中的小篆，其為某一時代通行全國的字體，對中國各地的文化交流有重要影響。請問：關於此字體形成的背景與影響，下列敘述何者正確？

- (A) 為中國首度出現的統一文字 (B) 由商湯大力推行
- (C) 造成世族社會的出現 (D) 此文字是為確立封建體制而施行。



24. 清代小說鏡花緣是以唐代為故事背景，第十回：「不多幾日，到了『君子國』，將船泊岸。林之洋上去賣貨。唐敖因素聞『君子國』好讓不爭，想來必是禮樂之邦。」請問：「君子國」，最有可能是下列何者？

- (A) 天竺 (B) 新羅 (C) 日本 (D) 越南。

25. 下圖是玉潔參觀「歷代中國婦女生活文物展」時，在某朝代的展示區內所看到的文物簡介。依內容判斷，此朝代最可能是下列何者？

此泥俑表現婦女騎馬擊球的姿態，其面容豐腴，穿著胡衫，搭配長靴，呈現當時生活胡化的一面。	女俑釉色以黃、綠、褐為主，身穿翻領窄袖的胡服，戴著胡帽，此為當時婦女流行的裝扮。
---	--

- (A) 商周 (B) 秦代 (C) 漢代 (D) 唐代。

26. 在唐代的文學作品中，常可見到時人的生活中所受到周邊民族的影響。例如：白居易的時世妝提到：「圓鬟無鬢堆髻樣，斜紅不暈赭面狀」，其中的「赭面」，為吐蕃習俗，意指以紅顏料塗面，反映出漢藏的交流互動下所受到的影響。請問：這樣的影響，可能是下列何者所造成？

- (A) 恒羅斯之役中，吐蕃大敗，開始派遣留學生前往唐帝國留學 (B) 吐蕃占領唐帝國首都平城(山西大同)
- (C) 為聯絡周遭民族夾擊東突厥，唐帝國交好吐蕃，打通絲路 (D) 為籠絡吐蕃，唐帝國以文成公主和親。

27. 以下有關西周封建制度的敘述，請問何者敘述正確？

- (A) 貴族：擁有世襲權利，可以接受教育和禮樂薰陶 (B) 平民：擁有土地，不可以接受教育要接受禮樂薰陶
- (C) 奴隸：不能擁有土地，不能接受教育但接受禮樂薰陶 (D) 封建制度從西周開始實施，在東周發展成熟。

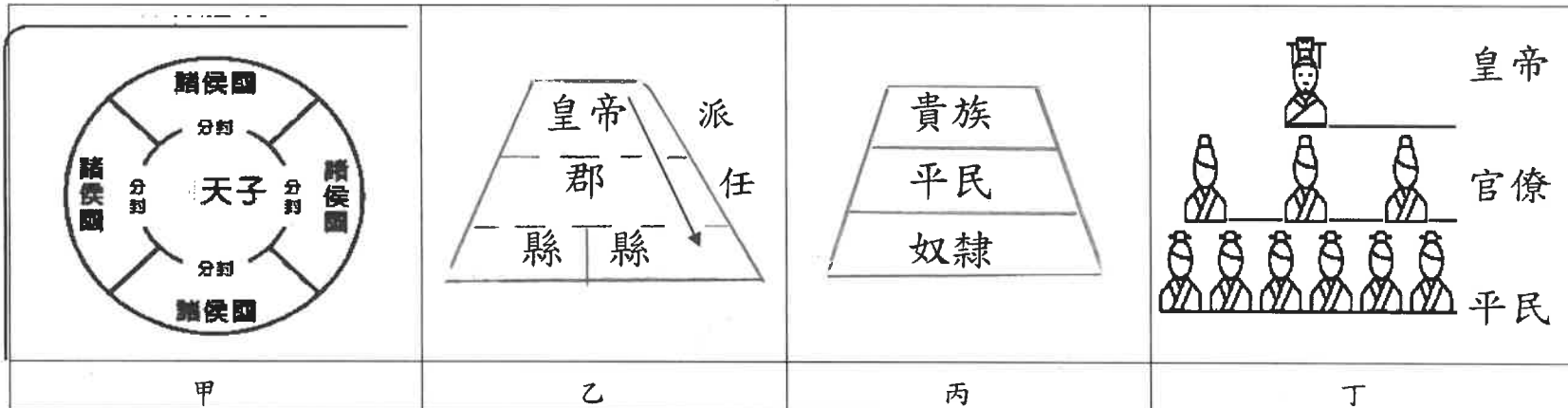
28. 在歷史金頭腦比賽時，主持人請參賽者說出一則有關自稱：「始皇帝」人物的事蹟，符合者可以獲得通關點數 10 分，請問：以下哪一位參賽者可以拿到通關點數 10 分？

- (A) 李斯：他重視法律在統治上的作用，依法治國 (B) 趙高：他是秦王商鞅，按軍功授予百姓爵位
- (C) 蒙恬：他主動出兵攻打北方鮮卑族，並修築萬里長城 (D) 劉邦：他遷都洛陽，加深漢文化對帝國的影響。

29. 維基百科：「這一時期是中國的社會制度劇烈轉變的年代，前半期諸侯爭相稱霸，持續了二百多年。後半期天子地位漸失，亦持續了二百多年，各國因爭奪土地或者水利資源，衝突時起。此時期平民有機會接受教育，貴族與平民間的界限也被衝破，社會發生革命性的變化。」請問：這一時期適合填入哪一朝代？

- (A) 商 (B) 西周 (C) 東周 (D) 秦。

30. 秦朝為中國第一個統治王朝，統治的範圍有台灣的一百倍大，對地方的控制是一大課題，若是將秦朝統治方式以圖來表示，下列那一組圖最能表示秦朝的政治制度和社會階層？



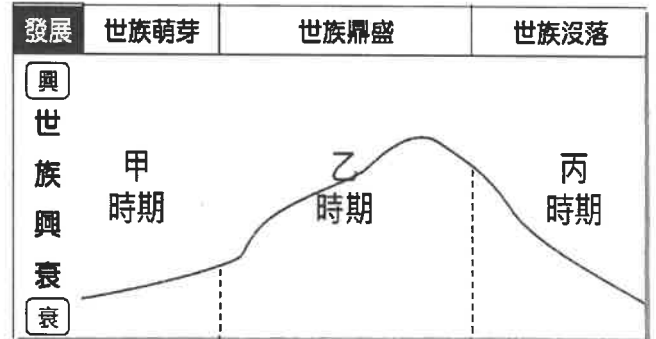
- (A) 甲和丙 (B) 甲和丁 (C) 乙和丙 (D) 乙和丁。

31. 在中國民間故事中提到：「孟姜女為秦朝的婦女，她和丈夫范杞良新婚不久，丈夫就被徵召到山海關修長城，時間過了三年，丈夫杳無音信；北方冬天寒冷，孟姜女做好棉衣，經歷千辛萬苦來到山海關找丈夫，可是丈夫早就因為修長城工作繁重而累死，並被掩埋在長城下面，孟姜女悲痛至極，哭聲震天動地，竟將修到海邊的長城哭倒了，倒掉的牆下出現了許多人的白骨，孟姜女以滴血白骨的方式找到丈夫的屍身，親手為他埋葬後，自己也投海自盡了。」請問：以下哪一篇文章判讀是比較適合的？

- (A) 因為民間故事就是發生過的事，後來的人將這些事書寫成冊流傳至今，所以歷史上一定有孟姜女這個人
- (B) 因為故事中有寫到秦朝，還有寫到山海關，這些都是真實存在的朝代和地名，所以范杞良肯定是出現在秦國的百姓
- (C) 因為秦國確實有讓百姓修長城濫用民力，而使人生怨恨，從這則悲劇愛情故事，可以想像當年人民生活的情景
- (D) 因為歷史上秦朝迫使民眾揭竿而起，這故事可看出政府施政錯誤，所以講述秦暴政必亡的故事絕對是真實存在的。

32. 中國歷史上的選才制度與社會背景息息相關，右圖是世家大族在中國三個歷史時期的興衰趨勢示意圖。若想完善此圖，請問以下敘述何者正確？

- (A) 甲、乙、丙三個時期，依序適合填入：商周、魏晉南北朝、秦漢。
- (B) 甲時期是世族萌芽期，若進入太學讀書，成績優異者可以任官。
- (C) 乙時期政府大量任用熟悉法律、擅長撰寫官方文書的孝廉人才。
- (D) 丙時期的選才制度能增強世族勢力，士人報名考試，考取者任官。

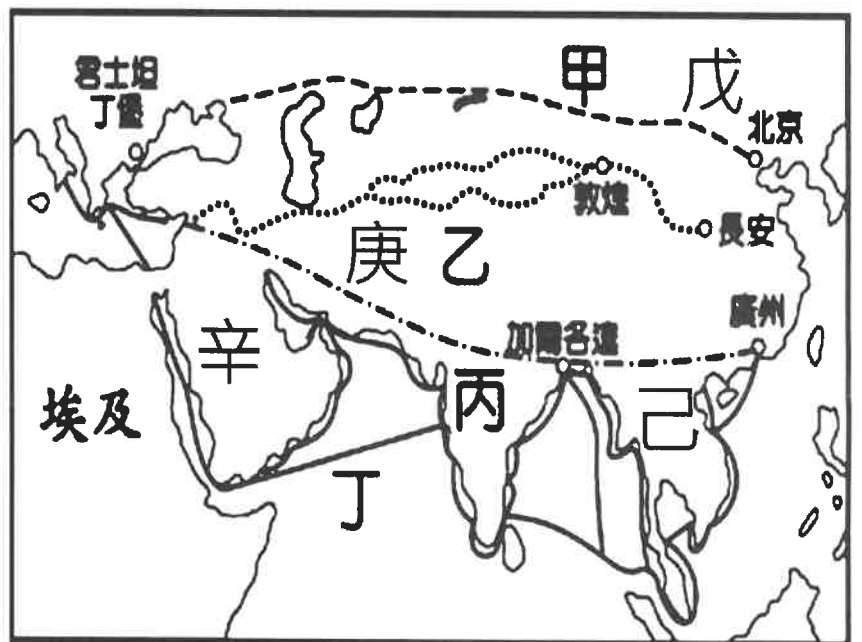


33. 請將以下佛教在中國的發展依照順序排列，甲：佛教起源於印度，早期在西域流行。乙：唐玄奘大師前往印度取經，回國後主持佛經翻譯，促進佛教中國化。丙：佛教在漢代傳入中國。丁：魏晉南北朝時因戰亂佛教成為人民精神寄託，加上帝王提倡、佛經翻譯等因素，佛教廣為流傳。？

- (A) 甲乙丙丁 (B) 乙丙丁甲 (C) 甲丙丁乙 (D) 丁乙丙甲

34. 右圖為中西貿易文化路線圖(圖中甲-虛線、乙-點線、丙-虛線點線、丁-實線從上而下依序代表路線途徑，戊、己、庚、辛代表地點位置。)漢代時張騫出使西域聯絡各國共同抵禦漢朝的外患，張騫走的路徑是哪一條路線？

- (A) 甲 (B) 乙 (C) 丙 (D) 丁。



35. 漢武帝時派張騫出使西域聯絡各國共同抵禦漢朝的外患，當時漢朝的外患匈奴大概位在右圖中西貿易文化路線圖中哪一個位置？

- (A) 戊 (B) 己 (C) 庚 (D) 辛。

36. 清代的歷史學家趙翼在《二十二史劄記》〈〇〇〇〉條中嚴加批評：高門華閥，有世及之榮，庶姓寒人，無寸進之路。選舉之弊，至此而極。(白話文：階級最高的世家大族，擁有父子兄弟繼承來的榮耀，平民百姓向前進一寸的路都沒有。選拔任官的弊端，至此到達極點。)請問：歷史學家批評的〈〇〇〇〉制度是為何？

- (A) 太學 (B) 孝廉 (C) 科舉 (D) 九品官人法。

37. 花木蘭是生活在北魏孝文帝時平城的婦人，請問以下哪一種生活經歷或聽聞是她最可能會經歷的？

- (A) 北魏皇帝因喜食漢人的牛羊肉和乳製品因而下令遷都，居住到漢人文化豐富的地區
- (B) 皇帝下令要將首都搬到洛陽，洛陽位在北平城北方，冬天較平城嚴寒，木蘭需多採買冬季禦寒衣物
- (C) 皇帝要求將鮮卑貴族姓氏改為漢人姓氏，這是他漢化政策的內容之一
- (D) 政府除鼓勵改姓氏，也鼓勵穿漢服，但為保持血統純正，不鼓勵胡漢通婚。

38. 唐太宗為中國歷史上著名的政治家、軍事家，開創了奠定唐朝立國基礎的「貞觀之治」，因此成為唐代乃至中國歷史上最享負盛名的皇帝之一，亦是為後世爭相效仿的明君典範之一。以下哪個事蹟是屬於唐太宗？

- (A) 唐太宗幫助新羅統一朝鮮半島，並派大臣到朝鮮半島推廣唐文化的文字、曆法、儒學與佛教
- (B) 與大食帝國帝國在中亞地區交戰，唐太宗大勝之後，大量阿拉伯人移居中國傳入伊斯蘭信仰
- (C) 西北各族君長尊稱唐太宗為天可汗，意為普天下的君主，使得唐帝國成為西亞秩序的盟主
- (D) 唐太宗對外採平等開放態度，外族商人、僧侶、留學生大量移居中國，文化交流頻繁。

39. 唐文化向外傳播，造就所謂的東亞文化圈，以下有關東亞文化圈的敘述何者正確？

- (A) 天竺努力模仿中國的文字以及曆法，因而獲得「君子國」之美稱
- (B) 文成公主嫁到吐蕃，宣揚佛教思想，並將農業技術帶入西藏
- (C) 造紙術在漢代改良發明，唐代時輾轉由羅馬人傳到歐洲
- (D) 怛羅斯戰役是一場唐帝國與東突厥帝國爭奪中亞霸權的戰爭。

40. 右圖為漢字與日文對照表，由圖可知日本文字與中國文字關係密切。七世紀時日本以唐代制度為藍本進行唐化運動稱之為大化革新，以下有關日本文化敘述，何者正確？

- (A) 佛教此期由中國傳入日本，並再由日本傳入朝鮮
- (B) 蔡倫多次前往日本，為日本改良造紙術，促成文化的交流
- (C) 唐朝政府聯合日本學生和僧侶共同輔佐天皇執政
- (D) 當時日本想建立以天皇為中心的集權國家，所以努力學習唐文化。

八 ハ	奈 ナ	多 タ	加 カ	阿 ア	片假名
利 リ	比 ヒ	仁 ニ	千 チ	伊 イ	
波 ハ	奈 ナ	太 タ	加 カ	安 ア	平假名
利 リ	比 ヒ	仁 ニ	知 チ	以 イ	

二年 班 座號： 姓名：

【公民科】 範圍：翰林版第三冊一、二課

命題教師：邱鑑今 老師

1984 年「中英聯合聲明」簽訂後，香港人對於回歸中國充滿疑慮。當時中國領導人鄧小平強調，香港回歸後會按「基本法」體現「一國兩制」，表示香港在 1997 年回歸後，50 年政策不變，香港的地位和對香港的政策不變。但香港回歸未滿 50 年，香港特別行政區政府修訂媒體俗稱的「逃犯條例」，只要有涉嫌犯案疑慮的人士，都可能面對無條件被逮捕、移交中國處理的風險，因此香港爆發大規模的抗議行動。然而，北京當局應該思考的是，香港街頭許多年輕的抗爭者，都是在 1997 年香港回歸後才出生的。何以這些成長於「中國香港」的年輕人，如今卻手舉英國、美國的國旗，踐踏他們本應認同的五星旗。

41. 依「國家與政府」的概念判斷，香港不是一個國家，最主要是欠缺哪項國家組成要素？ (A)人民 (B)領土 (C)政府 (D)主權
42. 在本文所述抗議活動後，香港特首宣布撤回「逃犯條例」，此舉所代表的意義為何？ (A)承認政府的政策違反民意 (B)政權在和平狀態下轉移 (C)代表國家主權為人民所有 (D)人民成功推翻政權。

庫德族是沒有國家的民族中人口最多者，分布於土耳其、敘利亞、伊拉克以及伊朗等最具地緣戰略的交會位置，周邊強國各有其戰略上的需要，誰都不願意放棄自家境內的庫德地區。即使庫德族無固定的疆界，沒有政治實體，但庫德族仍想建立一個「庫德斯坦國」(意指「庫德族人之地」)。

(資料來源：改寫自莊蕙嘉，國際小學堂／「無國之民」)

43. 根據上文，「庫德斯坦國」欠缺哪些國家要素？甲、人民；乙、領土；丙、政府；丁、主權(A)甲乙丙 (B)乙丙丁 (C)甲丙丁 (D)甲乙丁。

海巡單位查獲 100 多隻走私貓，2 天後全被安樂死，引發討論。事實上，海關緝私條例與動物傳染病防治條例等法規，均無動物必須立即被銷毀的規定。查獲走私動物一律撲殺的慣例，是依據行政院農業部為處理「走私農產品」而自行訂定的法規—走私沒入動物及其產品處理作業程序。立法院先前曾針對該法規可能有疑慮，希望相關單位針對有關銷毀走私動物的程序及方式再進行研議。

44. 依據上文，立法院提出的疑慮，主要是從何種角度來探討走私動物遭到撲殺的爭議？ (A)人性尊嚴 (B)法律位階 (C)基本權利 (D)人治精神。
45. 依據上文，走私沒入動物及其產品處理作業程序的法律位階與下列何者相同？ (A)中華民國憲法 (B)公職人員選舉罷免法 (C)寵物登記管理辦法 (D)道路交通管理處罰條例。
46. 憲法的內容簡潔扼要，而法律與命令則將憲法的精神做出具體的規範。這是憲法的何種特性？ (A)最高性 (B)原則性 (C)固定性 (D)簡易性。
47. 烏俄戰爭延續期間，烏克蘭軍隊對俄羅斯境內庫斯克州發動入侵行動，隨後俄羅斯也展開攻擊，步步逼近烏克蘭的重要戰略據點波克羅夫斯克市。在上述兩國衝突中的過程中，首先受到影響的是下列何者？ (A)政府組織 (B)法治制度 (C)領土範圍 (D)社會文化。

48. 附圖是小如對於十八世紀後期某國家情況的整理，根據內容判斷，最主要是在說明下列何者國家組成要素？ (A)領土 (B)主權 (C)人民 (D)政府。

49. 台中市大梨山地區正值水蜜桃及甘露梨盛產期，因水果保存不易，若存放過夜將影響價值，為維護農民整年心血，公路局谷關工務段每天增加開放中橫便道夜間通行時間，方便農友進行農產品運輸下山販售，上述進行道路通行時間調整的措施，主要是為了達到國家存在的何種目的？ (A)維護安全 (B)保存文化 (C)發展經濟 (D)重視福利。

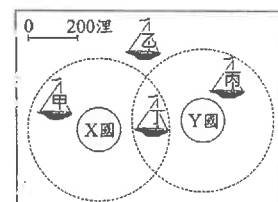
50. 海巡署艦隊分署直屬船隊「巡護七號」自高雄港出發，將依法執行漁業巡護工作，查緝違規作業漁船，以維護我國漁船在公海作業之漁業秩序及提供公海上急難救助等相關事項。「巡護七號」最可能位於附圖中哪一個位置執行公務？(A)甲 (B)乙 (C)丙 (D)丁。

51. 日本在野黨在福島縣當地小名濱港附近舉行反核汙水抗議活動，反對日本政府和東京電力公司違背之前對福島縣漁業團體的承諾，啟動核汙水排海。多位在野黨國會議員要求日本政府立即取消核汙染水排放計畫，以保護當地漁業從業者生計。上述日本在野黨的作為是為了達成何種政黨的責任？ (A)監督政府 (B)組織政府 (C)推翻政府 (D)保護政府。

※行政  
總統，由公民間接選舉，任期4年。

※立法  
參議院，各州2人，任期6年。  
眾議院，根據各州人口比例而定，任期2年。

※司法  
聯邦最高法院。



52. 新竹縣芎林鄉一處廢木材堆置場發生火警，火勢一直未完全撲滅。新竹縣環保局依違反空氣污染防治法進行裁罰；另外現場未經申請堆置木材，也會依違反區域計畫法規定處罰。政府相關單位開罰必須依據法律，是屬於何種民主政治的精神？(A)法治政治 (B)政黨政治 (C)民意政治 (D)責任政治。
53. 在民主政治中，會隨制度變遷而改變，也可能因政權轉移而被取代是下列何者？(A)國家 (B)政黨 (C)政府 (D)人民。
54. 在人治社會中，統治者根據自己的喜怒好惡來統治人民，可向人民隨意徵稅 或是限制自由，下列哪一個情況正是「人治社會」的呈現？  
(A)俄國沙皇彼得一世為增加軍費的收取，加重國內農民肩上的稅捐負擔  
(B)英國約翰王簽署大憲章，規範政府須根據法律，才能逮捕、囚禁人民  
(C)立法院修正《電業法》條文，明定政府審議電費應以公開透明為原則  
(D)在「行人優先區」汽機車車速不得逾 20 公里，嚴重時超速會依法罰款。
55. 有民眾多次按門鈴騷擾住戶，造成他人困擾，因此被依違反社會秩序維護法裁罰 2000 元，下列選項中，何者與《社會秩序維護法》屬於同一機關制定、修正的法令？(A)職業安全衛生管理辦法 (B)道路交通管理處罰條例 (C)道路交通安全規則 (D)臺灣學術網路管理規範。
56. 朝野針對「18 歲公民權」紛紛喊出下修選舉權的主張，但要達成此目標，需進行憲法的修改，依現行規定來看，《18 歲公民權修憲案》應該由哪一個機關提出？(A)司法院 (B)總統府 (C)行政院 (D)立法院。
57. 政府依據原住民族教育法和原住民族教育法施行細則，鼓勵學校將原住民族文化內涵融入校園空間。關於這兩項法規的敘述，哪一項正確？  
(A)原住民族教育法是由原住民族委員會制定通過  
(B)原住民族教育法施行細則是由立法院通過  
(C)原住民族教育法施行細則的法律位階高於原住民族教育法  
(D)兩項法規皆是根據我國憲法的精神及內容而制定。
58. 日前大法官做出死刑釋憲案判決，認定 1999 年 4 月 21 日修正公布的《刑法》第 348 條第 1 項規定：「犯前條第 1 項（意圖勒贖而擄人）之罪而故意殺被害人者，處死刑。」其中「處死刑」因不問犯罪情節是否已達最嚴重程度，皆一律判處死刑，條文規範過於嚴苛，不符罪責原則，因此違反《憲法》保障生命權的意旨。上述法律不得違反憲法意旨，展現了憲法的何種特性？(A)權威性 (B)原則性 (C)固定性 (D)最高性。
59. 凌晨一名男子酒駕開車，把路上的重機騎士撞飛，機車甚至當場起火，駕駛卻直接肇事逃逸，最後被警方逮捕並移送法辦。警方執法的依據為下列何者？(A)公權力 (B)基本人權 (C)監督權 (D)執政權。
60. 一名鄉長收取數百萬賄款，讓賄賂的民眾順利錄取清潔隊員；另外疫情期間鄉公所採購醫療用口罩時，指示部屬圖利特定廠商。最後被法院依貪汙收賄、圖利罪判多年有期徒刑，並褫奪公權。上述公職人員違法而負起法律責任，是屬於何種民主治理的特徵？(A)政黨政治 (B)法治政治 (C)責任政治 (D)民意政治。

【試題結束】

台南市立後甲國中 113 學年度第 1 學期社會科第 1 次定期考試題  
二年級答案

1	2	3	4	5	6	7	8	9	10
A	C	B	D	C	A	C	D	A	A
11	12	13	14	15	16	17	18	19	20
C	D	B	D	A	D	C	C	B	B
21	22	23	24	25	26	27	28	29	30
A	C	A	B	D	D	A	A	C	D
31	32	33	34	35	36	37	38	39	40
C	B	C	B	A	D	C	D	B	D
41	42	43	44	45	46	47	48	49	50
D	A	B	B	C	B	C	D	C	B
51	52	53	54	55	56	57	58	59	60
A	A	C	A	B	D	D	D	A	C