


國小數學 2 下單元卷 五、乘法

二年 班 號 姓名： _____

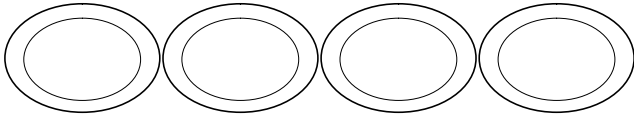
1 看圖寫出乘法算式。(每格 1 分，共 12 分)

(1) 有幾個蛋糕？




$1 \times () = ()$

(2) 有幾顆湯圓？



$0 \times () = ()$


(3) 有幾個蘋果？



$2 \times () = ()$

$6 \times () = ()$

(4) 有幾隻蝸牛？



$5 \times () = ()$

$8 \times () = ()$

2 填填看看。(每格 2 分，共 24 分)

(1) $10 \times 0 = ()$

(2) $0 \times 8 = ()$

(3) $9 \times 3 = () \times 9$

(4) $1 \times 7 = () \times 1$

(5) $5 \times 10 = 10 \times ()$

(6) 「1 的 5 倍」比「1 的 7 倍」少。

() 個 1，是少 ()。

(7) 「10 的 6 倍」比「10 的 5 倍」多了。

() 個 10，是多 ()。

(8) 10×7 比 10×10 少 ()。

(9) 在 裡填入 $>$ 、 $<$ 或 $=$ ：

0×9 0×3

(10) 每個盤子裡都有 10 顆水餃，

6 個盤子共有 () 顆水餃。

3 把答案相同的算式連起來。

(每條連線 2 分，共 10 分)

4×5	6×9	0×8	1×10	8×7
.
.
10×1	7×8	5×4	9×6	5×0

4 回答問題。(每格 1 分，共 7 分)

芊芊和宜軒到夜市玩射飛鏢，每個人射 10 枝飛鏢。

(1) 算出兩人各項的得分，填填看看。

① 芊芊

0 分 2 枝： $0 \times 2 = ()$

1 分 5 枝： $1 \times 5 = ()$

10 分 3 枝： $10 \times 3 = ()$

② 宜軒

0 分 3 枝： $0 \times 3 = ()$

1 分 3 枝： $1 \times 3 = ()$

10 分 4 枝： $10 \times 4 = ()$

(2) 誰的得分比較多？()

5 用乘法算式記記看。(每題3分,共18分)

(1) 一個橡皮擦賣10元,弟弟買3個橡皮擦,要付多少元?

(2) 一個人有1個杯子,9個人共有幾個杯子?

(3) 一盤蒸餃有10個,爸爸點6盤,共有幾個蒸餃?

(4) 每個箱子裡都裝了10罐果汁,3個箱子裡共有幾罐果汁?

(5) 射箭遊戲,爸爸8次都射中0分,一共得到多少分?

(6) 爺爺每天寫1張書法,8天一共寫了幾張書法?

6 投球比賽,每個人投5球,回答下面問題。

(第(3)題每格2分,其餘每題4分,共20分)



(1) 健明的5球都投中10分,他一共得到()分。

(2) 巧筠的5球都沒有投中,她一共得到()分。

(3) 士傑投中2球10分和3球1分,
 $10 \times 2 = (\quad)$, $1 \times 3 = (\quad)$
 $(\quad) + (\quad) = (\quad)$
他一共得到()分。

7 素養題。(每題3分,共9分)

媽媽生日的時候,沛珮和弟弟想一起買禮物送給媽媽,他們把各自撲滿裡的錢倒了出來,結果如下圖。

 ① : 5 個 ⑤ : 5 個 ⑩ : 9 個	 ① : 8 個 ⑤ : 4 個 ⑩ : 6 個
--	--

(1) 沛珮的撲滿裡有多少元?

(2) 弟弟的撲滿裡有多少元?

(3) 兩個人合起來共有多少元?