


國小數學 2 下單元卷 六、兩步驟應用問題

二年 班 號 姓名： _____

1 有多多少少？寫出兩種不同的做法。

(每格 1 分，共 36 分)

(1)




① () × () = ()

() + () = ()

② () × () = ()

() - () = ()

(2)




① () × () = ()

() - () = ()

② () × () = ()

() + () = ()

(3)



① () × () = ()

() + () = ()

② () × () = ()

() - () = ()

2 填填看看。(每格 2 分，共 20 分)

(1) 一盒牛奶糖有 10 顆，國勁買了 3 盒，小豪買了 5 盒。

① 小豪比國勁多買了 () 盒，是多買了 () 顆牛奶糖。

② 兩個人合起來買了 () 盒，一共是 () 顆牛奶糖。

(2) 一瓶紅茶 18 元，今天特價只賣 12 元，一瓶便宜了 () 元。羽喬買了 6 瓶，一共省了 () 元。

(3) 一盒蛋塔有 6 個，媽媽買了 3 盒，全家八人吃掉 7 個後，還剩下 () 個蛋塔。

(4) 筱妍今年 8 歲，爺爺的年齡是她今年的 7 倍多 6 歲，爺爺今年 () 歲。

(5) 一把直尺 7 元，老師付錢買 9 把，還找回 7 元，老師付了 () 元。

(6) 一張圖畫紙 6 元，姐姐買了 5 張，付了一個 50 元，會找回 () 元。

3 想一想，填一填。(每格 2 分，共 12 分)

文翰的撲滿裡有 1 元、5 元和 10 元三種硬幣。其中 5 元硬幣有 6 個，10 元硬幣比 5 元硬幣少 3 個，1 元硬幣比 5 元硬幣多 2 個。

(1) 完成下面的表格。

幣別	1 元	5 元	10 元
個數(個)	()	6	()
金額(元)	()	()	()

(2) 文翰的撲滿裡共有 () 元。

4 把做法和答案記下來。

(每題 4 分，共 28 分)

(1) 可頌麵包一個 15 元，開幕期間一個便宜 5 元，爸爸買了 4 個，一共要付多少元？

(2) 一份雞蛋糕有 6 個，媽媽買了 3 份原味和 2 份起司口味，全部是買了幾個雞蛋糕？

(3) 一個長尾夾 6 元，玲玉買了 8 個，她付了 50 元，可以找回多少元？

(4) 童軍團每隊都有 5 個男生和 4 個女生，5 隊共有幾個人？

(5) 一個橡皮擦 7 元，佳儀買了 4 個，韻芬買了 8 個，佳儀比韻芬少付幾元？

(6) 一包糖果有 10 顆，隆興買了 8 包糖果，吃掉 5 顆後，還剩下幾顆糖果？

(7) 一個蔥油餅 25 元，一杯紅茶 10 元，詩琪買了 1 個蔥油餅和 6 杯紅茶，一共要付多少元？

5 素養題。(4 分)

爸爸去透心涼冰店買冰棒，買的口口味、價錢和數量如下表。爸爸一共要付幾元？

清冰	鳳梨	百香果	紅豆	牛奶
7 元	10 元	10 元	10 元	10 元
8 枝	2 枝	3 枝	2 枝	2 枝