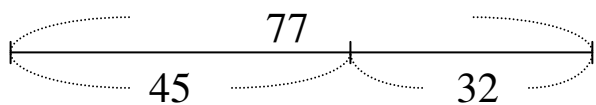


國小數學 2 上單元卷 四、加減關係與應用

二年 班 號 姓名：_____

1 看圖填填看。(每題 3 分，共 12 分)



(1) $45 + 32 = (\quad)$

(2) $32 + 45 = (\quad)$

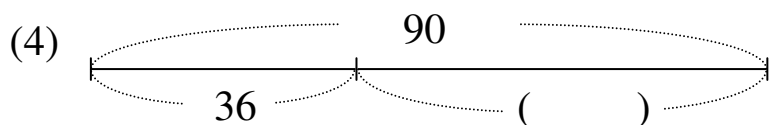
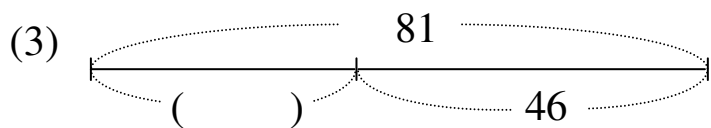
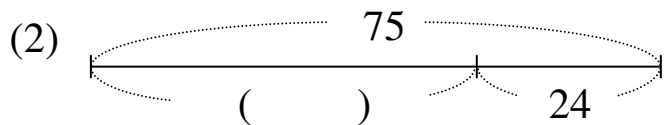
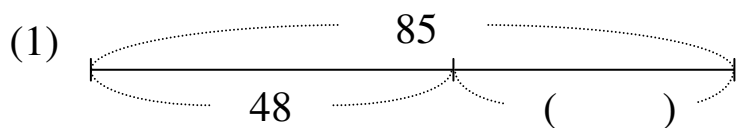
(3) $77 - 45 = (\quad)$

(4) $77 - 32 = (\quad)$

2 看圖算算看，() 是多多少？把

做法和答案記下來。

(每題 5 分，共 20 分)



3 用直式算算看，再驗算。

(每題 6 分，共 24 分)

(1) $90 - 8 = (\quad)$ 驗算

(2) $54 - 45 = (\quad)$ 驗算

(3) $86 - 37 = (\quad)$ 驗算

(4) $62 - 47 = (\quad)$ 驗算

4 下面哪些驗算方法是對的？

在 裡打 \checkmark 。(4 分)

$73 - 5 = 68$

小銘

小玲

小如

$$\begin{array}{r} 68 \\ - 5 \\ \hline 63 \end{array}$$

$$\begin{array}{r} 1 \\ 68 \\ + 5 \\ \hline 73 \end{array}$$

$$\begin{array}{r} 1 \\ 5 \\ + 68 \\ \hline 73 \end{array}$$

5 把做法和答案記下來。

(每題 5 分，共 30 分)

- (1) 外婆烤了 52 片餅乾，分送給鄰居一些後，還剩下 37 片，外婆送出幾片餅乾？

答：

- (2) 大橋國小二年級原來有 87 個學生，這學期轉入一些二年級的學生後，現在一共有 96 個學生，大橋國小這學期有幾個二年級學生轉入？

答：

- (3) 衣櫥裡有 75 件上衣，其中有一些是長袖，剩下的 39 件都是短袖，衣櫥裡有幾件長袖上衣？

答：

- (4) 麵包店上午賣出 29 個麵包，下午還要再賣出幾個麵包，今天才可以賣出 60 個麵包？

答：

- (5) 飲料店昨天賣出 84 杯茶，其中有一些是紅茶，剩下的 56 杯是綠茶，昨天賣出幾杯紅茶？

答：

- (6) 姐姐編手環，已經編了 8 公分長，還要再編幾公分，手環才會長 32 公分？

答：

6 素養題。(每題 5 分，共 10 分)

小瑜：我存了 39 元。

小豪：我存了 70 元。

- (1) 小瑜要再存多少元，才可以買一個 85 元的鉛筆盒？

答：

- (2) 小豪拿存的錢買了一個模型後，還剩下 13 元，一個模型要多多少元？

答：