


國小 數學 1 下 第三次段考複習卷 (第七單元~第九單元)

一年__班 座號：__ 姓名：__ 分數：__

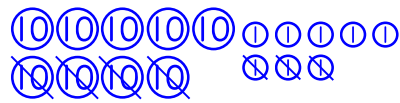
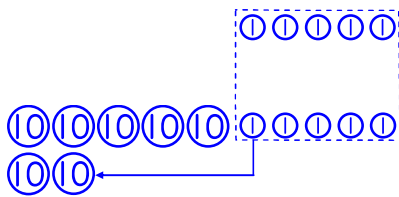
(本題做法僅供參考)

1 算算看看。(每題 2 分，共 12 分)

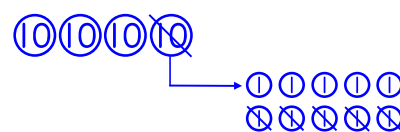
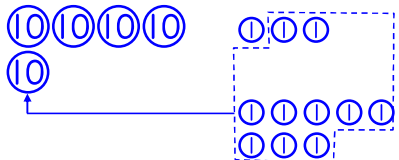
(1) $42 + 34 = (76)$ (2) $56 - 40 = (16)$



(3) $5 + 65 = (70)$ (4) $98 - 43 = (55)$

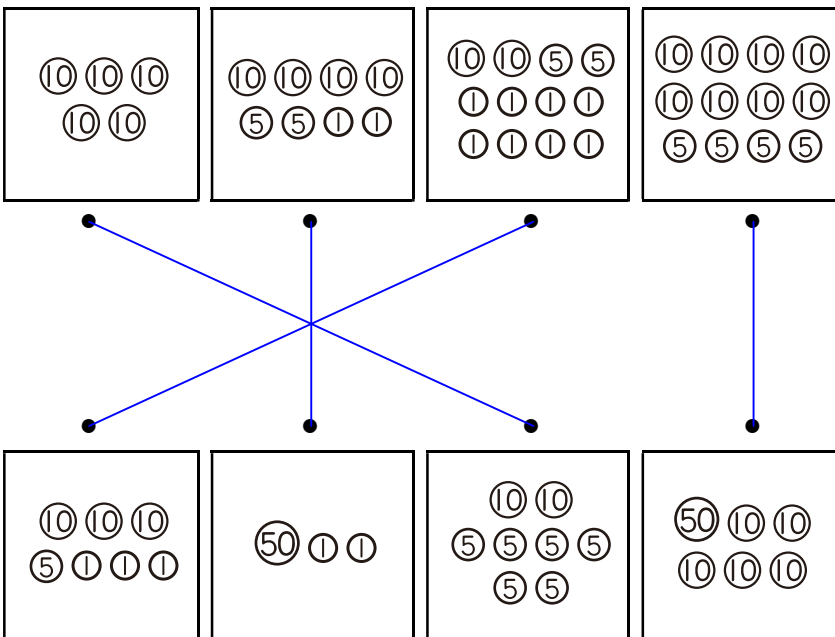


(5) $43 + 8 = (51)$ (6) $40 - 5 = (35)$



2 把一樣多的錢連起來。

(每條連線 2 分，共 8 分)



3 先完成月曆，再回答問題。

(填月曆 4 分，其餘每格 2 分，共 28 分)

11 月						
日	一	二	三	四	五	六
		(1)	2	3	4	5
(6)	7	8	9	(10)	11	12
13	(14)	15	16	17	(18)	19
20	21	(22)	23	24	25	(26)
27	28	29	(30)			

- 11 月一共共有 (30) 天。
- 11 月 12 日是星期 (六)。
- 11 月週休二日一共共有 (8) 天。
- 姐姐每個星期都要上鋼琴課，姐姐 11 月一共共有 (4) 天要上鋼琴課。
- 韋成每個星期三都要上圍棋課，11 月第一次上圍棋課是 11 月 (2) 日，最後一次上圍棋課是 11 月 (30) 日。
- 如果今天是 11 月 8 日星期二，那麼昨天是 11 月 (7) 日星期一，明天是 11 月 (9) 日星期三。
- 韻如 11 月 9 日生日，文文 11 月 20 日生日，安安 11 月 16 日生日，今年 (韻如) 的生日最先到，(文文) 的生日最晚到。

4 填填看看。(每格 2 分，共 10 分)

- 冠傑想买一把 40 元的剪刀。
 - 用 (10) 來付，要付 (4) 個。
 - 用 (5) 來付，要付 (8) 個。
 - 用 (1) 來付，要付 (40) 個。
- 爸爸想买一個 50 元的便當。
 - 用 (50) 來付，要付 (1) 個。
 - 用 (10) 來付，要付 (5) 個。

5 寫出做法和答案。

(每題4分，共20分)(本題做法僅供參考)

- (1) 姐姐有64片CD，一片CD裝在1個CD套裡，CD套少22個，姐姐有幾個CD套？

$64 - 22 = 42$

答：(42)個CD套

- (2) 奶奶包了74個肉粽，媽媽比奶奶少包了34個，媽媽包了幾個肉粽？

$74 - 34 = 40$

答：(40)個肉粽

- (3) 饅頭店做了92個蛋黃肉包，賣掉8個，還剩下幾個蛋黃肉包？

$92 - 8 = 84$

答：剩下(84)個蛋黃肉包

- (4) 工人檢查路燈，已經檢查完28盞，還有20盞沒有檢查，工人共要檢查幾盞路燈？

$28 + 20 = 48$

答：(48)盞路燈

- (5) 弟弟有9元，哥哥的錢比弟弟多57元，哥哥有多多少元？


$9 + 57 = 66$

答：(66)元

6 想一想，畫畫看看。

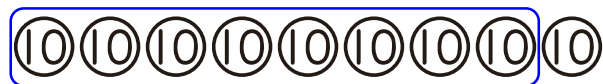
(每題4分，共12分)(本題畫法僅供參考)

- (1) 詩涵有8個⑩，想買一杯55元的珍珠鮮奶茶，最少要付幾個⑩才夠？



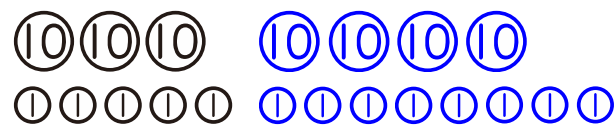
答：最少要付(6)個⑩才夠

- (2) 軒宇有9個⑩，想買一瓶72元的豆漿，最少要付幾個⑩才夠？



答：最少要付(8)個⑩才夠

- (3) 華明有35元，想買一個83元的飯糰，還要付多少元才會剛好？



答：還要付(48)元

7 素養題。(每題5分，共10分)

▲有效期限。

有效期限是指從這個日期的明天開始，東西就有可能壞掉而不能使用。

7月

日	一	二	三	四	五	六
			1	2	3	4
5	6	7	8	9	10	11
12	13	14	15	16	17	18
19	20	21	22	23	24	25
26	27	28	29	30	31	

- (1) 好味柳橙汁的有效期限是7月7日，從哪一天開始果汁就有可能壞掉？(7)月(8)日

- (2) 今天是7月10日，媽媽每個星期日上午都會泡咖啡鮮乳，固德保久乳的有效期限是7月31日，可以讓媽媽泡幾次咖啡鮮乳？(3)次