





出  
又  
丁  
么  
夕  
一

一 么	一 么	一 么	一 么
一 么	一 么	一 么	一 么



ㄅ一幺	ㄆ一幺	ㄇ一幺	ㄏ一幺	ㄏ一幺
ㄅ一幺	ㄆ一幺	ㄇ一幺	ㄏ一幺	ㄏ一幺
ㄅ一幺				
ㄅ一幺				

ㄆ一幺	ㄇ一幺	ㄏ一幺	ㄏ一幺	ㄏ一幺
ㄆ一幺	ㄇ一幺	ㄏ一幺	ㄏ一幺	ㄏ一幺
ㄆ一幺	ㄇ一幺	ㄏ一幺	ㄏ一幺	ㄏ一幺
ㄆ一幺	ㄇ一幺	ㄏ一幺	ㄏ一幺	ㄏ一幺




只  
只  
只

X 马	X 马	X 马	X 马
X 马	X 马	X 马	X 马



𠂇	厶	勹	𠂇	出
𠂇	厶	勹	𠂇	出
𠂇				
𠂇				

儿	勹	厶	勹	匚
儿	勹	文	匚	𠂇
儿	勹	厶	勹	匚
儿	勹	文	匚	𠂇



イ又  
 丁  
 一  
 一  
 一

イ	イ	イ	イ
イ	イ	イ	イ
イ	イ	イ	イ



4 — Y	4 — Y	4 — Y	4 — Y	4 — Y
回 ㄣ	4 — Y	4 — Y	4 — Y	4 — Y
4 — Y				
回 ㄣ				

丁 — 么	ㄣ 马	—	4 — Y	4 — Y
丁 — Y	4 — Y	4 — Y	彳 X 厶	巾
丁 — 么	ㄣ 马	—	4 — Y	4 — Y
丁 — Y	4 — Y	4 — Y	彳 X 厶	巾

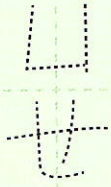

# 四

彳 廴 冫 卩 卩 幺




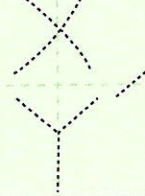
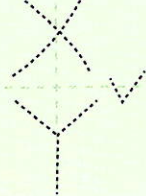
卩、  
卩

卩  
卩



彳、  
彳

彳、  
彳




一 Y	く せ	丁 せ	厂 x Y	尸 x Y
尸 x Y	く せ	丁 せ	厂 x Y	尸 x Y
一 Y				
尸 x Y				

ㄋ ㄇ	丁 せ	ㄋ x ㄥ	丁 せ	厂 x Y
ㄥ x Y	厂 x Y	ㄋ ㄥ	回 ㄥ	ㄋ ㄇ
ㄋ ㄇ	厂 x Y	ㄋ x ㄥ	丁 せ	イ せ
ㄥ x Y		ㄋ ㄥ	回 ㄥ	



# 五

カ  
ク  
ケ  
コ

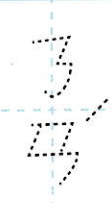
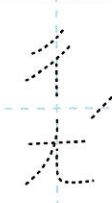



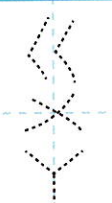
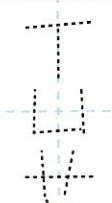


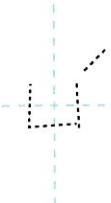


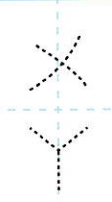
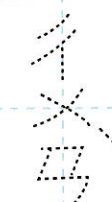


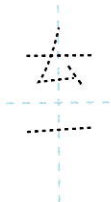



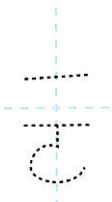




マ	マ	マ	エ
マ	マ	マ	エ



𠄎	カ	ㄋ	く	一
一	カ	ㄋ	く	一
𠄎				
一				

丁	去	カ	ㄋ	ㄣ
丁	去	カ	ㄋ	ㄣ
丁	去	カ	ㄋ	ㄣ
丁	去	カ	ㄋ	ㄣ

文 マ	勿 マ	子 マ	口 マ	勿 マ
勿 マ	厂 マ	子 マ	夕 マ	川 マ
万 マ	く マ	去 マ	去 マ	丁 マ

尸 マ	去 マ	万 マ	勿 マ	勿 マ
一 マ	厂 マ	去 マ	川 マ	勿 マ
				厂 マ

丁 么	彳 又	出 ×	山 厶	夕 么
尸 又	丁 么	丁 么	夕 彳	厶 ×
尸 ×	一 彳	夕 一	夕 彳	

去 厶	夕 尤	厶 彳	夕 ×	尸 ×
夕 ×	夕 厶	去 尤	夕 彳	夕 夕
		尸 ×	尸 ×	

# 整點鐘





→ 12

→ 3

長針指 12，短針指 3，  
是 3 點鐘。



 鐘面上長針指到 12，短針指到幾？是幾點鐘？在正確的數字塗上顏色。



5 4 點鐘


8 9 點鐘



# 整點鐘



鐘面上長針指到 12，短針指到幾？是幾點鐘？在正確的數字塗上顏色。



6

7

點鐘



5

4

點鐘



1

2

點鐘



10

11


點鐘



8

7

點鐘



7

6

點鐘

# 整點鐘

鐘面上長針指到 12，短針指到幾？是幾點鐘？在正確的數字塗上顏色。



6

7

點鐘



5

4

點鐘



1

2

點鐘



10

11


點鐘



8

7

點鐘



7

6

點鐘











# 數字鐘



 數字鐘上的時刻和哪個鐘面是一樣的？把它們畫線連起來。




# 畫短針

鐘面上的短針應該指到哪裡？在鐘面上畫出來。




3 點鐘




11 點鐘



8 點鐘








2 點鐘



9 點鐘

# 複習 10 以內的分解與合成

依照數字分解指示，將圖案塗上兩種不同的顏色。





找出兩張相加後是10的撲克牌，畫線連起來。

