

一、是非題：每題 3 分，共 18 分

- () 1. 嘉義縣東石鄉沿海地區因為空氣汙染，導致居住品質不佳，人口越來越少。
- () 2. 醫療技術持續精進，有助於降低家鄉的人口死亡率。
- () 3. 老年人屬於「被扶養人口」，是因為他們對社會的貢獻度較低。
- () 4. 一般而言，都市地區從事服務業的人口數會比鄉村多。
- () 5. 隨著老年人口比例逐年提升，社會上對長期照護、終身教育等服務的需求也跟著增加。
- () 6. 為了培養國際觀，我們只須學習外來語言，不用重視家鄉母語的保存與傳承。

二、選擇題：每題 4 分，共 32 分

- () 1. 下列哪一個是魯凱族傳統石板屋前，居民用來工作、社交或休閒活動的開放空間？(①正廳②埕③陽臺④前庭)。
- () 2. 關於阿美族傳統飲食文化敘述，下列哪一項錯誤？(①不喜歡食物的原味，因此會在料理中添加許多的調味料②經常採集田野間的多種野菜烹煮成野菜湯③會利用葉子、竹子等自然資源作成簡易的鍋具④會將捕獲的肉類就地取材進行燒烤)。
- () 3. 「人口老化」是現今許多鄉村地區面臨的發展問題，造成這項問題的主要原因是什麼？(①鄉村地區房價昂貴②鄉村地區環境汙染嚴重③鄉村地區工作機會少④鄉村地區居住空間不足)。
- () 4. 現今政府推出一系列生育和育兒補助是為了因應下列哪一種人口需求？(①移入的人口過多②新生兒出生人數逐年下降③老年人口逐年增加④人口過度移出)。
- () 5. 學習外語不會對我們帶來下列哪些好處？(①改變原住民族的傳統文化②幫助我們認識他國文化③可以流利和外國人溝通④拓展自己的國際視野)。
- () 6. 泰雅族婦女利用下列哪一種植物來編織傳統服飾？(①苧麻②竹筍③姑婆芋④榕樹)。
- () 7. 人口分布圖上顯示苗栗市人口數較泰安鄉多，可能的因素不包括下列哪一項？(①交通較便利②工作機會較多③地勢較平坦④土地面積較大)。
- () 8. 我們在面對外來文化時，下列哪一種是正確的行為或態度？(①批評不同文化的活動②拒絕參加③理解節慶的意義④嘲笑外國傳統服裝)。

三、依下列題意，敘述正確的在()裡打✓，錯誤的打✕：每小題4分，共32分

甲、下列哪些地方較可能吸引人口移入？

- () 1. 喜樂村位於深山地區，外出採買十分不便。
- () 2. 平安鎮的交通網密集，有鐵路、高速公路等。
- () 3. 美滿鄉每逢大雨來襲，必定發生嚴重水災。
- () 4. 幸福市設置科技園區，提供大量就業機會。


乙、有關人口變化的敘述，哪些正確？

- () 1. 生育觀念的改變，使近年來我國新生兒出生人數不斷增加。
- () 2. 隨著機械取代人力，也影響新生兒的出生人數。
- () 3. 只有人口移入跟移出才會使人口數產生變化。
- () 4. 一地的人口過度移出，可能導致勞動力不足的問題。

四、可凡想了解家鄉人口結構情況，她應該分別查閱哪一種人口資料較適當？


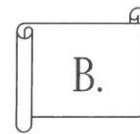
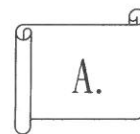
將符合的代號填入()裡：每題2分，共6分

ㄅ. 產業類別
ㄆ. 教育程度
ㄇ. 年齡分組



- () 1. 居民的學歷。
- () 2. 家鄉的勞動力。
- () 3. 各類型工作的就業人口比例。

五、根據下方圖片中的建築，回答下列問題，敘述正確的在()裡打✓，錯誤的打✕：每小題3分，共12分



甲、請問圖片 A 是哪一種傳統住居？

- ㄅ. 地下屋。
- ㄆ. 三合院。
- ㄇ. 石板屋。
- ㄉ. 寺廟。

乙、請問圖片 A 中間的正廳是下列哪一種活動的主要地點？

- ㄅ. 家族祭祀。
- ㄆ. 遊戲。
- ㄇ. 考試。
- ㄉ. 午休。

丙、請問圖片 B 是下列哪一個族群的傳統住居？

- ㄅ. 客家人。
- ㄆ. 魯凱族。
- ㄇ. 阿美族。
- ㄉ. 漢人。

丁、請問走進圖片 B 的建築時，我們比較可能會看到下列哪個物品？

- ㄅ. 雕刻飾品。
- ㄆ. 油畫。
- ㄇ. 藍染的服飾。
- ㄉ. 多國語言的說明標示。