

國小數學 4 下 期末考卷(A) 第六單元~第十單元

四年_____班_____號 姓名：_____

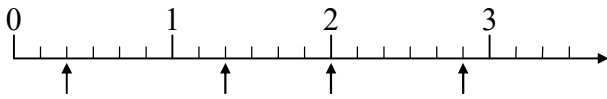
① 填填看。(每格 1 分, 共 15 分)

1. 將小數換成分數, 分數換成小數。

(1) $0.02 = (\quad)$ (2) $3.2 = (\quad)$

(3) $\frac{39}{100} = (\quad)$ (4) $\frac{45}{50} = (\quad)$

2. 箭頭所指的刻度各是多少? 用分數表示。



() () () ()

3. 264 秒鐘 = () 分鐘 () 秒鐘

4. 80 小時 = () 日 () 小時

5. 2 小時 10 分鐘 = () 分鐘

= () 秒鐘

6. $\frac{9}{13}$ 瓶牛奶和「五十二分之幾」瓶牛奶一樣多?

() 瓶

② 在正確的()裡打√。(每個答案 1 分, 共 10 分)

1. 哪些分數比 $\frac{15}{8}$ 小?

$\frac{30}{16}$ $\frac{62}{32}$ $\frac{39}{24}$ $\frac{78}{40}$ $\frac{84}{48}$

() () () () ()

2. 哪些分數比 $\frac{4}{7}$ 大?

$\frac{15}{21}$ $\frac{9}{14}$ $\frac{18}{35}$ $\frac{31}{56}$ $\frac{15}{28}$

() () () () ()

3. 哪些分數和 $\frac{2}{5}$ 相等?

$\frac{16}{25}$ $\frac{5}{10}$ $\frac{8}{20}$ $\frac{15}{35}$ $\frac{18}{45}$

() () () () ()

4. 哪些數是偶數?

4569 3072 2001 5159 1022

() () () () ()

5. 哪些算式的結果是奇數?

$353 - 179$ 24×99 35×47 $212 + 766$

() () () ()

6. 哪一個估算最接近 $4998 \div 195$ 的答案?

$500 \div 100$ $500 \div 200$ $5000 \div 100$ $5000 \div 200$

() () () ()

③ 下面哪些是在比較「體積」的大小? 在()裡打√。(每題 1 分, 共 5 分)

() 1. 西瓜和鳳梨, 哪一個比較大?

() 2. 爸爸和哥哥的腳印, 哪一個比較大?

() 3. 郵票和名片, 哪一個比較大?

() 4. 火車和遊覽車, 哪一個比較大?

() 5. 足球場和籃球場, 哪一個比較大?

④ 下表是依照數字的順序, 有規律的填寫, 從這張表格中剪下一部分, 且擦掉一些數字, 可能是下面哪一張? 在()裡打√。(每題 2 分, 共 8 分)

1	2	3	4	5
6	7	8	9	10
11	12	13	14	15
16				

1.

			35	
		39		

()

2.

			69	
		73		

()

3.

				50
			69	

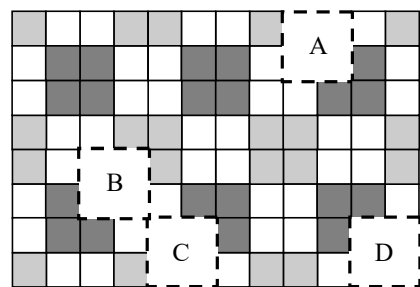
()

4.

	51			
	56			

()

⑤ 下圖是用磁磚有規律鋪排的一面牆壁, A~D 區域各是哪一塊磁磚的樣子? 填入對應的代號。(每格 2 分, 共 8 分)



()



()




()

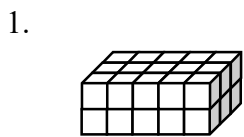


()

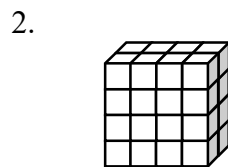
6. 下面是菜農去年種植各種蔬菜的收入，填填看。(每格1分，共12分)

蔬菜	高麗菜	白蘿蔔	小白菜	花椰菜
收入(元)	204759	317362	72315	173826
用無條件進入法取概數到千位				
用無條件捨去法取概數到千位				
用四捨五入法取概數到千位				

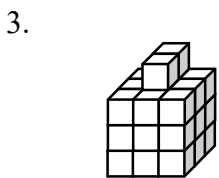
7. 一個  是 1 立方公分，下面形體的體積各是多少立方公分？(每題 2 分，共 12 分)



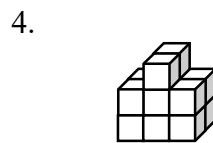
() 立方公分



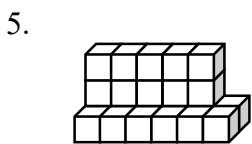
() 立方公分




() 立方公分



() 立方公分



() 立方公分



() 立方公分

8. 把做法和答案記下來。(每題 5 分，共 30 分)

1. 一包白米重 $\frac{13}{6}$ 公斤，一包糙米重 $\frac{13}{12}$ 公斤，這兩包米共重幾公斤？相差幾公斤？

2. 德聯科技公司去年上半年的營業額是 3784596 元，下半年的營業額是 4227790 元，先用四捨五入法取概數到萬位，再算算看，去年的營業額大約是幾萬元？

3. 接第 2 題，先用四捨五入法取概數到千位，再算算看，上半年和下半年的營業額大約相差多少元？

4. 奶奶出國旅遊，在新加坡停留了 1 日 15 小時，在馬來西亞停留了 3 日 12 小時，她在兩個國家共停留幾日幾小時？

5. 子琪準備在 1 月 19 日上午 8 時開始做麵包，做麵包前要先讓麵糰發酵 16 小時，她最晚要在 1 月幾日幾時開始讓麵糰發酵？

6. 子坡去看一場長 3 小時 35 分鐘的馬戲團表演，表演結束時是下午 5 時 19 分，馬戲團表演是下午幾時幾分開始？