

學校：

班級：

座號：

姓名：

一、選擇題，共 7 題，每題 4 分。

※請在正確選項前打勾，並請畫記清楚，不要超過格子。

範例：下列哪一個選項是這份考卷

正確的作答方法？

- (1) 打勾勾 (2) 寫數字
- (3) 畫圈圈 (4) 畫叉叉

1. 「6 個一、8 個百」合起來是多少？

- (1) 68 (2) 86
- (3) 680 (4) 806

2. 黃吸管比紅吸管長，白吸管和紅吸管一樣長，哪一根吸管最長？

- (1) 黃吸管 (2) 紅吸管
- (3) 白吸管 (4) 一樣長

3. 下面哪個選項的答案和「6+6+6+6+6」的答案不一樣？




- (1) 5 個 6 合起來 (2) 6 的 5 倍
- (3) 6 + 5 (4) 6 × 5

4. 一件上衣 199 元，一件短褲 398 元，買一件上衣和一件短褲要付的錢，最接近下列哪個選項？

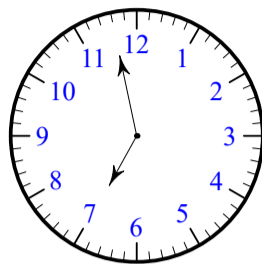
- (1) 800 元 (2) 700 元
- (3) 600 元 (4) 500 元

5. 如圖，哪一個物品最重？



- (1)  (2) 
- (3)  (4) 一樣重

6. 下圖鐘面上的時刻是幾點幾分？



- (1) 6 點 58 分 (2) 7 點 58 分
- (3) 11 點 7 分 (4) 11 點 35 分

7. 「小敏有 39 張貼紙，小君有 27 張貼紙，小逸有 11 張貼紙，三個人共有幾張貼紙？」

甲的算法： $39 + 27 = 66$ ， $66 + 11 = 77$

答：共有 77 張貼紙

乙的算法： $39 + 11 = 50$ ， $50 + 27 = 77$

答：共有 77 張貼紙

丙的算法： $27 + 11 = 38$ ， $38 + 39 = 77$


答：共有 77 張貼紙

請問誰的算法和答案都正確？

- (1) 只有甲正確
- (2) 只有乙正確
- (3) 只有丙正確
- (4) 甲、乙、丙都正確

二、填充題，共 13 題，每題 4 分。

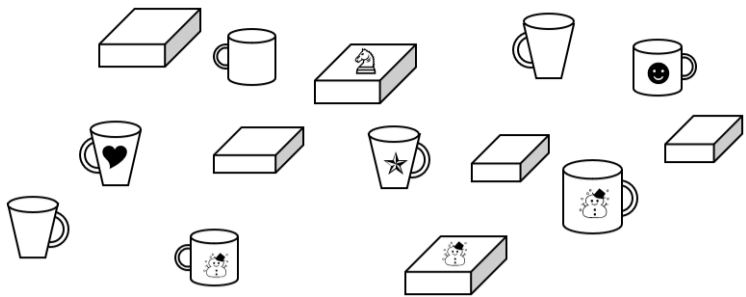
8. 如圖，小明用 $3 \times 12 = 36$ 算出共有 36 顆蘋果，請問 $12 \times 3 = (36)$ 。



9. 一枝冰棒 8 元，買 7 枝需要付 (56) 元。



10. 數一數，完成下面表格：



杯子		盒子	
有圖案的	沒圖案的	有圖案的	沒圖案的
(5) 個	(3) 個	(2) 個	(4) 個

11. 填填看：

$$425 \rightarrow 325 \rightarrow 225 \rightarrow (125) \rightarrow (25)$$

12. 在 \square 中填入 $<$ 、 $=$ 或 $>$ ：

$$797 + 1 \square 902 - 1$$




可以換成 (1) 張一千元。

14. 「 $6 \times 9 = 54$ 」，算算看：

$$6 \times 10 = (60)$$

$$6 \times 11 = (66)$$

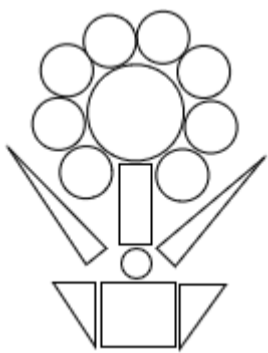
15. 數一數，圈出 512 個口。



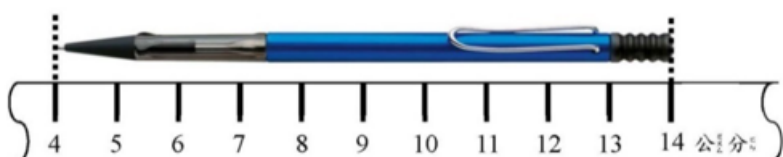
16. 將馬克杯裝滿水後，全部倒入玻璃杯中，結果沒有滿。請問哪個杯子的容量比較大？圈圈看。

(馬克杯、玻璃杯、一樣大)

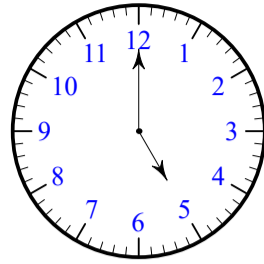
17. 數數看，下圖中的圓形有 (10) 個。



18. 填填看，圖中的筆長 (10) 公分。



19. 哥哥和朋友出去玩 2 個小時，回家後看時鐘，鐘面上顯示的時刻如下圖。哥哥是 (3) 點出門。



20. 甲繩和 15 塊紅積木接起來一樣長，甲繩也和 20 塊藍積木接起來一樣長，1 塊紅積木和 1 塊藍積木，誰比較長？圈圈看。

(1 塊紅積木、1 塊藍積木、一樣長)

三、計算題，共 2 題，每題 4 分。

21. 寫成直式算算看： $384 + 417 = (801)$

$$\begin{array}{r} 384 \\ + 417 \\ \hline 801 \end{array}$$

22. 寫成直式算算看： $85 - 17 = (68)$

$$\begin{array}{r} 85 \\ - 17 \\ \hline 68 \end{array}$$

四、應用題，共 3 題，每題 4 分。

把做法用算式記下來，並寫出答案。

23. 弟弟原有 55 元，還要再存多少元，才能有 95 元？

$$(95) - (55) = (40)$$

答：再存 (40) 元。

24. 教室裡有 32 個人，出去 16 個人後，又進來 20 個人，請問現在教室裡有多少人？

$$\text{先算：} (32) - (16) = (16)$$

$$\text{再算：} (16) + (20) = (36)$$

答：有 (36) 個人。

25. 姐姐先買了 8 張 6 元的郵票，再買了 25 元的信封，共要付多少元？

$$\text{先算：} (6) \times (8) = (48)$$

$$\text{再算：} (48) + (25) = (73)$$

答：共要付 (73) 元。

