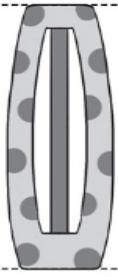




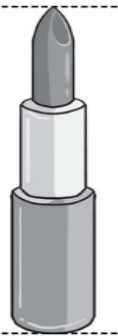
1 量一量，填填看。(每題 5 分，共 10 分)

(1)



() 公分 () 毫米

(2)



() 公分 () 毫米

2 填填看。(每格 3 分，共 18 分)

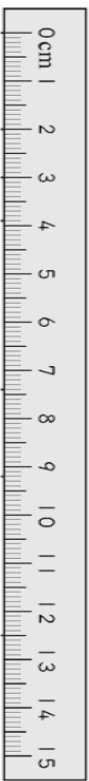
(1) 67 毫米 = () 公分 () 毫米

(2) 18 公分 = 3 毫米 = () 毫米

(3) 6 公分 = 2 毫米 = () 公分

(4) 10.8 公分 = () 公分 () 毫米

3 下面的綵帶各有多長？用小數填填看。(每格 3 分，共 18 分)



甲 () 公分

乙 () 公分

丙 () 公分


丁 () 公分

(1) 乙和丙合起來有 () 公分。

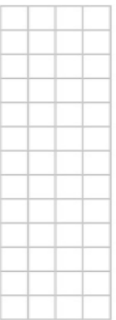
(2) 丁比甲長 () 公分。

4 用尺畫出指定的長度。(每題 6 分，共 12 分)

(1) 37 毫米



(2) 4.4 公分



5 算算看。(每題 5 分，共 10 分)

(1) $4\text{ 公分} + 5\text{ 毫米} + 78\text{ 毫米}$
= () 公分 () 毫米

(2) $93\text{ 毫米} - 2\text{ 公分} = 7\text{ 毫米}$
= () 公分 () 毫米

6 把做法和答案記下來。(每題 8 分，共 32 分)

(1) 紅繩長 158 毫米，綠繩長 74 毫米，兩條繩子接在一起，長幾公分？幾毫米？

(2) 綠豆苗原來高 8 毫米，一段時間後，高度變成了 3 公分，是長了幾公分？幾毫米？

(3) 一個面紙盒的高度是 9 公分，8 個面紙盒疊起來的高度是幾公分？幾毫米？

(4) 小玉展有一枝長 12 公分的鉛筆，用掉 1.7 公分後，還剩下幾公分？