



5-1

第五單元 小數

認識一位小數

◆配合課本第 70、71 頁

1 每個蛋糕都平分切成 10 等分，把每個人分到的蛋糕塗上顏色。

(1)




我有 0.1 個蛋糕。



(2)




我有 0.8 個蛋糕。



2 先用分數填填看，再用小數記記看。

(1) 下圖是一條彩帶，塗色全部分是 () 條彩帶，也是 () 條彩帶。



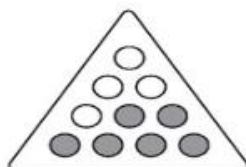
(2) 下圖是一盒月餅，塗色全部分是 () 盒月餅，也是 () 盒月餅。



(3) 下圖是一杯水，塗色全部分是 () 杯水，也是 () 杯水。



(4) 下圖是一盒巧克力，塗色全部分是 () 盒巧克力，也是 () 盒巧克力。



5-2 認識十分位

◆配合課本第 72 ~ 75 頁

看圖回答問題。

表表示 1，表表示 0.1。

(1) 下圖各表表示多少？

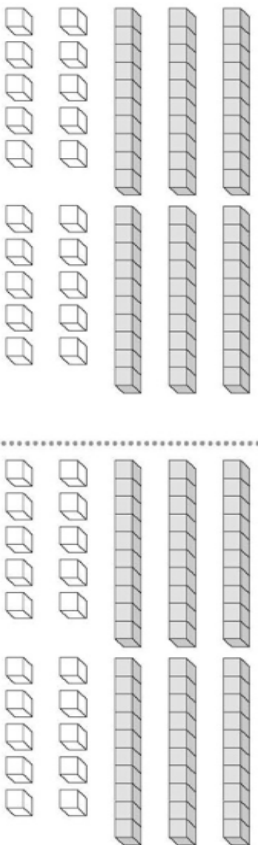
①  ()

②  ()

(2) 圈出指定的積木數量。

① 3.5

② 6.8



在定位板上記記看，再填填看。

(1) 3.4

3.4 是 () 個

1 和 () 個 0.1

合起來的。

個	十分位

(2) 23 個 0.1 合起來是 () 多

少？

這個數的個位數字是 ()，
十分位數字是 ()。

個	十分位

填填看。

(1) 6 是 () 個 0.1 合起來的。

(2) 8 個 1 和 12 個 0.1 合起來是 ()。

(3) 57 個 1 和 2 個 0.1 合起來是 ()。

(4) 3 個 10、2 個 1 和 45 個 0.1 合起來是 ()。

有著作權·侵害必究



重點整理

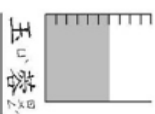
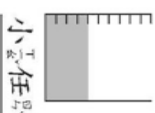
在比較一位小數的大小時，先從最高位開始比較數字的大小，高位數字相同時，再從最低一位比較。

5-3 小數的大小比較

◆配合課本第 76 頁

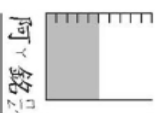
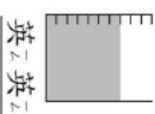
把一杯果汁平分成 10 等分，先用小數填填看，再回答問題。

(1)



小仁有 () 杯果汁，
玉山有 () 杯果汁。
誰的果汁比較多？

(2)



英英有 () 杯果汁，
阿銘有 () 杯果汁。
誰的果汁比較少？

在定位板上記記看，並在 () 裡填入 >、< 或 =。

(1) 1.4 和 0.9

個	十分位

個	十分位

(2) 2.5 和 2.8

個	十分位

個	十分位

比一比，在 () 裡填入 >、< 或 =。

(1) 4.6 () 4.8

(2) 6.3 () 3.6

(3) 10 () 9.6

(4) 0.9 () 1.2

(5) 8.7 () 八點七

(6) 10.9 () 九點七

有著作權·侵害必究