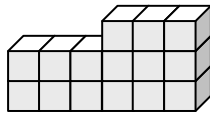



# 0628 數學複習單

## 一、選擇題

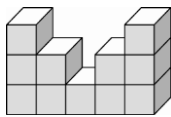
- ( ) 下列分數中，最大的是 ①  $1\frac{5}{7}$  ②  $\frac{7}{12}$  ③  $1\frac{6}{7}$  ④  $\frac{11}{7}$ 。
- ( )  $172+62-72$  也可以記成下列哪一個算式？  
 ①  $172-62+72$   
 ②  $172-72+62$   
 ③  $(72-62)+172$   
 ④  $172-62+172$ 。
- ( ) 下列分數介於 2.09 與 2.2 間的是  
 ①  $\frac{20}{10}$  ②  $2\frac{9}{20}$  ③  $2\frac{22}{100}$  ④  $\frac{21}{10}$ 。
- ( ) 現在是 8 月 20 日上午 10 時，哥哥參加飢餓 30 的活動，活動時間共 30 小時，這個活動會在下面哪一個時候結束？ ① 8 月 21 日上午 6 時 ② 8 月 21 日上午 10 時  
 ③ 8 月 21 日下午 4 時 ④ 8 月 21 日下午 8 時。
- ( ) 下圖是用每個 1 立方公分的積木堆起的形體，體積是多少立方公分？  
 ① 14 立方公分  
 ② 15 立方公分  
 ③ 16 立方公分  
 ④ 17 立方公分。



## 二、看圖填填看

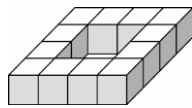
- 數數看，下面形體各是用幾個  所排成的？

甲



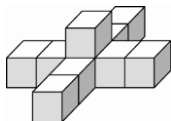
( ) 個

乙



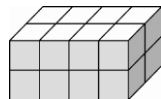
( ) 個

丙



( ) 個

丁



( ) 個

- 上面的立體形體體積最大的是 ( )。
- 上面的立體形體體積最小的是 ( )。

● 請將答案寫在空白紙張上，下午看班網對答案並訂正。