

0624 數學複習單

一、寫成直式算算看

1. 2.4×7

2. 15.5×25

3. 10.06×5

4. 8.25×21

5. $26 \text{ 分 } 48 \text{ 秒} + 8 \text{ 分 } 36 \text{ 秒}$
 $= (\quad) \text{ 分 } (\quad) \text{ 秒}$

6. $7 \text{ 日 } 5 \text{ 時} - 3 \text{ 日 } 15 \text{ 時}$
 $= (\quad) \text{ 日 } (\quad) \text{ 時}$

二、用橫式算出下列算式的答案

1. $254 - 186 + 246$

2. $509 - 165 - 235$

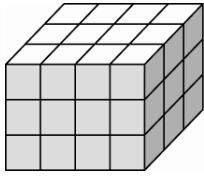
3. $69 \times 25 \times 4$

4. $125 \times 27 \times 8$

三、下面每個小立方體的體積是 1 立方公分，算算看各形體的體積是幾立方公分，並由大到小排列出來

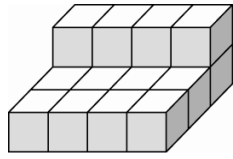
，共 8 分

甲



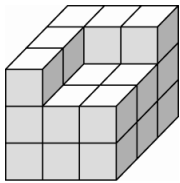
() 立方公分

乙



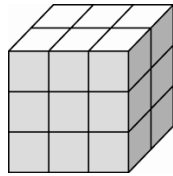
() 立方公分

丙



() 立方公分

丁



() 立方公分

▲ () > () > () > ()

● 請將答案寫在空白紙張上，下午看班網對答案並訂正。