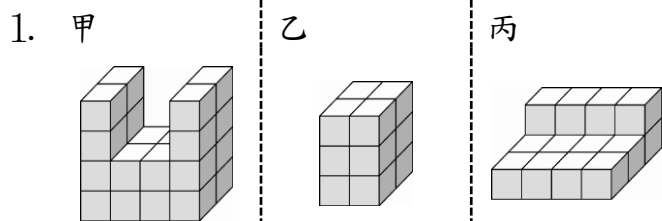
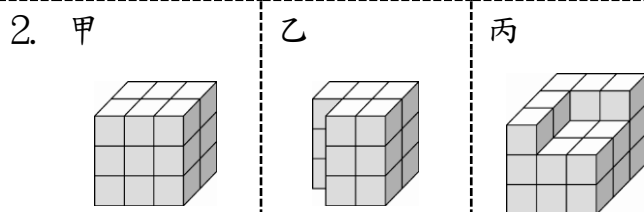


## 0617 數學複習單

一、下列每個小立方體的體積都一樣大，數數看，將各形體的體積由大排到小，填入代號




( ) > ( ) > ( )





( ) > ( ) > ( )


二、將一條紙條進行平分，先依指示塗塗看看再回答問題：

1 條：

1.  $\frac{1}{2}$  條：

2.  $\frac{2}{3}$  條：

3.  $\frac{2}{4}$  條：

4.  $\frac{4}{6}$  條：

5.  $\frac{2}{3}$  條和( )條一樣長。

6.  $\frac{1}{2}$  條和( )條一樣長。

● 請將答案寫在空白紙張上，下午對答+訂正。