





一、選出正確的答案：每題 2 分，共 10 分

- (3) 100 公分等於 (1) 100 公尺 (2) 10 公尺 (3) 1 公尺。
- (3) 5 公尺等於 (1) 5 公分 (2) 50 公分 (3) 500 公分。
- (1) 弟弟今年 6 歲，爸爸今年的年齡是弟弟年齡的 5 倍再多 4 歲，爸爸今年是 (1) 34 歲 (2) 29 歲 (3) 26 歲。
- (2) 有 15 個布丁，每 3 個裝一盒，可以裝成幾盒？ (1) 4 盒 (2) 5 盒 (3) 6 盒。
- (1) 下面哪一個敘述能表示  的塗色部分？ (1) $\frac{1}{2}$ 張色紙 (2) $\frac{1}{4}$ 張色紙 (3) 1 張色紙。

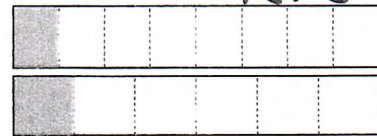
二、填填看看：每格 3 分，共 24 分

- 傑克的叔叔長 10 公分，櫃子的長邊和傑克的 5 叔叔一樣長，櫃子的長邊是 (50) 公分。
- 閏年中，(2) 月的天數最少，有 (29) 天。
- 機器人大展從 7 月 26 日開始，到 8 月 10 日結束，一共展出 (16) 天。

7 月							8 月						
日	一	二	三	四	五	六	日	一	二	三	四	五	六
				1	2	3	1	2	3	4	5	6	7
4	5	6	7	8	9	10	8	9	10	11	12	13	14
11	12	13	14	15	16	17	15	16	17	18	19	20	21
18	19	20	21	22	23	24	22	23	24	25	26	27	28
25	26	27	28	29	30	31	29	30	31				

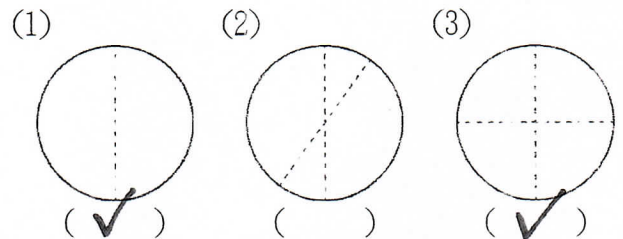
- (1) 總共有 (20) 顆球。
- 每 4 顆球裝 1 箱，可以裝 (5) 箱。
- 每 5 顆球裝 1 箱，可以裝 (4) 箱。

5. 兩條同樣大小的小土司，一條等分成 8 片，另一條等分成 6 片，妮妮吃了 $\frac{1}{8}$ 條土司，芃芃吃了 $\frac{1}{6}$ 條土司，誰吃的土司比較多？ (芃芃)

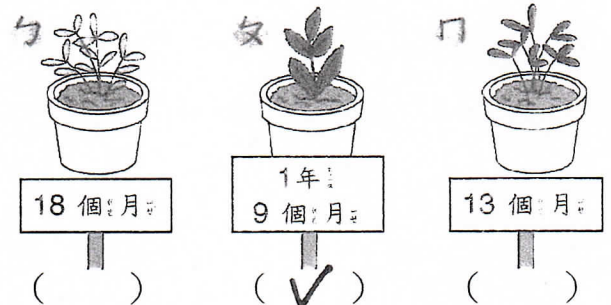


三、勾選題：每格 3 分，共 18 分

1. 下面的圖形中，有等分打 \checkmark 。





2. 下面是植物種到這個月的時間，哪一棵植物種最久？請打 \checkmark 。



四、圖圖看看：每題 2 分，共 6 分

▲ 單槓的高度是 1 公尺。

-  妹妹比單槓 (高, 矮)。
 依依比單槓 (高, 矮)。
 3. 妹妹和依依，哪一個比較高？ (妹妹, 依依) 比較高。