


一 下面有等分分的在()裡打√。

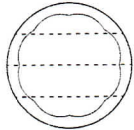
(每題3分，共18分)

1.



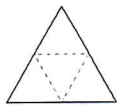
()

2.



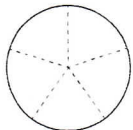
()

3.



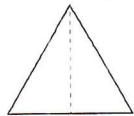
(√)

4.



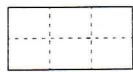
(√)

5.



(√)

6.



(√)


二 先分分看。再塗一塗。

(每題4分，共8分) (塗法僅供參考)

1. 1塊餅乾

把 $\frac{1}{2}$ 塊餅乾

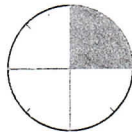

塗上顏色。



2. 1個披薩

把 $\frac{1}{4}$ 個披薩

塗上顏色。

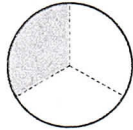



三 塗色部分是幾個蛋糕？用

分數填填看。(每題6分，共18分)

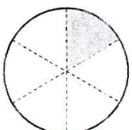
1個蛋糕

1.



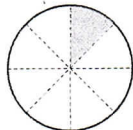
($\frac{1}{3}$) 個蛋糕

2.



($\frac{1}{6}$) 個蛋糕

3.



($\frac{1}{8}$) 個蛋糕

四 看圖回答問題。(每小題4分，共44分)

1. 這是1條生乳捲，
下面圖的塗色部分各是幾條生乳捲？連連看。

(1)		勺 $\frac{1}{2}$ 條
(2)		勺 $\frac{1}{3}$ 條
(3)		口 $\frac{1}{4}$ 條
(4)		匕 $\frac{1}{9}$ 條

(5) $\frac{1}{9}$ 條生乳捲和 $\frac{1}{3}$ 條生乳捲，
哪一個比較大？圈圈看。

($\frac{1}{9}$ 條 , $\frac{1}{3}$ 條)

2. 右圖是1張圖畫紙，
下面塗色部分是 $\frac{1}{2}$ 張
的()裡打√。



1張圖畫紙

(1)	(2)	(3)
(√)	()	()
(4)	(5)	(6)
()	(√)	(√)

五 圈圈看。(每題4分，共12分)

1. 把一個大餅等分成12份，其中
1份是 ($\frac{1}{12}$, $\frac{12}{1}$) 個大餅。

2. $\frac{1}{5}$ 條繩子是指1條繩子等分成
(1份 , 5份) 中的1份繩子。

3. 媽媽把1條芋頭捲等分成8份，
小兩吃，了其中1份，小兩吃
了 ($\frac{1}{8}$, $\frac{8}{8}$) 條芋頭捲。