


一 圈圈看，填填看。(每題8分，共24分)


1. 有24個布丁，每3個裝成一盒，可以裝成(8)盒。(圈法僅供參考)



2. 有21顆橘子，每7顆裝成一袋，可以裝成(3)袋。(圈法僅供參考)




3. 有32個人，每8個人分成1組，可以分成(4)組。(圈法僅供參考)



二 正確的打√。(每小題4分，共28分)

1. 把6顆球分給3個小朋友，下面哪一個是平分?



2. 可以剛好分完，且分到的數量一樣多的在()裡打√。

- (1) (√) 16顆草莓平分給4個人。
(2) () 18顆皮球平分給7個人。
(3) (√) 20顆水梨平分給5個人。

3. 桌子上有36個果凍。分給幾個人可以剛好分完，且分到的數量一樣多?

- (1) () 分給5個人。
(2) (√) 分給6個人。

三 填填看。(每格4分，共16分)

1. 桌子上有40顆巧克力。(1) 每個個人分4顆，可以分給(10)個人。

(2) 每個個人分5顆，可以分給(8)個人。

2. 桌子上有12顆荔枝。(1) 平分給4個人，每個個人可以分到(3)顆荔枝。

(2) 平分給6個人，每個個人可以分到(2)顆荔枝。

四 把做法用算式記下來，並算出答案。(每題8分，共32分) (做法僅供參考)

1. 妮妮把30張色紙分裝，每5張裝成1包，可以分成幾包?

30-5=25 10-5=5 或 5x6=30
25-5=20 5-5=0
20-5=15
15-5=10

答： 6包

2. 阿姨有27顆番茄要分給小朋友，每9顆分給1個人，可以分給幾個?

27-9=18 或 9x3=27
18-9=9
9-9=0

答： 3個人

3. 將48枝筆平分給8個人，剛好分完，每個個人分到幾枝筆?

48-8=40 16-8=8 或 6x8=48
40-8=32 8-8=0
32-8=24
24-8=16

答： 6枝

4. 桌子上有35顆糖果，平分裝在7個盒子裡，每個盒子有幾顆糖果?

35-7=28 7-7=0 或 5x7=35
28-7=21
21-7=14

14-7=7 答： 5顆