


一 生活中，下面哪些物品比1公尺長？請打√。(每題2分，共12分)

1. 大貨車



()

2. 膠水



()

3. 床



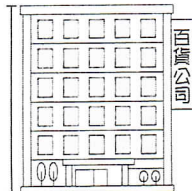
()

4. 優酪乳



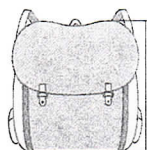
()

5. 大樓



()


6. 書包



()

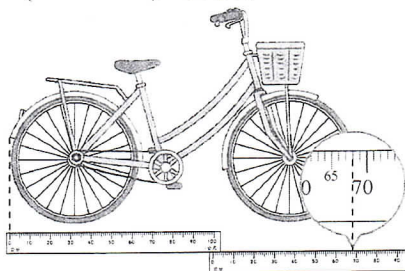
二 填填看。(每格3分，共48分)

1.



緞帶的長度是()公尺，()公分，也可以說是()公分。

2.



腳踏車的長度是()公尺，()公分，也可以說是()公分。

3. 班級書櫃的長和3條1公尺的繩子接起來一樣長，是()公尺。

4. 籃球場場地的長和28條1公尺的繩子接起來一樣長，是()公尺。

5. 7公尺=()公分

6. 6公尺，8公分=()公分

7. 570公分=()公尺()公分

8. 289公分=()公尺()公分

9. 4公尺，32公分=()公分

10. 7公尺，20公分=()公分

三 圈出適當的單位。(每題4分，共16分)

1. 一枝鉛筆長18(公尺，公分)。

2. 籃球框高3(公尺，公分)。

3. 桌子高95(公尺，公分)。

4. 布告欄長3(公尺，公分)。

四 把長度一樣長的連起來。

(每條連線2分，共6分)

1. 1公尺，50公分 • 501公分

2. 5公尺，1公分 • 150公分

3. 1公尺，5公分 • 105公分

五 做做看。(每答3分，共18分)

1. 看圖圈圈看。



(1) (機車，汽車)的車身比較長。

(2) (公車，汽車)的車身比較長。

(3) 機車和公車，哪個比較長？(機車，公車)的車身比較長。

2. 公園的椰子樹比梯子高，梯子比榕樹高，椰子樹和榕樹，哪一棵樹比較高？

(椰子樹，榕樹)比較高

3. 婷婷一叔大約長10公分，教室窗戶長度和婷婷6叔一樣長，教室窗戶長度大約長()公分；海報長度和婷婷9叔一樣長，海報長度大約長()公分。