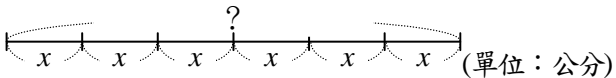
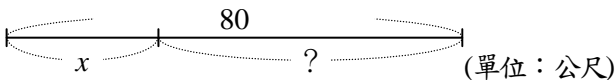


## 一、填填看。(每格4分，共16分)

1. 數學作業共有30頁。

(1) 曉明已經寫了 $x$ 頁，他還要再寫( )頁才能全部寫完。(2) 美萱預計每天寫 $y$ 頁，她需要寫( )天才能全部寫完。2.  (單位：公分)

如上圖，這條繩子平分成6段，它的全長是( )公分。

3.  (單位：公尺)如上圖，把這條繩子分成兩段，一段是 $x$ 公尺，另一段是( )公尺。

## 二、把做法和答案記下來。

(每題8分，共24分)

1. 家裡有一些雞蛋，阿姨做蛋糕用掉18個，還剩下27個，家裡原來有多少個雞蛋？

用 $x$ 表示原有的雞蛋數量，列出等式再算算看。

2. 爸爸買了一條領帶和一件690元的襯衫，一共付了970元，一條領帶多少元？

用 $y$ 表示一條領帶的價錢，列出等式再算算看。

3. 老師買了36顆果凍，平分給一些學生，每個學生分到2顆，老師分給多少個學生？

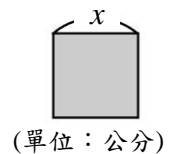
用 $y$ 表示學生的數量，列出等式再算算看。

## 三、依題意列出等式，再算算看。

(每題10分，共60分)

1. 一條彩帶長120公分，做裝飾品用掉 $x$ 公分，還有68公分。做裝飾品用掉多少公分？2. 妹妹有 $y$ 張郵票，媽媽再給她35張後，共有123張。妹妹原有幾張郵票？3. 一塊鬆餅15元，小明買了 $x$ 塊，付了300元。小明買了多少塊鬆餅？4. 有一包 $y$ 顆的糖果平分給16個人，每個人分到9顆，這包糖果原有多少顆？

5. 右圖正方形的周長是36公分，它的邊長是多少公分？

6. 一包麵粉32公斤，老闆把它平分裝成 $y$ 袋，每袋有2公斤。他一共分裝成多少袋？



5  
下

單元學後檢測卷 A2MA10810007 五年 班 號

得 分

7 列式與解題

姓名：\_\_\_\_\_