



4. 幾毫米

範圍：4-1 認識毫米 (mm) ~
4-6 長度的應用

得分

一、填填看看：每格3分，共33分

(1) 2 公尺 = 10 公分 = (210) 公分
= (2100) 毫米

(2) 3500mm = (350) cm
= (3) m (50) cm

(3) 25 公分 + 6 毫米 + 3 公分 + 5 毫米
= (29) 公分 (1) 毫米

(4) 50 公分 - 7 毫米 - 36 毫米
= (47) 公分 (1) 毫米

(5) 23cm + 402mm = (63) cm (2) mm

二、圈圈看看，找出正確的答案：每題5分，共10分

(1) 餐桌長 2 公尺 8 公分，也可以說是幾毫米？

2800 毫米

2080 毫米

2008 毫米

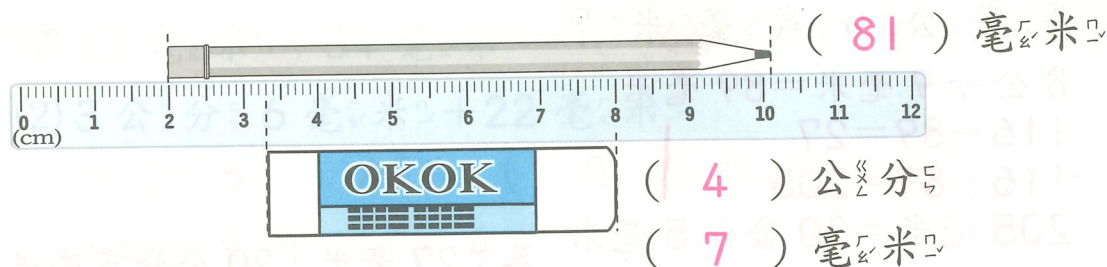
(2) 樓層高度為 3 公尺 60 公分，也可以說是幾毫米？

3006 毫米

3060 毫米

3600 毫米

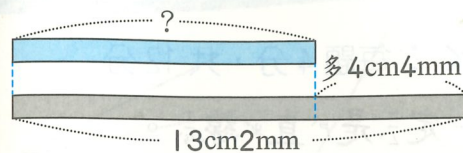
三、看看圖填填看看，各有多長？每格5分，共15分



四、看看圖做做看看：每答5分，共35分

(1) 下圖藍色紙帶的長度是幾公分幾毫米？

習 P 49



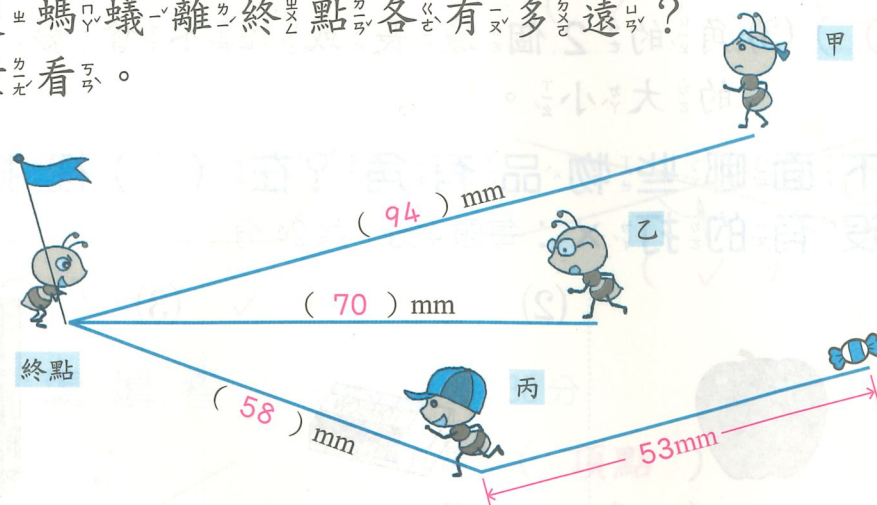
$13\text{ cm } 2\text{ mm} + 4\text{ cm } 4\text{ mm}$
 $= 8\text{ cm } 8\text{ mm}$

答：8 公分 8 毫米

(2) 三隻螞蟻離終點各有多遠？

習 P 52

量量看看。



- 哪一隻螞蟻離終點最近？ (丙) 螞蟻
- 哪一隻螞蟻離終點最遠？ (甲) 螞蟻
- 若丙螞蟻先去搬糖果後，再依照原路線走到終點，共要走幾毫米？

量出丙螞蟻到糖果距離是 53 mm

$53 + 53 = 106$

$106 + 58 = 164$

答：164 毫米

五、把做法用算式記下來：共7分

習 P 49

◎ 紅色繩子長 1023 毫米，綠色繩子長 1 公尺 23 公分，哪條繩子比較長？

1 公尺 23 公分 = 1230 毫米

1230 毫米 > 1023 毫米

答：綠色繩子