

## 社會練習卷

### 壹、填填看：

1. 大清帝國時期的漢人在開墾時，經常侵犯到生活在山區原住民族的生存空間，導致雙方發生衝突。

2. 因距離臺灣較近而移民到臺灣的漢人，最主要來自中國的福建和廣東兩個省。

3. 移民到臺灣的漢人，為了取得穩定的水源、增加種植水稻的田地，在部分地區會開發水圳，例如：由施世榜籌措資金而興建的八堡圳，直到今日，都還是臺灣中部地區重要的灌溉系統。

4. 大清帝國時期，隨著開墾範圍擴大，人們會透過府城、鹿港、艋舺將稻米、蔗糖銷往中國，也會從中國進口藥材、五金、建材、布匹等物品。

5. 開港通商後，進口的有鴉片、紡織品，而出口的有茶葉、樟腦、蔗糖。

6. 開港通商後，有許多傳教士來臺從事傳教及醫療、教育工作。例如：馬雅各在臺灣南部傳教時，開設醫館幫人治病；馬偕在臺灣北部以免費醫療的方式傳教，同時創立學校，推展西方教育。

7. 下面是關於日治時期的描述，請填入正確答案。

西元1895年，臺灣、澎湖成為日本殖民地。割讓初期，唐景崧成立臺灣民主國，希望獲得國際援助；日本統治臺灣，設立臺灣總督府為最高統治機關。

8. 自大航海時代起，就有不少漢人來臺灣從事漁業和貿易活動，或被招募來臺灣開墾土地。

9. 來到臺灣開墾的漢人，在開發新耕地時，為了取得穩定的水源，增加種植水稻的耕地、賺取收益，而開發水圳。

10. 西元1683年，大清帝國派施琅攻打臺灣，結束鄭氏政權在臺灣的統治。隔年將臺灣納入版圖，但是對於漢人來臺有所限制。

11. 臺灣開港後，外國商人陸續在通商港口設立洋行，進行貿易。當時主要的進口商品包括鴉片及紡織品，出口的商品以茶葉、樟腦、蔗糖為主。

12. 西元1874年，日本政府以琉球人在臺灣南端被原住民族殺害為藉口，派兵進攻臺灣南部，爆發牡丹社事件。事件後為了加強臺灣南部軍事防禦，大清帝國在安平興建炮臺，並增設恆春縣、修建恆春城。

13. 面對外來勢力的挑戰，大清帝國開始重視臺灣。為了加強對臺灣的控制，大清帝國廢除渡臺的限制、解除漢人與原住民族之間畫設的界線，鼓勵漢人移民進入山區開墾，並開闢臺灣東、西部之間的道路；同時利用安撫和武力並行的政策，要求原住民族協助開墾，並接受政府的治理。

14. 沈葆楨在牡丹社事件發生時，來到臺灣處理相關事務。除了與日本交涉外，也加強臺灣的防務與建設，積極的治理臺灣。

15. 西元1884年，大清帝國與法國爆發戰爭，大清帝國派劉銘傳來臺灣負責防衛。經過這次事件後，大清帝國更重視對臺灣的經營，為了加強臺灣的軍事防禦，在澎湖、基隆等地方增建炮臺。1885年，大清帝國宣布原屬於福建省的臺灣建省，提升臺灣的行政地位。

16. 下面是關於日治時期的描述，請填入正確答案。

西元1894年，大清帝國和日本為了爭奪朝鮮控制權，而爆發甲午戰爭。最後戰敗，大清帝國派李鴻章到日本簽訂馬關簽約，割讓臺灣與澎湖。

17. 下面是關於武裝抗日的描述，請填入正確答案。

由於在日本的殖民統治下，臺灣人民遭受不平等的待遇，為了維護基本生存權利，臺灣的漢人和原住民族發起武裝抗日的行動，例如：西來庵事件、霧社事件。

18. 下面是關於原住民族武裝抗日的描述，請填入正確答案。

因日本起初以武力的方式迫使原住民族服從統治，導致原住民族的生活規範、文化都因許多不合理的統治措施遭到破壞，因不斷收到壓迫，霧社地區賽德克族的部落領導人莫那魯道帶領族人反抗，也因此造成雙方都有重大傷亡。

19. 大清帝國時期，來臺的不同移民群體間所爆發的集體衝突稱為械鬥。

20. 下面是關於日治時期的描述，請填入正確答案。

由於武裝抗日活動不斷失敗，臺灣人轉向非武裝的抗爭，例如：蔣渭水計畫成立臺灣文化協會，舉行許多演講會、讀報社及巡迴放電影等，充實臺灣人的知識和文化。

21. 在日本的殖民統治下，臺灣人發起了武裝抗日行動，也嘗試以非武裝抗爭的方式爭取權利。

①在武裝抗日行動方面，漢人所發起的西來庵事件又稱為噶吧哖事件，而西元1930年發生的霧社事件，則是原住民族武裝抗日的代表性事件。

②由於知識分子受到世界上民族自決和民主自由觀念的影響，開始以非武裝抗爭的方式來爭取權利。

③臺灣文化協會本部與臺灣民報總批發處，都設立於蔣渭水開設的大安醫院。

④在日本統治後期，總督府開放部分名額，讓部分臺灣人獲得選舉民意代表的機會。

22. 清代三大圳

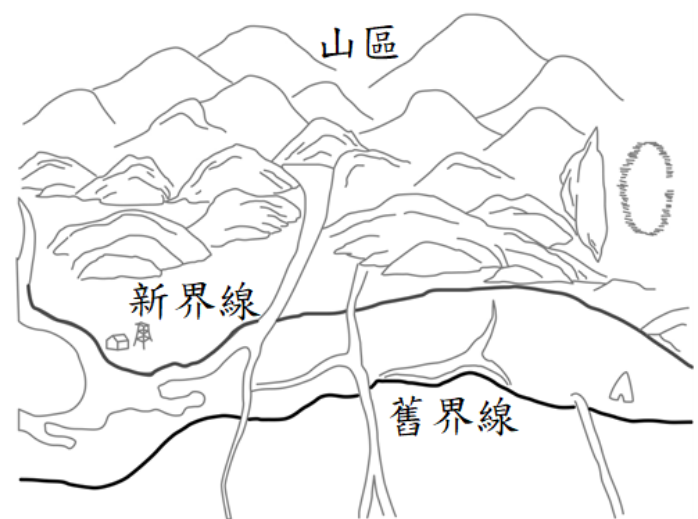
(1)台北市瑠公圳：由郭錫瑠父子發起，為了拓展新的耕起，接引新店溪水元到台北盆地。

(2)彰化縣八堡圳：施世榜發起，為了彰化地區水源，引濁水溪灌溉農田，便集資興建水利工程，是清朝時期最大水利工程，其範圍包括彰化地區的13個堡中的8個堡。

(3)高雄縣鳳山市曹公圳：鳳山知縣曹謹發起，巡視鳳山各地時見高屏溪有豐沛水源，便興建水圳。

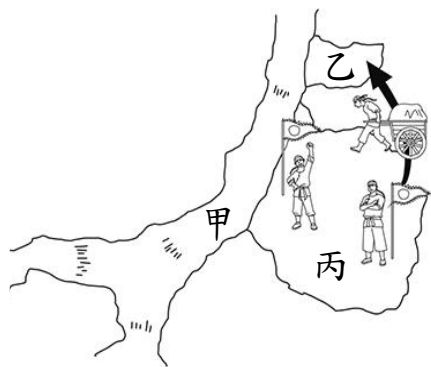
貳、看圖回答問題：

1. 從下圖的新舊界線，可以得知哪一個族群的生活空間愈來愈小？



答：原住民族。

2. 下圖是移民到臺灣的漢人產生的械鬥事件，請根據文字提示，將甲、乙、丙的正確名稱填入表格中。



代號	甲	乙	丙
說明	位於 <u>臺灣</u> 的北部地區，是「乙」地開發的重要關鍵。	落敗的群體從「丙」遷移至此，並利用「甲」發展貿易。	來自 <u>福建泉州</u> 的兩個群體居住於此，爭奪經濟利益。
名稱			

答案：甲. 淡水河、乙. 大稻埕、丙. 艋舺

3. 下列兩張圖是大清帝國時期對臺灣的建設非常有貢獻的兩個人。請把他們在臺灣的建設或事蹟，以代號填入各圖下方的( )中。

① 沈葆楨	② 劉銘傳
( )	( )

- 甲·完成基隆到臺北的鐵路
- 乙·擔任臺灣第一任巡撫
- 丙·興築億載金城
- 丁·修建恆春城
- 戊·增設臺北府

答案：①丙、丁、戊 ②甲、乙

4. 下列二圖是開港通商後來臺的西方傳教士，請把他們在臺灣的事蹟，以代號填入各圖下面的( )中。

① 馬雅各	② 馬偕
( )	( )

- 甲·在臺南、高雄地區從事傳教及醫療工作。
- 乙·為民眾拔牙、教導醫療知識。
- 丙·創立淡水女學堂。
- 丁·開設看西街醫館。

答案：①甲、丁 ②乙、丙


5. 下列三圖是甲午戰爭後的重要人物，請把他們的身分和事蹟，以代號填入各圖下面的括弧中。

(1) 唐景崧	(2) 李鴻章
( )	( )
(3) 伊藤博文	
( )	

- 甲·代表日本簽訂馬關條約。
- 乙·代表大清帝國簽訂馬關條約。
- 丙·成立臺灣民主國。

答案：(1) 丙 (2) 乙 (3) 甲

6. 下圖是日治時期重要人物，把他們的身分和事蹟，以代號填入各圖下面的括弧中。

(1)莫那魯道	(2)蔣渭水
 ( )	 ( )
(3)林獻堂	(4)余清芳
 ( )	 ( )

甲、賽德克族部落領導者，率領族人發起抗日行動。

乙、出生臺中，在臺灣文化協會扮演重要角色。

丙、在大稻埕行醫，並成立臺灣文化協會。

丁、以民間信仰聚集民眾武裝抗日。

答案：(1) 甲 (2) 丙 (3) 乙  
(4) 丁