













九 九 乘 法 概 念 學 習 單 (二)

※ 5 的 乘 法 概 念 () 號 姓名：

	5	5 有 1 個 有 1 個 5	5 的 1 倍	5×1=5
	5+5	5 有 2 個 有 () 個 5	5 的 2 倍	5×()=()
	5+5+5	5 有 () 個 有 () 個 5	5 的 () 倍	5×()=()
	5+5+5+5	5 有 4 個 有 () 個 5	() 的 () 倍	5×()=()
	5+5+5+5+5	5 有 5 個 有 () 個 5	() 的 () 倍	5×()=()
	5+5+5+5+5+5	5 有 () 個 有 () 個 5	() 的 () 倍	5×()=()
 	5+5+5+5+5+5+5	5 有 () 個 有 () 個 5	() 的 () 倍	5×()=()
 	5+5+5+5+5+5+5+5	5 有 8 個 有 () 個 5	() 的 () 倍	5×()=()
 	5+5+5+5+5+5+5+5+5	5 有 () 個 有 () 個 5	() 的 () 倍	5×()=()

※ 5 的 乘 法 練 習

(1) 一 隻 手 有 五 根 手指頭，2 隻 手 共 有 幾 根 手指頭？	(2) 一 串 香 蕉 有 5 根，5 串 香 蕉 共 有 幾 根？	(3) 一 個 盤 子 有 5 顆 糖果，7 個 盤 子 共 有 幾 顆 糖果？
加 法： () 有 () 個 乘 法： A：() 根	加 法： () 有 () 個 乘 法： A：() 根	加 法： () 有 () 個 乘 法： A：() 顆