






目次



一	2 的乘法	2
二	5 的乘法	6
三	2、5 的乘法练习	11
四	4 的乘法	13
五	8 的乘法	18
六	4、8 的乘法练习	23
七	2、5、4、8 的乘法练习	25
八	3 的乘法	28
九	6 的乘法	32
十	9 的乘法	36
十一	3、6、9 的乘法练习	40
十二	7 的乘法	42
十三	3、6、9、7 的乘法练习	46
	解答篇	49





乘法是什麼




1. 如果把貓咪分成 2 個一組，可以一數 (4) 次，這樣就代表有 (4) 個 2。
2. $2+2+2+2$ 是 2 的 4 倍。
3. 2 的 4 倍可以寫成 2×4 。

看圖學乘法 10 分




$3 \text{ 個 } 2 = (2+2+2) = 2 \text{ 的 } () \text{ 倍}$



$7 \text{ 個 } 2 = ()$
 $= 2 \text{ 的 } () \text{ 倍}$



$() \text{ 個 } 2 = 2 \text{ 的 } 4 \text{ 倍}$
 $2 \times 4 = (8)$



$5 \text{ 個 } 2 = 2 \text{ 的 } 5 \text{ 倍}$
 $2 \times 5 = ()$

認識乘法算式 10 分

2 的 4 倍是 8。


記做：「2 × 4 = 8」

被乘數

乘數

積

念做：「二乘四等於八」



1. 有幾個耳朵？



$$2 \times \square = \square$$

2. 有幾個眼睛？



$$2 \times \square = \square$$

3. 有幾隻襪子？



$$2 \times \square = \square$$

4. 有幾隻腳？



$$2 \times \square = \square$$


5. 有幾隻鞋子？




$$2 \times \square = \square$$




相同的手牽手 18 分


2 的 4 倍 

 2×5


2×7 

 3 個 2

$2 + 2 + 2$ 

 2×4

5 個 2 

 $2 + 2 + 2 + 2 + 2 + 2 + 2$



2 的乘法應用 16 分

1. 7 隻孔雀共
有幾隻腳？

2. 一包巧克力
有 2 個，8 包
共有多少個？

3. 5 隻小狗共
有幾個耳朵？

4. 1 個人摺 2 架
紙飛機，6 個人
共摺了幾架？

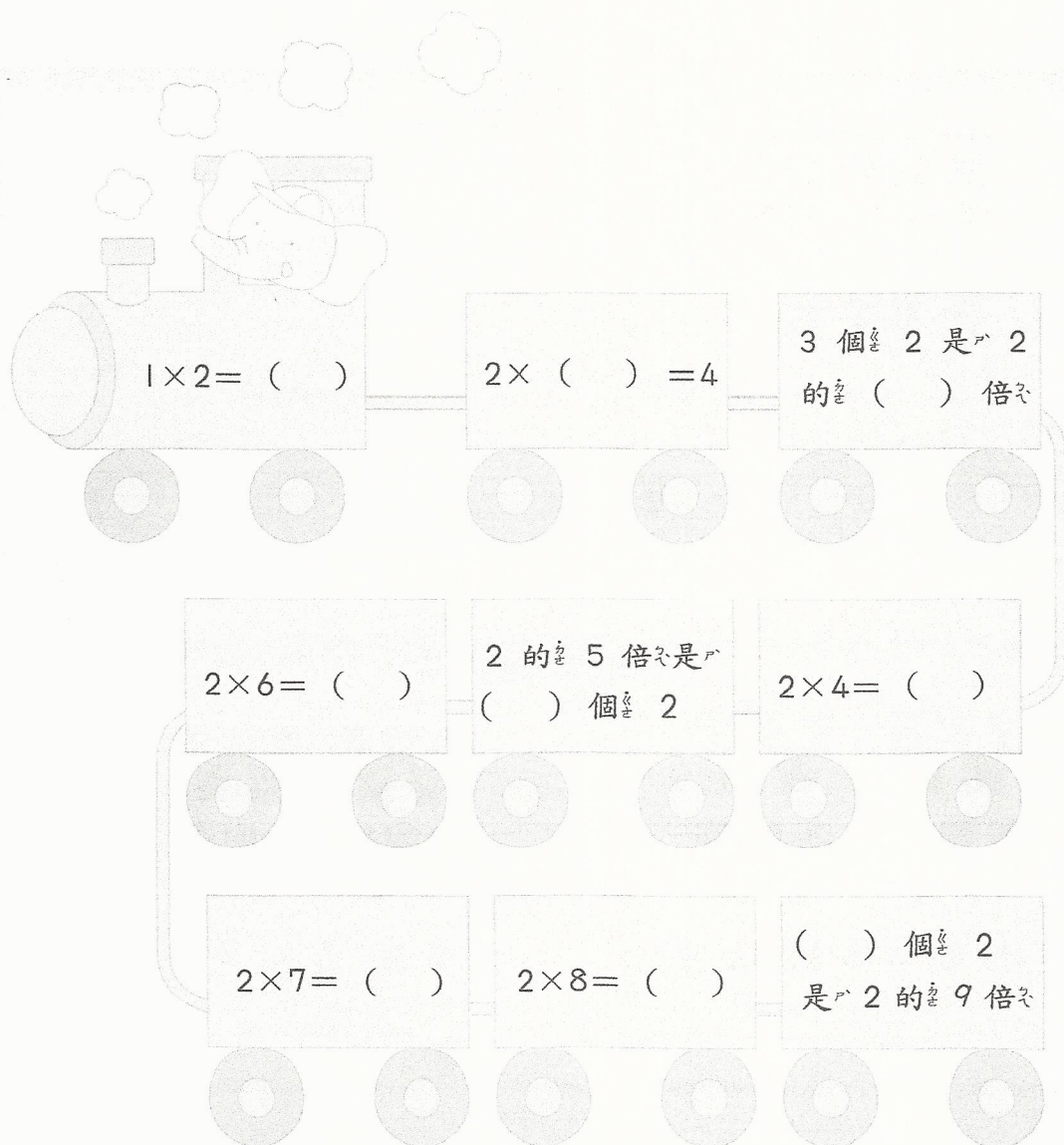



2 的乘法練習 28 分

1. $2 \times 1 = (\quad)$
2. $2 \times (\quad) = 4$
3. $2 \times 4 = (\quad)$
4. $2 \times (\quad) = 6$
5. $2 \times 5 = (\quad)$
6. $2 \times (\quad) = 12$
7. $2 \times 7 = (\quad)$
8. $2 \times (\quad) = 18$
9. $2 \times 8 = (\quad)$
10. $(\quad) \times 6 = 12$
11. $(\quad) \times 7 = 14$
12. $(\quad) \times 4 = 8$
13. $(\quad) \times 8 = 16$
14. $(\quad) \times 5 = 10$



請填入正確的數字 18 分






單元二 5 的乘法



乘法是什麼

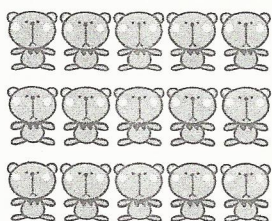


1. 如果把 5 隻小熊分成 5 隻一組，可以寫成 (2) 次，這樣就代表有 (2) 個 5。
2. $5+5$ 是 5 的 2 倍。
3. 5 的 2 倍可以寫成 5×2 。



看圖學乘法 10 分

1.



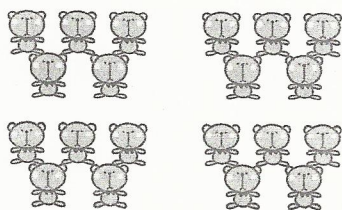
3 個 5 = ($5+5+5$)
= 5 的 () 倍

2.




1 個 5 = ()
= () 的 1 倍

3.



4 個 5 = 5 的 4 倍
 $5 \times () = 20$

4.



6 個 5 = 5 的 6 倍
 $5 \times 6 = ()$



認識乘法算式 8 分

5 的 2 倍是 10。


記做：「5 × 2 = 10」

被乘數

乘數


積

念做：「五乘以二等於十」



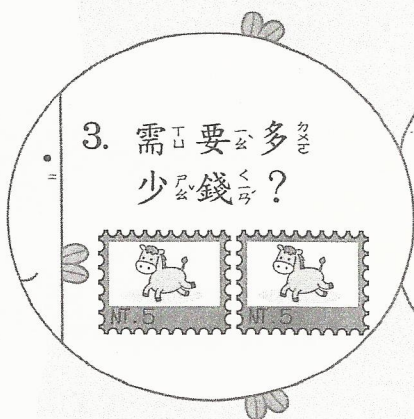
1. 有幾個尖尖的角？

$$5 \times \square = \square$$



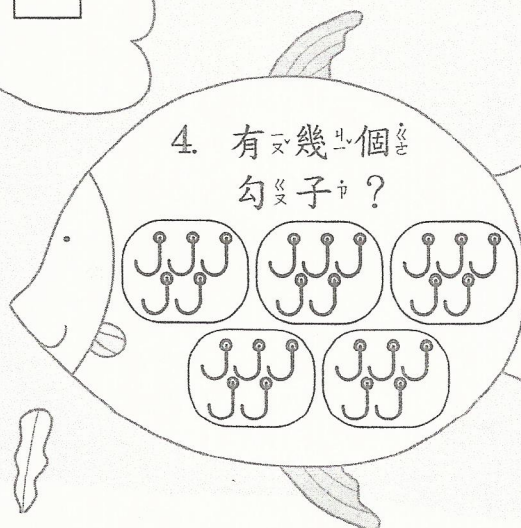
2. 有幾片花瓣？

$$5 \times \square = \square$$



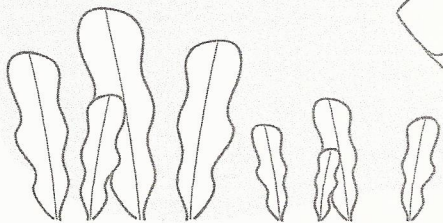
3. 需要多少錢？

$$5 \times \square = \square$$



4. 有幾個勾子？

$$5 \times \square = \square$$








沿著 5 的倍數走就能走出迷宮阿！ 10 分




$$2+2+2+2+2$$



$$9 \times 3$$


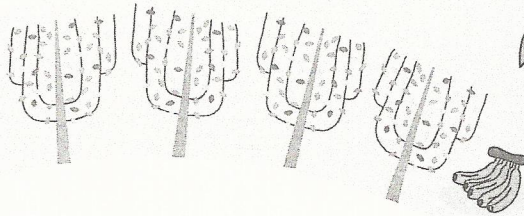


$$5+5$$




$$3 \times 5$$

$$8 \times 6$$



$$5+5+5+5+5$$

$$7 \times 9$$






$$2 \times 8$$



$$2 \times 6$$

$$5 \times 4$$






1.

$$5 \times 3 = (\quad)$$

2.

$$5 \times 7 = (\quad)$$



3.

4 個 5 是
5 的 () 倍

4.

5 的 1 倍是
() 個 5




5.

$$\begin{aligned} &5 + 5 + 5 + 5 + 5 \\ &+ 5 + 5 + 5 + 5 \\ &= (\quad) \end{aligned}$$

6.

$$5 \times 6 = (\quad)$$



7.

$$5 \times 2 = (\quad)$$

8.

5 個 5 是
5 的 () 倍





5 的乘法練習 28 分


1. $5 \times 1 = (\quad)$
2. $5 \times (\quad) = 10$
3. $5 \times 4 = (\quad)$
4. $5 \times (\quad) = 15$
5. $5 \times 5 = (\quad)$
6. $5 \times (\quad) = 30$
7. $5 \times 7 = (\quad)$
8. $5 \times (\quad) = 45$
9. $5 \times 8 = (\quad)$
10. $(\quad) \times 6 = 30$
11. $(\quad) \times 7 = 35$
12. $(\quad) \times 4 = 20$
13. $(\quad) \times 8 = 40$
14. $(\quad) \times 5 = 25$



5 的乘法應用 20 分

1. 一個小朋友有 5 枝筆，8 個小朋友共有幾枝筆？


2. 一瓶果汁 5 元，大華和其他 4 個朋友各買一瓶，共要付多少元？



3. 小真做了 3 個手套玩偶，請問共有幾隻手指頭？



4. 一個漢堡 5 元，媽媽買了 4 個，共要付多少元？





2、5 的乘法練習 52 分

1. $2 \times () = 8$

2. $2 \times () = 6$

3. $2 \times () = 10$

4. $() \times 7 = 14$

5. $2 \times () = 18$

6. $2 \times 8 = ()$

7. $5 \times () = 45$

8. $() \times 6 = 30$

9. $() \times 8 = 16$

10. $() \times 4 = 20$

11. $5 \times 4 = ()$

12. $5 \times () = 15$

13. $5 \times 5 = ()$

14. $5 \times () = 30$

15. $() \times 6 = 12$

16. $5 \times 8 = ()$

17. $() \times 7 = 35$

18. $() \times 5 = 10$

19. $2 \times () = 2$

20. $2 \times () = 4$

21. $2 \times () = 12$


22. $2 \times 7 = ()$

23. $5 \times 1 = ()$

24. $5 \times () = 10$

25. $5 \times 7 = ()$

26. $() \times 4 = 8$



1. 紅豆餅每個 5 元，
2 個裝一包，小真
買了 3 包，要付
多少元？

2. 2 瓶飲料 16 元，
請問一瓶多
少元？

3. 每個漢堡貴 2 元，
媽媽買了 4 個，一
共要多付多少元？



4. 一個人做一雙手
套玩偶，8 個人
共做了幾個手套
玩偶？

5. 每人有 2 個玩具，
5 個人共有幾個
玩具？

6. 5 張貼紙 30 元，
請問一張貼紙多
少元？




乘法是什麼




1. 如果把 4 隻小猴子分成 2 組，每一組有 (2) 隻，這樣就代表有 (2) 個 4。
2. $4+4$ 是 4 的 2 倍。
3. 4 的 2 倍可以寫成 4×2 。

看圖學乘法 8 分




3 個 4 = $(4+4+4)$ = 4 的 () 倍



5 個 4 = ()
= 4 的 (5) 倍



1 個 4 = 4 的 1 倍 $4 \times 1 = ()$



8 個 4 = 4 的 8 倍 $4 \times 8 = ()$

認識乘法算式 8分

4 的 2 倍 是 8。

記做：「4 × 2 = 8」


被乘數

乘數

積

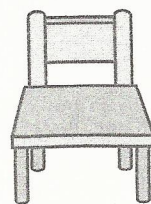
念做：「四乘以二等於八」

1. 有幾隻腳？




$$4 \times \square = \square$$

2. 有幾隻椅腳？




$$4 \times \square = \square$$

3. 有幾個輪胎？



$$4 \times \square = \square$$

4. 有幾條腿？



$$4 \times \square = \square$$



4 的乘法練習 28 分

1. $4 \times 1 = (\quad)$
2. $4 \times (\quad) = 8$
3. $4 \times 4 = (\quad)$
4. $4 \times (\quad) = 12$
5. $4 \times 5 = (\quad)$
6. $4 \times (\quad) = 24$
7. $4 \times 7 = (\quad)$
8. $4 \times (\quad) = 36$
9. $4 \times 8 = (\quad)$
10. $(\quad) \times 6 = 24$
11. $(\quad) \times 7 = 28$
12. $(\quad) \times 4 = 16$
13. $(\quad) \times 8 = 32$
14. $(\quad) \times 5 = 20$



猜猜看被小狗腳印遮住的數字是多少？ 把它寫出來 16 分

1. $4 \times \text{dog_paw} = 4$

2. $4 \times 2 = \text{dog_paw}$

3. $4 \times \text{dog_paw} = 36$

4. $\text{dog_paw} \times 3 = 12$

5. $4 \times 4 = \text{dog_paw}$

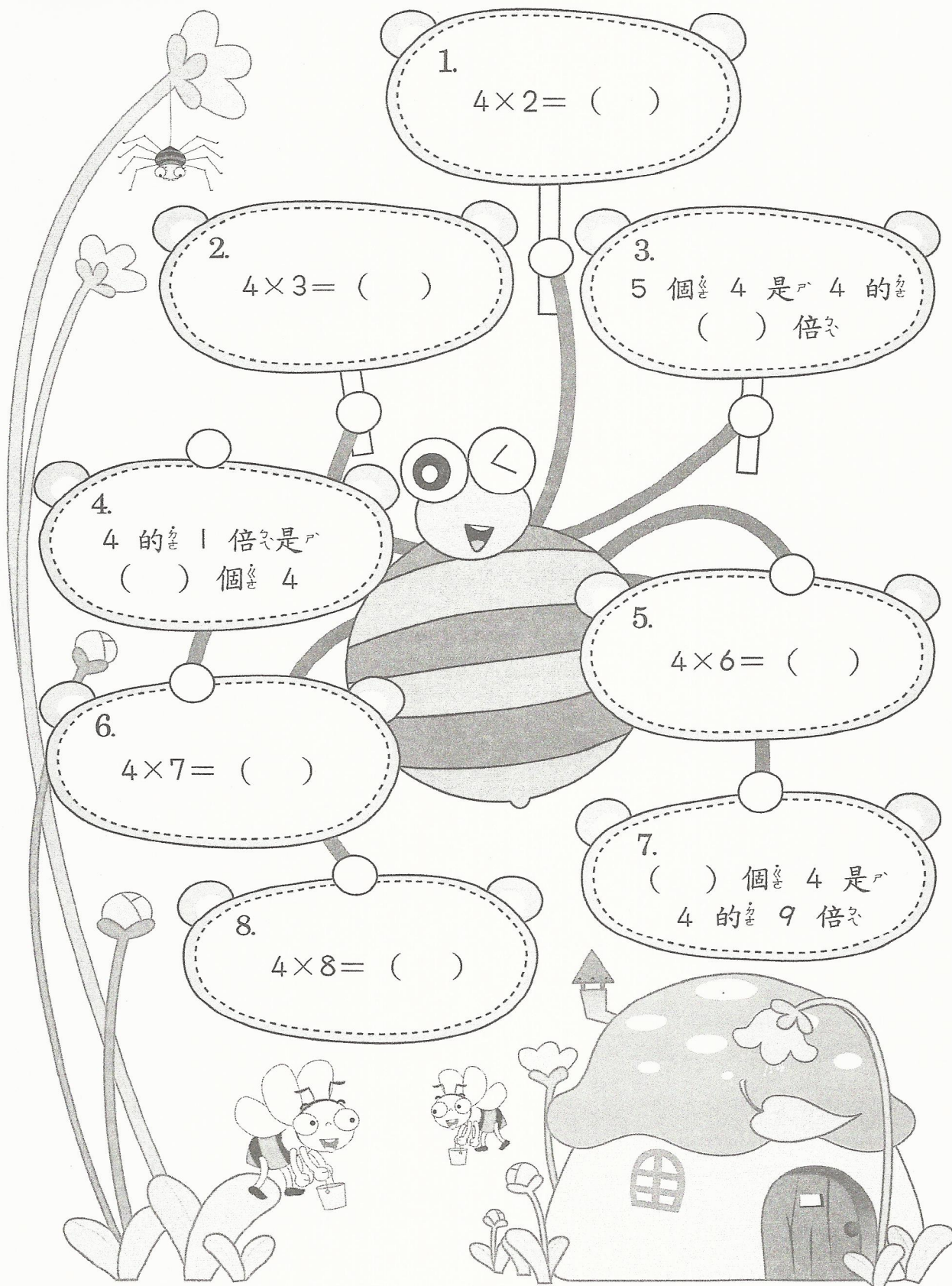
6. $4 \times \text{dog_paw} = 24$

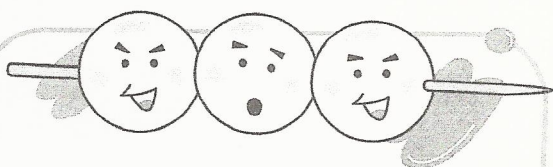
7. $4 \times \text{dog_paw} = 20$

8. $4 \times 8 = \text{dog_paw}$




請填入正確的數字 16 分





1. 一串魚丸有 4 粒，
3 串共有幾粒魚丸？

2. 汽水一瓶 4 元，
依依拿了 50 元買
了 8 瓶，還要找
回多少元？




3. 5 隻無尾熊共有
幾隻腳？



4. 芳芳摺了一些青蛙，
數一數共有 36
隻腳，請問
芳芳共摺了幾
隻青蛙？







單元五 8 的乘法




乘法是什麼



1. 如果把 8 隻羊分成 2 組，可以以 (2) 次，這樣就代表有 (2) 個 8。
2. $8+8$ 是 8 的 2 倍。
3. 8 的 2 倍可以寫成 8×2 。




看圖學乘法 12 分



1. 5 個 8 = ($8+8+8+8+8$) = 8 的 () 倍



2. 4 個 8 = () = 8 的 () 倍



3. 1 個 8 = 8 的 1 倍 $8 \times 1 = ()$

認識乘法算式 8 分

8 的 2 倍是 16

記做：「8 × 2 = 16」

被乘數

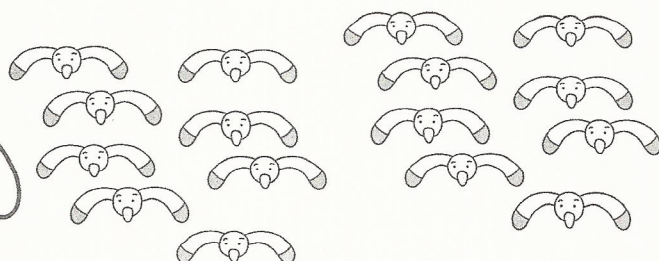

乘數

積

念做：「八乘以二等於十六」

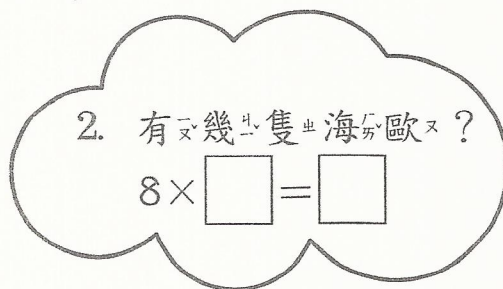
1. 有幾隻腳？

$$8 \times \square = \square$$



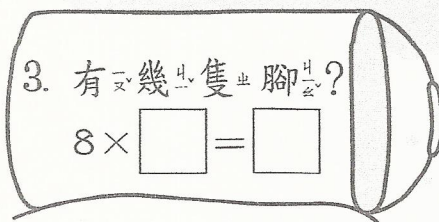
2. 有幾隻海鷗？

$$8 \times \square = \square$$




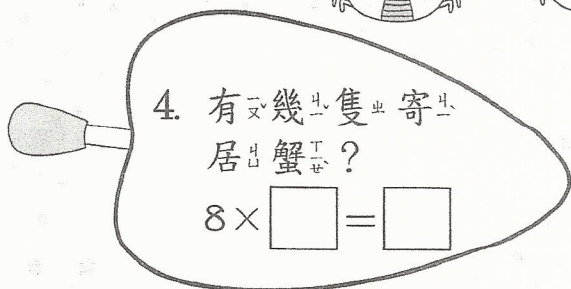
3. 有幾隻腳？

$$8 \times \square = \square$$



4. 有幾隻寄居蟹？


$$8 \times \square = \square$$




8 的乘法練習 28 分


1. $8 \times 1 = (\quad)$
2. $8 \times (\quad) = 16$
3. $8 \times 4 = (\quad)$
4. $8 \times (\quad) = 24$
5. $8 \times 5 = (\quad)$
6. $8 \times (\quad) = 48$
7. $8 \times 7 = (\quad)$
8. $8 \times (\quad) = 72$
9. $8 \times 8 = (\quad)$
10. $(\quad) \times 8 = 64$
11. $(\quad) \times 7 = 56$
12. $(\quad) \times 4 = 32$
13. $(\quad) \times 6 = 48$
14. $(\quad) \times 5 = 40$


猜猜看被雪人遮住的數字是多少？把它寫出來 16 分


1.  $8 \times \quad = 8$

2. $8 \times 2 =$ 


3.  $8 \times \quad = 24$

4.  $\times 4 = 32$

5. $8 \times 6 =$ 

6. $8 \times \quad = 56$ 

7. $8 \times \quad = 40$ 

8. $8 \times 9 =$ 



請填入正確的數字 16 分

1.


5 個 8 是
8 的 () 倍

2.

() 個 8 是
8 的 9 倍

3.

8 的 1 倍是
() 個 8



1. 一枝鉛筆長 8 公分，6 枝鉛筆共有多長？

2. 9 隻螃蟹共有幾隻腳？

3. 每一隊隊伍有 8 人，7 隊共有多少人？

4. 2 包餅乾共 16 元，請問一包餅乾多少元？

5. 8 張 8 元的貼紙，共要多少元？



4、8 的乘法練習 50 分

1. $8 \times () = 64$

2. $() \times 8 = 64$

3. $() \times 7 = 56$

4. $() \times 4 = 32$

5. $() \times 6 = 48$

6. $() \times 5 = 40$

7. $4 \times 4 = ()$

8. $4 \times () = 12$

9. $4 \times 5 = ()$

10. $4 \times () = 24$

11. $4 \times 7 = ()$

12. $4 \times () = 36$

13. $8 \times 7 = ()$

14. $8 \times () = 72$

15. $8 \times 8 = ()$

16. $8 \times 9 = ()$

17. $8 \times 6 = ()$

18. $() \times 1 = 8$

19. $4 \times () = 28$

20. $4 \times 6 = ()$

21. $4 \times 8 = ()$

22. $() \times 6 = 24$

23. $() \times 7 = 28$


24. $() \times 4 = 16$

25. $() \times 8 = 32$

4、8 的乘法應用 50 分


1

雞蛋糕每個 4 元，2 個裝一包，共買了 3 包，要付多少元？



2

海洋館裡的螃蟹數一數共有 64 隻腳，請問共有幾隻螃蟹？




3

小清拿 100 元買一顆 8 元的茶葉蛋，找回 52 元，請問小清共買了幾顆茶葉蛋？





4


2 隻大象共有幾隻腳？



5

小凱摺了一些青蛙，數一數共有 28 隻腳，請問小凱共摺了幾隻青蛙？





單元七 2、5、4、8 的乘法練習

2、5、4、8 的乘法練習 52 分



1. $2 \times () = 2$

2. $2 \times () = 4$

3. $2 \times () = 8$

4. $2 \times () = 6$

5. $2 \times () = 10$

6. $2 \times () = 12$

7. $4 \times 7 = ()$

8. $4 \times () = 36$

9. $8 \times 7 = ()$

10. $8 \times () = 72$

11. $8 \times 8 = ()$

12. $() \times 8 = 64$

13. $() \times 7 = 56$

14. $() \times 4 = 32$

15. $4 \times () = 28$

16. $4 \times 6 = ()$

17. $4 \times 8 = ()$

18. $() \times 6 = 24$

19. $5 \times 5 = ()$

20. $5 \times () = 30$

21. $5 \times 7 = ()$


22. $() \times 6 = 12$

23. $5 \times 8 = ()$

24. $() \times 4 = 8$

25. $() \times 7 = 35$

26. $() \times 5 = 10$



27. $8 \times () = 8$

28. $8 \times 9 = ()$

29. $8 \times () = 56$

30. $8 \times () = 32$

31. $() \times 6 = 48$

32. $() \times 5 = 40$

33. $4 \times 4 = ()$

34. $4 \times () = 12$

35. $4 \times 5 = ()$

36. $4 \times () = 24$

37. $() \times 7 = 14$

38. $2 \times () = 18$

39. $2 \times 8 = ()$

40. $5 \times () = 45$

41. $2 \times 7 = ()$

42. $() \times 6 = 30$

43. $() \times 8 = 16$

44. $() \times 4 = 20$

45. $5 \times 1 = ()$

46. $5 \times () = 10$

47. $5 \times 4 = ()$

48. $5 \times () = 15$

49. $() \times 7 = 28$

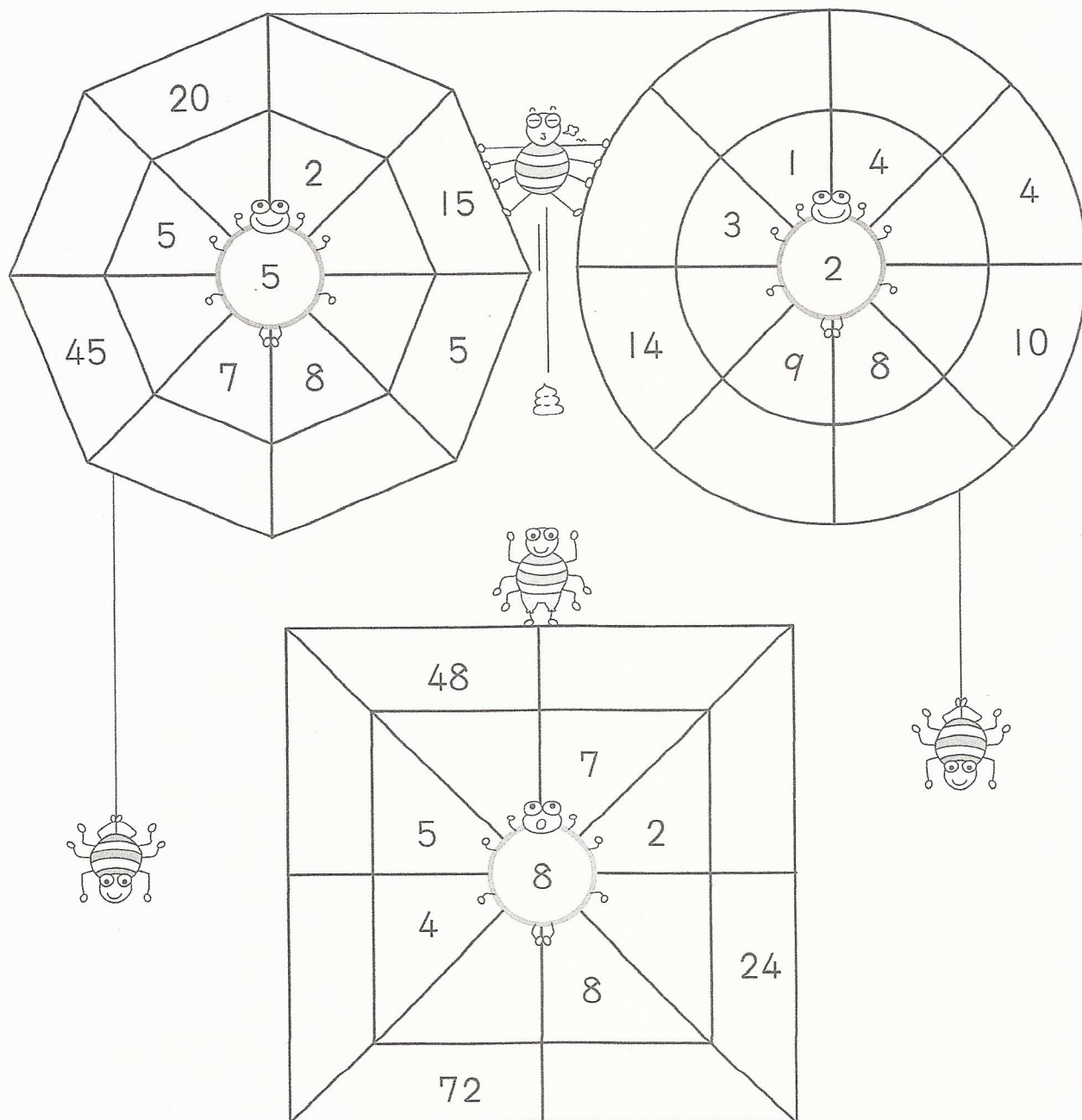
50. $() \times 4 = 16$

51. $() \times 8 = 32$

52. $8 \times () = 40$

乘法與趣味遊戲 48分


蜘蛛媽媽結了各種不同樣子的網，現在就讓我們來為它化妝，在網內空白方的地方填入正確的答案，並塗上顏色，愈漂亮愈好呵！





單元八 3 的乘法

乘法是什麼



1. 如果能把 6 隻小 ㄩ狗分成 3 個一 ㄩ數，可以一 ㄩ數 (6) 次，這樣就代表有 (6) 個 3。
2. $3+3+3+3+3+3$ 是 3 的 6 倍。
3. 3 的 6 倍可以寫成 3×6 。


看圖學乘法 10 分

1.



4 個 3 = $(3+3+3+3)$ = 3 的 () 倍

2.




5 個 3 = () = 3 的 () 倍

3.



2 個 3 = 3 的 2 倍 $3 \times 2 = ()$

4.



3 個 3 = 3 的 3 倍 $3 \times 3 = ()$

認識乘法算式 8分

3 的 6 倍 是 18。

記做：「3 × 6 = 18」

被乘數

乘數

積

念做：「三 乘 以 六 等 於 十 八」

1. 有 幾 棵 樹？




$$3 \times \square = \square$$

2. 有 幾 個 禮 物？



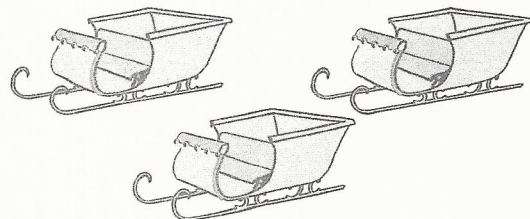
$$3 \times \square = \square$$

3. 有 幾 顆 星？



$$3 \times \square = \square$$

4. 有 幾 個 雪 橇？



$$3 \times \square = \square$$



相同的手牽手 12 分

3 的 1 倍



3×3



$3 + 3 + 3 + 3 + 3$



7 個 3



3×7



1 個 3




$3 + 3 + 3$



3×5



請填入正確的數字 18 分






3 的乘法練習 28 分

1. $3 \times 1 = ()$
2. $3 \times () = 6$
3. $3 \times 4 = ()$
4. $3 \times () = 9$
5. $3 \times 5 = ()$
6. $3 \times () = 18$
7. $3 \times 7 = ()$
8. $3 \times () = 27$
9. $3 \times 8 = ()$
10. $() \times 8 = 24$
11. $() \times 7 = 21$
12. $() \times 4 = 12$
13. $() \times 6 = 18$
14. $() \times 5 = 15$



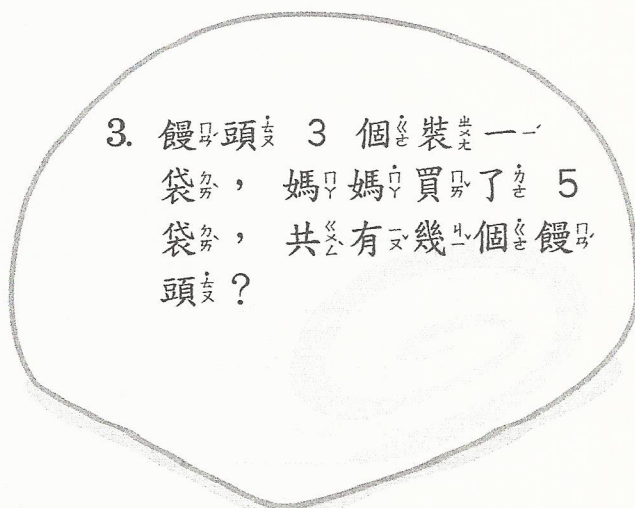
3 的乘法應用 24 分



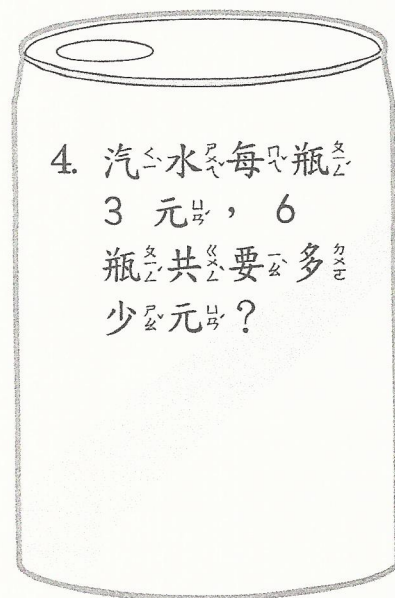
1. 3 瓶果汁 27 元，請問一瓶多少元？




2. 買一本書送 3 張書卡，芬芬共有 12 張書卡，請問她共買了幾本書？



3. 饅頭 3 個裝一袋，媽媽買了 5 袋，共有幾個饅頭？






4. 汽水每瓶 3 元，6 瓶共要多少元？



單元九 6 的乘法





乘法是什麼




1. 如果把 6 隻小白兔分成 3 組，可以數 (3) 次，這樣就代表有 (3) 個 6。
2. $6+6+6$ 是 6 的 3 倍。
3. 6 的 3 倍可以寫成 6×3 。





看圖學乘法 10 分





1. $2 \text{ 個 } 6 = (6+6) = 6 \text{ 的 } (\quad) \text{ 倍}$



2. $1 \text{ 個 } 6 = (\quad) = (\quad) \text{ 的 } 1 \text{ 倍}$



3. $4 \text{ 個 } 6 = 6 \text{ 的 } 4 \text{ 倍 } (\quad) \times 4 = 24$



4. $6 \text{ 個 } 6 = 6 \text{ 的 } 6 \text{ 倍 } 6 \times 6 = (\quad)$



認識乘法算式 16 分

6 的 3 倍是 18。


記做：「6 × 3 = 18」

被乘數

乘數

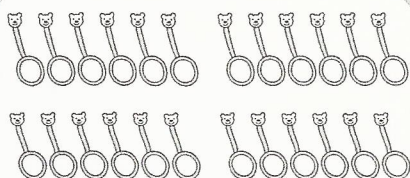
積

念做：「六乘以三等於十八」



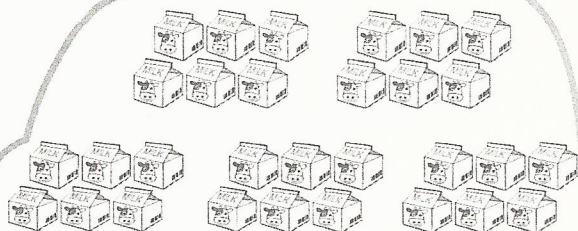
1. 有幾隻腳？

$$6 \times \square = \square$$




2. 有幾枝湯匙？

$$6 \times \square = \square$$



3. 有幾瓶牛奶？

$$6 \times \square = \square$$



4. 有幾片花瓣？

$$6 \times \square = \square$$



相同的手牽手 18 分

$$6+6+6+6+6$$



$$30$$

$$1 \text{ 個 } 6$$



$$36$$

$$6 \text{ 的 } 6 \text{ 倍}$$



$$6 \text{ 的 } 1 \text{ 倍}$$


$$6 \times 3$$



$$3 \text{ 個 } 6$$




沿著答案 是 6 的倍數走，就能找到寶藏
呵！ 12 分

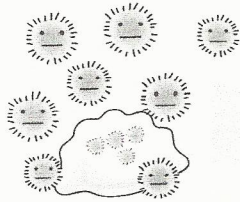


$$6 \times 7$$

$$3 \times 8$$



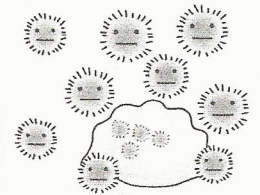
$$3+3+3+3+3+3$$



$$4+6$$


$$5 \times 6$$

$$4 \times 5$$



$$2+2+2$$

$$4 \times 4$$



$$6 \text{ 的 } 2 \text{ 倍}$$





6 的乘法練習 28 分

1. $6 \times 1 = (\quad)$
2. $6 \times (\quad) = 12$
3. $6 \times 4 = (\quad)$
4. $6 \times (\quad) = 18$
5. $6 \times 5 = (\quad)$
6. $6 \times (\quad) = 36$
7. $6 \times 7 = (\quad)$
8. $6 \times (\quad) = 54$
9. $6 \times 8 = (\quad)$
10. $(\quad) \times 8 = 48$
11. $(\quad) \times 7 = 42$
12. $(\quad) \times 4 = 24$
13. $(\quad) \times 6 = 36$
14. $(\quad) \times 5 = 30$



6 的乘法應用 16 分

1. 用一枝長 6 公分的筆來量 24 公分的桌墊，要量幾次？

2. 題目只一題 6 分，請問 30 分有幾題？

3. 蔬菜買 5 把送 1 把，並裝成一袋，阿姨買了 5 袋，共有幾把蔬菜？

4. 汽水 6 瓶 48 元，請問一瓶多幾元？