

學校：

班級：

座號：

姓名：

一、選擇題，共 7 題，每題 4 分。

※請在正確選項前打勾，並請畫記清楚，不要超過格子。

範例：下列哪一個選項是這份考卷

正確的作答方法？

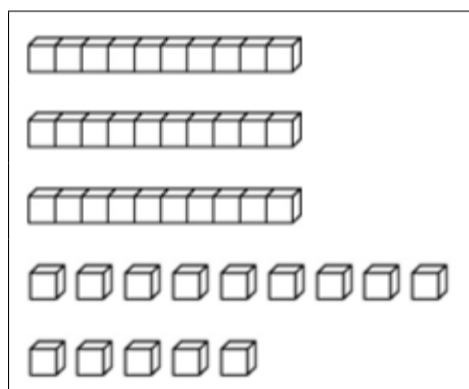
- (1) 打勾
 (2) 寫數字
 (3) 畫圈
 (4) 畫叉

1. 一串香蕉有 5 根，下圖有多少根香蕉？



- (1) 5 根
 (2) 6 根
 (3) 11 根
 (4) 30 根

2. 一條和 10 個一樣多。數數看，下圖和多少個合起來一樣多？



- (1) 14 個
 (2) 17 個
 (3) 44 個
 (4) 45 個

3. 從左邊數起，第 3 個水果是哪一個？

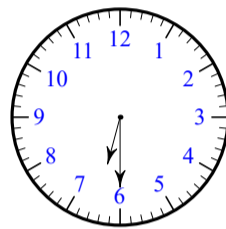


- (1) 
 (2) 
 (3) 
 (4) 

4. 公主有 54 顆蘋果，王子有 28 顆蘋果，皇后有 50 顆蘋果，國王有 45 顆蘋果，誰的蘋果最多？

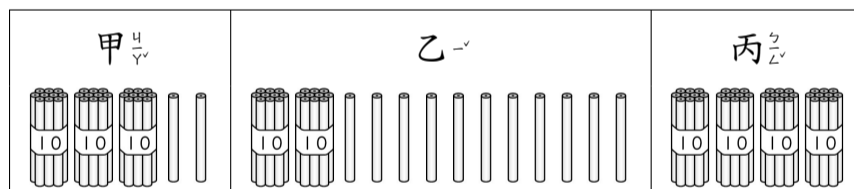
- (1) 公主
 (2) 王子
 (3) 皇后
 (4) 國王

5. 下面哪個是鐘面上的時刻？



- (1) 6 點
 (2) 6 點半
 (3) 7 點
 (4) 7 點半

6. 下圖是甲、乙、丙三個人的鉛筆，誰的鉛筆最多？



- (1) 甲
 (2) 乙
 (3) 丙
 (4) 一樣多


7. 「弟弟有 7 元，哥哥有 14 元，請問誰的錢比較多，多幾元？」下列哪個算式和答案都正確？

- (1) $14 + 7 = 21$ ，
答：哥哥比較多，多 21 元
 (2) $14 - 7 = 7$ ，
答：哥哥比較多，多 7 元
 (3) $14 - 7 = 7$ ，
答：弟弟比較多，多 7 元
 (4) $7 - 14 = 7$ ，
答：弟弟比較多，多 7 元

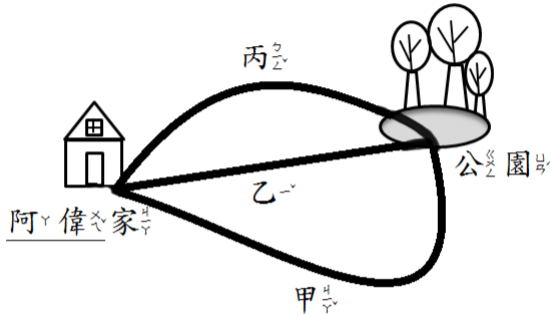


二、填充題，共 16 題，每題 4 分。

8. 一個罐子裡有 2 顆球，下圖一共有 () 顆球。



9. 如圖，從阿偉家走到公園，哪一條路最短？
圈圖看。(甲、乙、丙)



10. 算算看： $18 - 10 = ()$ 。

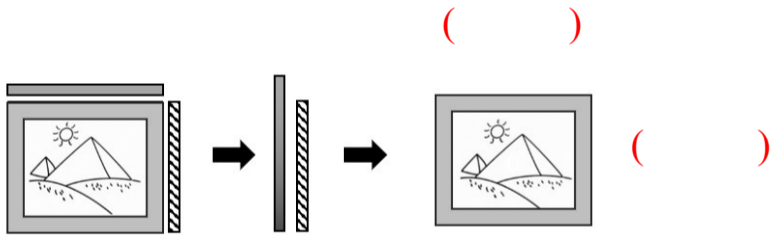
11. 請問，80 的個位數字是 ()。

12. 全家看國慶煙火表演，時刻是 (上午、中午、晚上) 八點鐘。

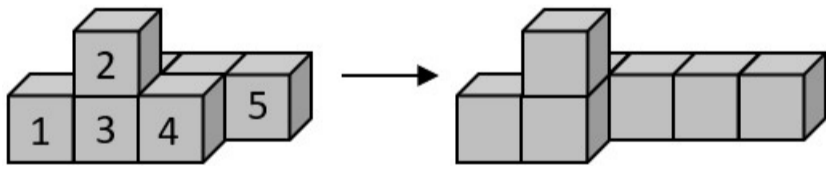
13. 請問，6 顆紅蘋果和 3 顆青蘋果合起來是 () 顆蘋果。

14. 大哥撲滿裡原有 10 元，又投進 7 元；二哥撲滿裡原有 7 元，又投進 10 元，現在誰的撲滿裡的錢比較多？
圈圖看。(大哥、二哥、一樣多)

15. 相框的哪一邊比較長？請打✓。



16. 只能移動一塊積木，想一想，移動了 () 號積木。



17. 填填看：

$42 \rightarrow 41 \rightarrow () \rightarrow () \rightarrow 38$ 。

18. 「 $9 + 10 = 19$ 」，算算看：

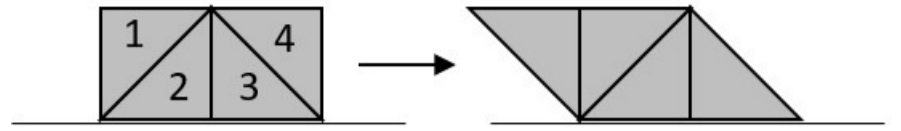
$9 + 11 = ()$

$9 + 12 = ()$

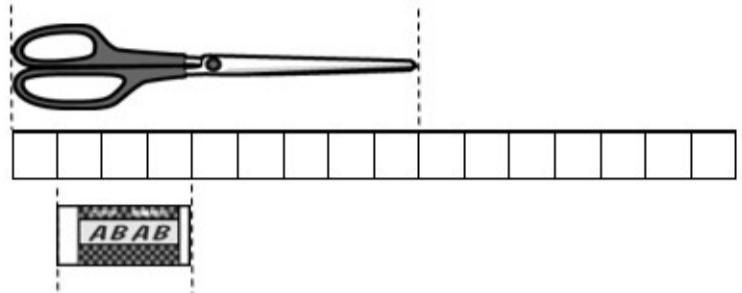
19. 小芳比小玉高，小智比小玉矮，請問小芳、小玉、小智三個人的誰最矮？
圈圖看。(小芳、小玉、小智)

20. 請問 4 個十和 10 個一合起來是 ()。

21. 只能移動一片圖形板，想一想，移動了 () 號圖形板。



22. 如圖，剪刀的長比橡皮擦的長多 () 個 ()。



23. 一年四班排隊打預防針，小偉排在第 18 個，小美排在最後一個，一年四班總共有 () 個小朋友。



三、應用題，共 2 題，每題 4 分。

把做法用算式記下來，並寫出答案。

24. 盒子裡有 12 顆巧克力，吃掉 5 顆，還剩下多少顆巧克力？

() \square () = ()

答：剩下 () 顆巧克力。

25. 姐姐昨天花了 9 元，今天花了 12 元，姐姐兩天花了多少钱？

() \square () = ()

答：花了 () 元。