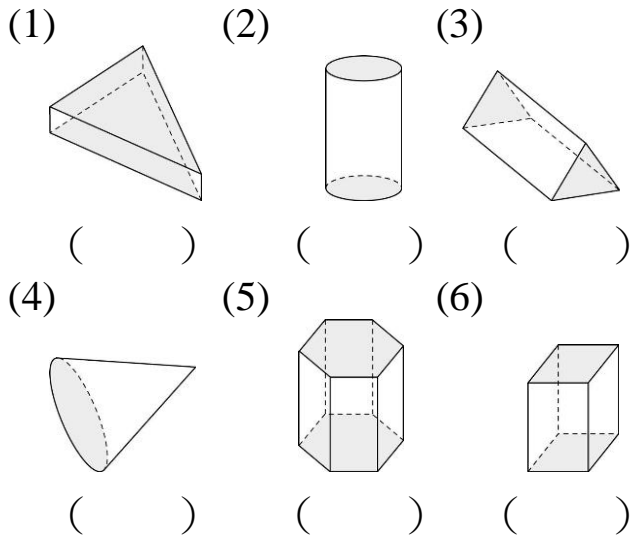


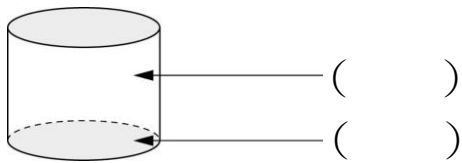
數學第十冊第7單元 柱體、錐體和球體 後測評量試題

鷺江國小 五年五班 座號_____ 姓名_____ 家長簽名_____

一、下面各形體中，是柱體的打√，
不是的打×：每題3分，共18分

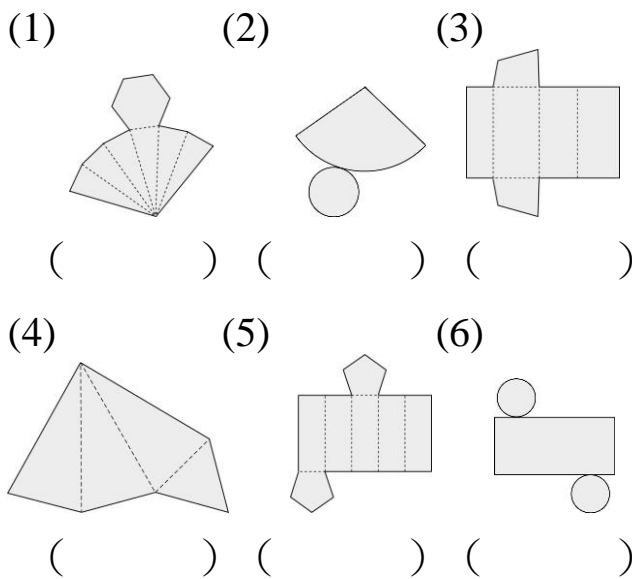


二、寫出下面形體各部位的名稱：
每格4分，共8分

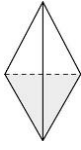
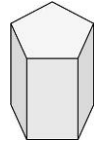

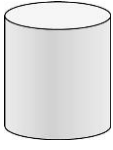


三、填填看：每格5分，共10分
將球平分割成一半，剖面是
()形，剖面的圓心就是
球體的()。

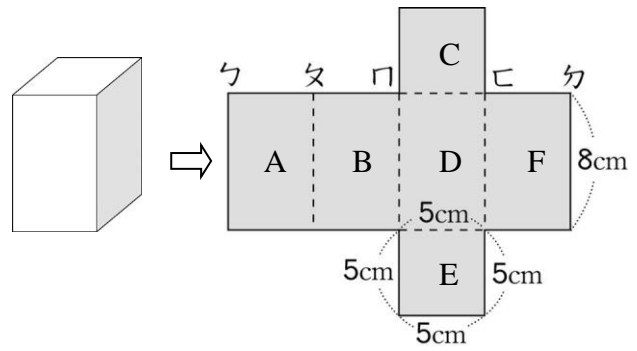
四、寫出下面各展開圖的形體名稱：
每題4分，共24分



五、完成下表：每答1分，共25分

形體				
項目				
形體名稱				
底面個數				
側面個數				
底面形狀				
側面形狀				
面的個數				
頂點個數				

六、看圖回答問題：每格3分，共15分



- 展開圖中，哪些面是原四角柱的底面？()
- 底面的形狀是()形。
- 展開圖中，哪些面是原四角柱的側面？()
- 側面的形狀是()形。
- $\overline{ㄅㄅ}$ 、 $\overline{ㄅㄆ}$ 、 $\overline{ㄆㄆ}$ 和 $\overline{ㄆㄅ}$ 合起來是()公分。